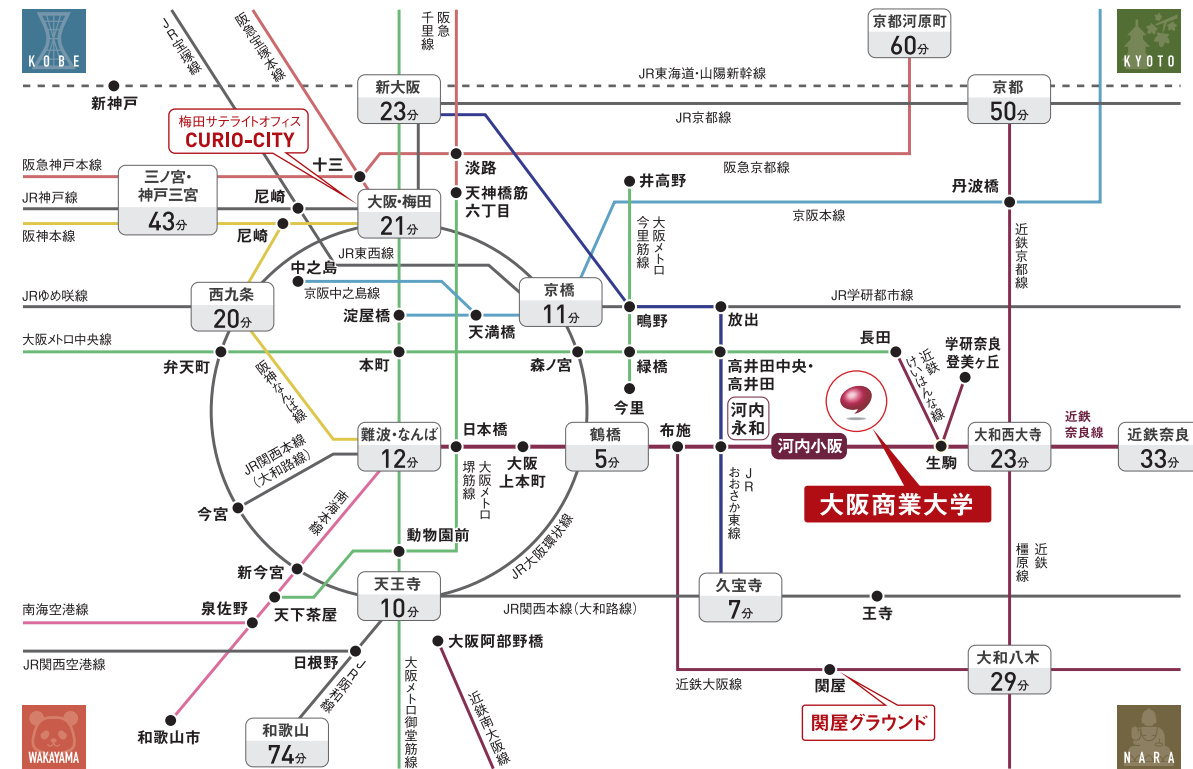
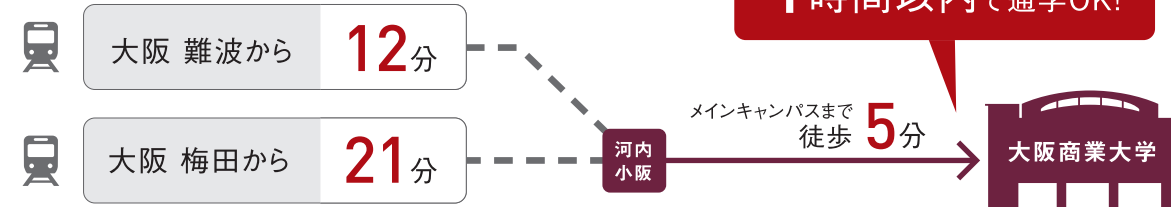


Access Map

電車でのアクセス



車でアクセス



※来学の際は、できるだけ公共交通機関をご利用ください。なお、在学生は車での通学はできません。



〒577-8505 大阪府東大阪市御厨栄町4-1-10 [TEL] 06-6787-2424 [FAX] 06-6781-8438
 nyugaku@ouc.wv.daishodai.ac.jp https://ouc.daishodai.ac.jp



大阪商業大学 入試ガイド&問題集 2023 Osaka University of Commerce

2023 入試ガイド& 問題集



本学は、入学試験の実施におきまして文部科学省からの指針（「大学入学者選抜実施要項」、「大学入学者選抜に係る新型コロナウイルス感染症に対応した試験実施のガイドライン」）に基づき、受験生が安心して受験できる環境を確保することを目的として、感染拡大の防止策を十分に講じるため、入学試験実施ガイドラインを定めています。新型コロナウイルス感染症の拡大や情勢の変化等に応じて、**随時本学公式Webサイトから情報を発信しますので、受験生の皆さまは必ず確認**してください。発信する情報には、受験生へのお願い・連絡事項や試験実施における本学の対応に加え、受験生が新型コロナウイルス感染症等に罹患した場合あるいは濃厚接触（疑いも含む）の場合、別日程への試験日の振替や予備面接の実施について告知します。

2023年度 入学試験のポイント

Point 1 Web出願（インターネット出願）が利用可能！ 詳細はP.10 →

PC、スマートフォン、タブレットから24時間いつでも簡単に出願手続きが可能です。

Point 2 自分にあう入学試験制度が選択可能！ 詳細はP.4、P.12～37 →

「AO入学試験」「資格公募制入学試験」「一般入学試験」など特徴のある入学試験を実施します。自分にあう入学試験制度でチャレンジしてください。

Point 3 最大4学科志望可能！ 詳細はP.6 →

対象の入学試験制度において、最大4学科まで志望することができます。4学科まで志望しても、入学検定料の追加は必要ありません。

Point 4 同時出願で合格のチャンスが広がる！ 詳細はP.7 →

同時期に実施する他の入学試験制度を同時出願することができます。同時出願の場合でも、入学検定料の追加は必要ありません。

Point 5 新入生奨学金制度が充実！ 詳細はP.9 →

対象の入学試験制度において、260,000円（学費の1/4相当額）、または520,000円（学費の1/2相当額）の新入生奨学金を給付します。

Point 6 無料宿泊サービスを実施！ 詳細はP.45 →

遠方からお越しの受験生も安心して入学試験に臨めるように、試験日前日の無料宿泊サービスを実施しています。

INDEX

アドミッションポリシーと募集人員	2
入学試験カレンダー	4
入学検定料減免制度	6
入学検定料・学費減免制度	8
新入生奨学金制度・資格講座受講料無料・入学手続時納入金振替制度	9
Web出願（インターネット出願）の流れ	10

AO入学試験A日程・B日程	12
資格利用入学試験	14
全商協会資格利用入学試験	16
公募制入学試験A日程	18
公募制入学試験B日程	19
資格公募制入学試験A日程・B日程	20
スポーツ活動実績利用入学試験 前期	22
スポーツ活動実績利用入学試験 後期	24

指定校推薦入学試験	26
-----------	----

一般入学試験前期A日程・B日程〈3科目方式〉	28
一般入学試験前期A日程・B日程〈2科目方式〉	29
一般入学試験後期C日程〈2科目方式〉	30

大学入学共通テスト利用A日程・B日程・C日程〈3科目判定方式〉〈2科目判定方式〉	31
--	----

海外留学公募制入学試験〈GETコース選抜〉資格型A日程・B日程	32
海外留学公募制入学試験〈GETコース選抜〉基礎テスト型A日程・B日程	33

海外留学一般入学試験〈GETコース選抜〉A日程・B日程・C日程	34
---------------------------------	----

外国人留学生入学試験	35
社会人入学試験〈1年次入学制〉〈3年次入学制〉	36
編入学・転入学試験	37

2022年度入学試験結果	40
学費・奨学金・その他の制度	44
入学手続方法・受験生無料宿泊のご案内	45
Q&A	46
過去3年間の志願者出身高校	48
都道府県別在籍者数	50
2022年度入学試験問題	51
入学試験要項の入手方法・オープンキャンパスについて・WEBオープンキャンパスについて	93

アドミッションポリシーと募集人員

アドミッションポリシーとは (入学者受入れの方針)

能力・意欲・経験など、大学が入学者に求める学生像をまとめたもの。求める学生像は4学科で異なりますが、本学では建学の理念「世に役立つ人物の養成」に基づき、学ぶ意欲と能力を保有する、チャレンジ精神旺盛な人物を求めます。

経済学部 | 経済学科

募集人員：300名

求める学生像

- 世の中の経済の動きについて理解を深めたい。
- 貧困の克服や格差の是正について学びたい。

- 特色あるものづくりに関心がある。
- 中小企業の課題について学びたい。

- 環境問題について学びたい。
- 安心して安全な食や住まいに関心がある。

- 金融や証券の仕組みに関心がある。
- 不動産資産の有効活用に関心がある。

- 国や地方自治体の財政に関心がある。
- 地域経済について学びたい。

育成方針

市場の適切な活用によって、人々の暮らしを向上させ、社会を豊かにさせることを目指す学問が「経済学」であり、この学修を通して、消費者や企業、国が直面するさまざまな経済問題を解決できる人物を育成します。

総合経営学部 | 商学科

募集人員：150名

求める学生像

【流通分野】

- 小売業や卸売業の歴史、現在の状況、将来の姿について学びたい。
- 商品が生産されてから、卸売業や小売業を経て消費者が購入し、廃棄されるまでに関心がある。
- 商品の輸入や輸出に関心がある。
- 生産者から消費者に商品が届くまでに必要とされる情報や情報処理技術について学びたい。
- 商品の仕入れや販売などビジネスに必要な法律について学びたい。
- 商業について教える教員や、小売業や卸売業の経営についてアドバイスする仕事につきたい。

【マーケティング分野】

- ヒット商品が生まれるまでに、どのような工夫がなされたのかに興味がある。
- 消費者の買物行動や消費者心理について学びたい。
- 商品の製造原価、仕入れ価格や販売価格などに興味がある。
- 新しい商品の開発や仕入れの仕事につきたい。
- 販売や営業など人と接する仕事につきたい。
- 小売業、外食産業、サービス業など自分の店を持ちたい。

育成方針

流通分野では卸売・小売、物流、金融、情報に精通し、グローバル化や情報化などの環境変化に対応して企業間の取引関係を見直し、また新たな取引関係を構築できる人物を育成します。マーケティング分野では、市場のニーズをとらえ、新規事業開発、新商品・新サービス開発などの企画および実践を担う人物を育成します。

総合経営学部 | 経営学科

募集人員：400名

求める学生像

【企業経営分野】

- 企業の仕組みや組織・運営に関心がある。
- 企業の海外進出や輸出入など国際的に活動する仕事に関心がある。
- 社会において企業が果たすべき責任について関心がある。
- 産業や企業経営の歴史を学びたい。
- 企業経営に必要な法律を学びたい。
- 自ら事業を起こして、経営者になりたい。

【簿記・会計および情報処理分野】

- 簿記・会計に興味・関心がある。
- 企業における売上や利益の管理・分析に関心がある。
- 簿記・会計の知識や技能をさらに伸ばしたい。
- 情報産業やコンピュータに興味・関心がある。
- 情報処理の知識や技術を生かせる仕事につきたい。

育成方針

企業において、人材、資金、設備、情報など経営資源の効率的・効果的な活用や管理のできる人物を育成します。さらに企業経営に必要な簿記・会計や情報処理などに関する知識をもち、国際感覚を身につけ、変化する企業環境の中で広い視野に立って総合的に判断できる人物を育成します。

公共学部 | 公共学科

募集人員：250名

求める学生像

【スポーツと社会参加コース】

- スポーツに関わる仕事につきたい。
- 公務員などの仕事につきたい。
- 企業などの仕事を通して地域社会に貢献したい。
- NPO やボランティアなどによる社会貢献活動や地域の活性化に関心がある。

【地域と社会参加コース】

- 公務員などの仕事につきたい。
- 企業などの仕事を通して地域社会に貢献したい。
- 地域の観光に関わる仕事につきたい。
- NPO やボランティアなどによる社会貢献活動や地域の活性化に関心がある。

【公共とビジネスコース】

- 企業などの仕事を通して地域社会に貢献したい。
- NPO やボランティアなどによる社会貢献活動や地域の活性化に関心がある。
- 公務員などの仕事につきたい。
- 環境や福祉・文化に関心をもち、その事業化や運営に携わりたい。

育成方針

国や地方自治体、および非営利団体や企業などの民間組織の仕組みや運営方法を理解し、地域社会や地域間交流に貢献できる人物を育成します。

選抜方法

一般選抜、学校推薦型選抜及び総合型選抜を中心とした入学者選抜に加え、その他の入学者選抜を行う。これにより入学志願者の能力・意欲・適性等を多面的に評価し、多様な人材を受け入れることを目指す。

一般選抜

(1) 一般入学試験

本学で学ぶうえで必要な学力を評価するために、3科目または2科目(国語、英語、日本史、世界史、現代社会・政治経済、数学)の学力試験を課し、合否を判定する。

(2) 大学入学共通テスト利用

本学で学ぶうえで必要な学力を評価するために、大学入学共通テストで受験した科目(3科目または2科目)で合否を判定する。なお、本学独自の学力試験は課さない。

(3) 海外留学一般入学試験

本学における海外留学を必修とする教育課程で学ぶうえで必要な能力を評価するため、一般入学試験に面接・口頭試問を組み合わせ実施する。面接・口頭試問においては、目的意識や適性等の確認及び多面的評価(表現力、論理性、理解力、積極性等)を行い、合否を判定する。

学校推薦型選抜

(1) 指定校推薦入学試験

本学で学ぶうえで必要な高等学校での学習の達成度を確認するための調査書と、面接・口頭試問において、多面的評価(表現力、論理性、理解力、積極性等)を行い、合否を判定する。

総合型選抜

(1) AO 入学試験、スポーツ活動実績利用入学試験

本学で学びたいという強い意欲及び目的意識や適性等を確認するために、事前審査を実施し、出願を許可する。書類審査において、調査書から高等学校での学習の達成度を確認を行うとともに、面接・口頭試問において、多面的評価(表現力、論理性、理解力、積極性等)を行い、合否を判定する。

(2) 資格利用入学試験、全商協会資格利用入学試験

書類審査において、調査書から高等学校での学習の達成度を確認を行うとともに、証明書類から資格・検定の取得実績を確認し、面接・口頭試問においては、多面的評価(表現力、論理性、理解力、積極性等)を行い、合否を判定する。

(3) 公募制入学試験

本学で学ぶうえで必要な高等学校での学習の達成度を確認するための基礎テスト(国語と選択科目<英語、日本史、現代社会、数学>)と調査書(全体の「学習成績の状況」を点数化)により合否を判定する。なお、志願者が出願時に基礎テストのみで判定を行うのか、基礎テストと調査書で判定を行うのかを選択する。

(4) 資格公募制入学試験

本学で学ぶうえで必要な高等学校での学習の達成度を確認するための基礎テスト(国語と選択科目<英語、日本史、現代社会、数学、簿記・会計>)と調査書(全体の「学習成績の状況」を点数化)に加え、取得した資格(資格を点数化)により合否を判定する。

(5) 海外留学公募制入学試験

本学における海外留学を必修とする教育課程で学ぶうえで必要な能力を評価するため、公募制入学試験に面接・口頭試問を組み合わせ実施する。面接・口頭試問においては、目的意識や適性等の確認及び多面的評価(表現力、論理性、理解力、積極性等)を行い、合否を判定する。

その他の入学試験

(1) 社会人入学試験

社会人を対象に、書類審査において、調査書から高等学校での学習の達成度を確認を行うとともに、面接・口頭試問において、多面的評価(表現力、論理性、理解力、積極性等)を行い、合否を判定する。

(2) 外国人留学生入学試験

外国籍を有する者を対象に、日本語の筆記試験において、本学で学ぶうえで必要な日本語能力を確認し、面接・口頭試問において、目的意識や適性等の確認及び多面的評価(日本語力、向学心、熱意等)を行い、合否を判定する。

(3) 編入学試験及び転入学試験

書類審査及び面接・口頭試問において、目的意識や適性等の確認及び多面的評価(表現力、論理性、理解力、積極性等)を行い、合否を判定する。

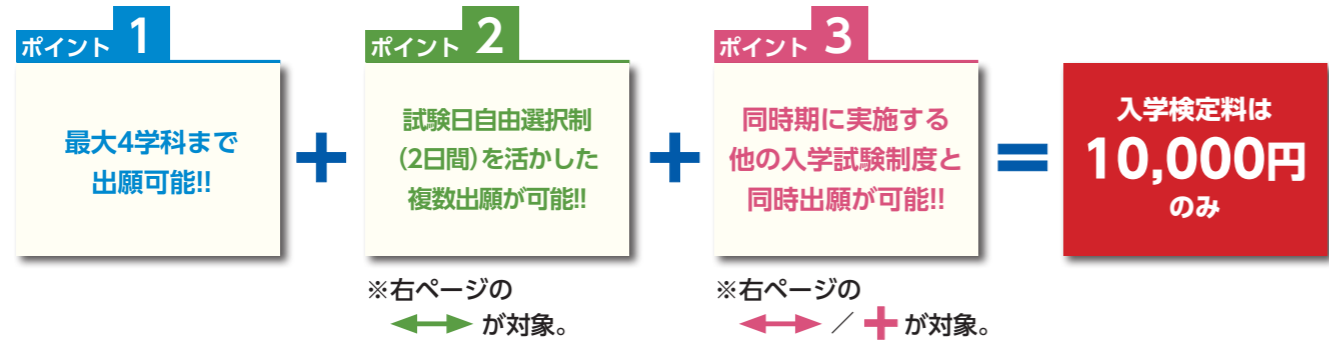
入学試験カレンダー

出…出願期間 試…試験日 合…合否発表

		2022年 8月	9月	10月	11月	12月	2023年 1月	2月	3月	
P.12	AO入学試験 〈自己アピール型〉 〈総合探究型〉	出願時 専願	A日程	事前審査申込8/1月~8/21日	事前審査日9/3土or4日 出 9/20火~9/30金	試10/15土	合 11/1火			
	B日程			事前審査申込10/11火~10/27木	事前審査日11/12土 出 11/15火~11/25金	試 12/3土 合 12/9金				
P.14	資格利用入学試験	専願		出 9/20火~10/7金	試10/22土	合 11/1火				
P.16	全商協会資格利用入学試験	専願		出 9/20火~10/7金	試10/22土	合 11/1火				
P.18	公募制入学試験 〈調査書型〉 〈基礎テスト型〉	専願	A日程		出10/17月~10/28金	試 11/5土・6日 合 11/11金				
			B日程			出 11/14月~11/25金	試 12/3土・4日 合 12/9金			
P.20	資格公募制入学試験	専願	A日程		出10/17月~10/28金	試 11/5土 合 11/11金				
			B日程			出 11/14月~11/25金	試 12/3土 合 12/9金			
P.22	スポーツ活動実績利用入学試験 前期	専願		事前審査申込締切10/7金	出 10/25火~	11/8火 試 11/21月	合 12/2金			
P.24	スポーツ活動実績利用入学試験 後期	専願					事前審査申込締切1/20金	出 2/1火~2/15火	試 2/25土 合 3/3金	
P.26	指定校推薦入学試験	専願			出 11/1火~11/12土	試11/26土or27日 合 12/2金				
P.28	一般入学試験前期〈3科目方式〉	専願	A日程				出 1/1日~1/20金	試 1/28土・29日 合 2/3金		
			B日程					出 2/1火~2/17金	試 2/24金・25土 合 3/3金	
P.29	一般入学試験前期〈2科目方式〉	専願	A日程				出 1/1日~1/20金	試 1/28土・29日 合 2/3金		
			B日程					出 2/1火~2/17金	試 2/24金・25土 合 3/3金	
P.30	一般入学試験後期〈2科目方式〉	専願						出 2/20月~3/5日	試 3/10金 合 3/15火	
P.31	大学入学共通テスト利用 〈3科目判定方式〉 〈2科目判定方式〉	専願	A日程	本学独自の学力試験は行いません。 ※令和5年度大学入学共通テスト (2023年1/14(土)・15(日)実施)の 結果で選考。				出 1/1日~1/20金	合 2/10金	
			B日程						出 2/1火~2/17金	合 3/3金
			C日程							出 2/20月~3/5日
P.32	海外留学公募制入学試験 〈GETコース選抜〉資格型	専願	A日程		出10/17月~10/28金	試 11/6日 合 11/11金				
			B日程			出 11/14月~11/25金	試 12/4日 合 12/9金			
P.33	海外留学公募制入学試験 〈GETコース選抜〉基礎テスト型	専願	A日程		出10/17月~10/28金	試 11/6日 合 11/11金				
			B日程			出 11/14月~11/25金	試 12/4日 合 12/9金			
P.34	海外留学一般入学試験 〈GETコース選抜〉	専願	A日程				出 1/1日~1/20金	試 1/28土 合 2/3金		
			B日程					出 2/1火~2/17金	試 2/25土 合 3/3金	
			C日程						出 2/20月~3/5日	試 3/10金 合 3/15火
P.35	外国人留学生入学試験	専願			出 11/7月~11/21月	試 12/3土 合 12/9金				
P.36	社会人入学試験〈1年次入学制〉〈3年次入学制〉	専願		事前審査申込9/20火~10/7金 事前審査日10/15土	出10/17月~10/28金	試 11/5土 合 11/11金				
P.37	編入学・転入学試験	専願					出 2/1火~2/10金	試 2/25土 合 3/3金		

入学検定料減免制度

Web出願(インターネット出願)なら、入学検定料10,000円で合格のチャンスが広がります。
 ※専願入試の入学検定料は35,000円です。
 ※大学入学共通テスト利用のみに出願される場合、入学検定料は5,000円です。



ポイント 1 最大4学科まで志望可能 ※志望順位に従って合否判定を行います。

例えば・・・



【対象の入学試験制度】

- 公募制入学試験A日程・B日程
- 一般入学試験前期A日程・B日程
- 大学入学共通テスト利用A日程・B日程・C日程
- 資格公募制入学試験A日程・B日程
- 一般入学試験後期C日程

ポイント 2

試験日自由選択制(2日間)を活かした複数出願が可能!!

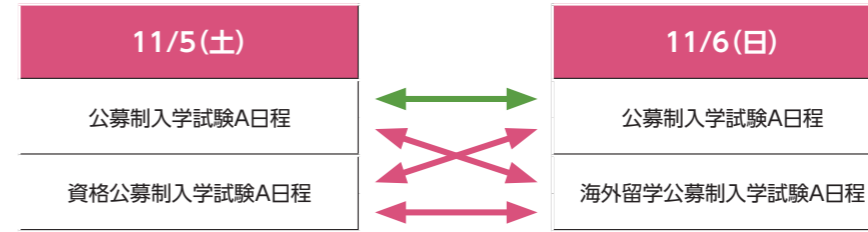
試験日自由選択制の入学試験では、1日でも2日間でも出願することが可能です。
 2日間とも出願した場合でも入学検定料は10,000円のみです。

【対象の入学試験制度】

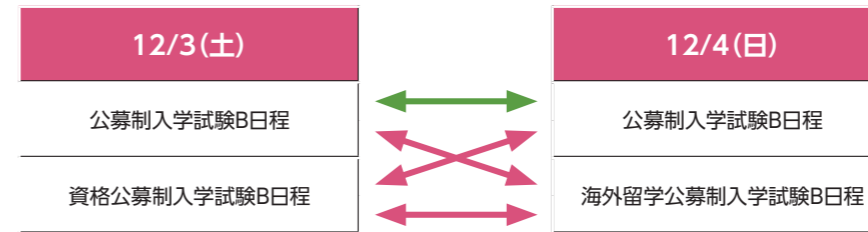
- 公募制入学試験A日程・B日程
- 一般入学試験前期A日程・B日程

ポイント 3 各実施月で、下記の組み合わせで同時出願する場合、入学検定料は10,000円のみで併願OKです。

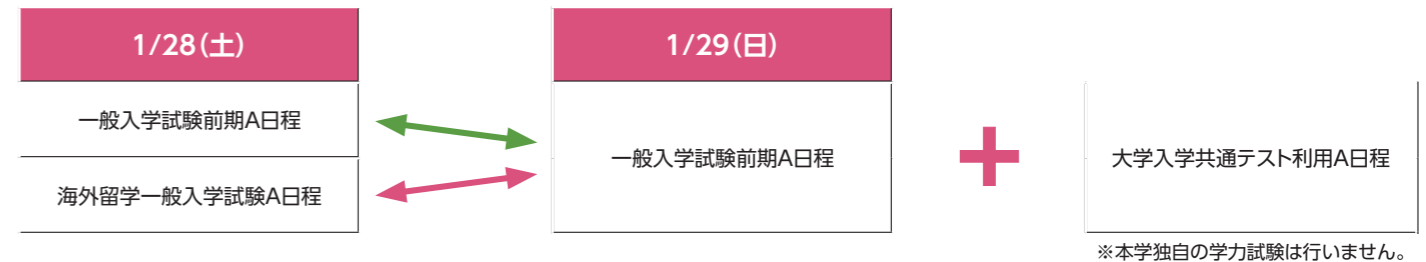
【11月実施分】



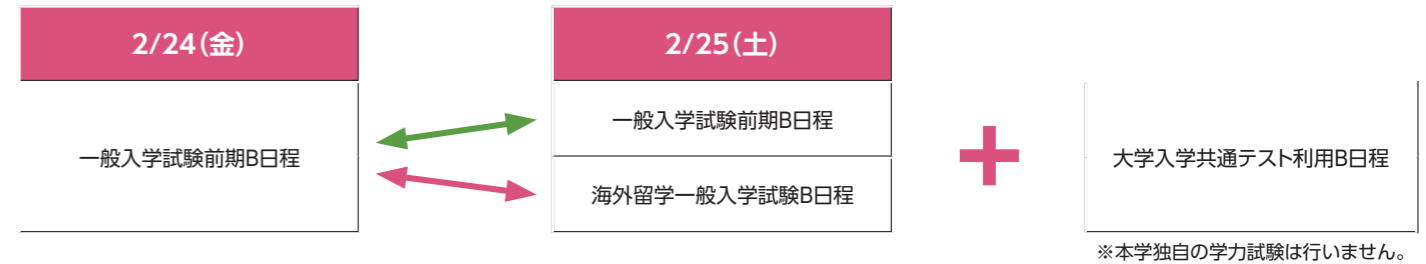
【12月実施分】



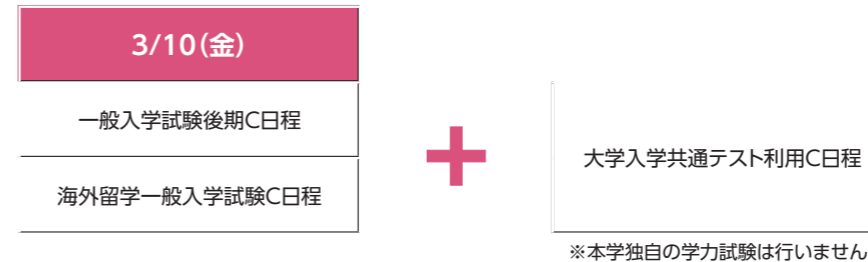
【1月実施分】



【2月実施分】



【3月実施分】



入学検定料

入学試験制度	出願方法	入学検定料(1出願)
総合型選抜(AO入学試験及びスポーツ活動実績利用入学試験における事前審査料は無料です。)		
AO入学試験A日程・B日程	専用願書	35,000円
資格利用入学試験	Web出願	35,000円
全商協会資格利用入学試験	専用願書	35,000円
公募制入学試験A日程・B日程	Web出願	10,000円
資格公募制入学試験A日程・B日程	Web出願	10,000円
スポーツ活動実績利用入学試験 前期・後期	Web出願	35,000円
学校推薦型選抜		
指定校推薦入学試験	Web出願	35,000円
一般選抜		
一般入学試験前期A日程・B日程	Web出願	10,000円
一般入学試験後期C日程	Web出願	10,000円
一般選抜(大学入学共通テスト)		
大学入学共通テスト利用A日程・B日程・C日程	Web出願	5,000円
GETコース選抜		
海外留学公募制入学試験<GETコース選抜>A日程・B日程	Web出願	10,000円
海外留学一般入学試験<GETコース選抜>A日程・B日程・C日程	Web出願	10,000円
その他		
外国人留学生入学試験	専用願書	35,000円
社会人入学試験<1年次入学制><3年次入学制>	専用願書	35,000円
編入学・転入学試験	専用願書	35,000円

※大学入学共通テスト利用と他の入学試験制度を同時出願する場合、入学検定料は10,000円になります。

※インターネットの環境がない方は、「専用願書(本学所定様式)」による出願も対応可能です。

お問い合わせ：TEL 06-6787-2424 (広報入試課直通)

学費減免制度

対象の入学試験制度	減免額
全商協会資格利用入学試験	本制度による入学者は、入学金を半額免除、学費は4年間半額免除 ※入学後、進級時の成績基準に従い、成績不振者は減免適用を停止する場合があります。
海外留学公募制入学試験<GETコース選抜>A日程・B日程	GETコース履修生は、授業料を4年間半額免除(※1)、留学先の学費(※2)は無料 ※1 GETコースを途中で離脱した場合は、離脱した次学期から学費等の減免は適用されません。 ※2 渡航にかかる費用・現地での生活費等は自己負担
海外留学一般入学試験<GETコース選抜>A日程・B日程・C日程	

新入生奨学金制度

対象の入学試験制度	対象者	給付金額	給付方法
一般入学試験前期A日程	入試成績上位者	520,000円 (学費の1/2相当額) ※入学年次のみ適用	入学後、4月下旬に一括給付
一般入学試験前期B日程			
指定校推薦入学試験チャレンジ制度	成績上位者	260,000円 (学費の1/4相当額) ※入学年次のみ適用	入学後、4月下旬に一括給付
公募制入学試験A日程	入試成績上位者		
資格利用入学試験	A区分該当者	520,000円 (学費の1/2相当額) ※入学年次のみ適用 ※入学金半額免除 (110,000円)	入学後、4月下旬に一括給付
	B区分該当者		

資格講座の受講料が無料

対象の入学試験制度	特典
資格利用入学試験	本制度による入学者は、本学が開講している資格講座の受講料が無料(年間2講座、4年間で最大8講座まで)
資格公募制入学試験A日程・B日程	
全商協会資格利用入学試験	
海外留学公募制入学試験<GETコース選抜>A日程・B日程	GETコース履修生は、本学が開講している資格講座の受講料が無料(年間2講座)
海外留学一般入学試験<GETコース選抜>A日程・B日程・C日程	

※入学後の成績不振者は、受講料無料の特典を停止する場合があります。

入学手続時納入金振替制度

本学のいずれかの学部・学科に合格し、入学手続時納入金を納めた後、他の入学試験制度において他の学部・学科に合格した場合、納入済みの入学手続時納入金を全額振り替えることができます。

【対象の入学試験制度】

- 公募制入学試験A日程・B日程
- 資格公募制入学試験A日程・B日程
- 一般入学試験前期A日程・B日程
- 一般入学試験後期C日程
- 海外留学公募制入学試験<GETコース選抜>A日程・B日程
- 海外留学一般入学試験<GETコース選抜>A日程・B日程・C日程
- 大学入学共通テスト利用A日程・B日程・C日程

Web 出願（インターネット出願）の流れ

パソコン、スマートフォン、タブレットの操作で、手続きが簡単・便利にできます。

入学検定料の納入は、最寄りのコンビニ窓口やクレジットカード等で24時間納入ができます。

出願書類（調査書・顔写真等）を送付すれば出願完了です。

STEP1 事前準備

- 出願書類は、発行に時間を要する場合もあるため、余裕をもって準備してください。
- 出願確認メールを受取るEメールアドレスを準備してください。

STEP2 インターネット出願サイトへのアクセス

大阪商業大学 トップページ 検索
(<https://ouc.daishodai.ac.jp>)



または
(本学公式Webサイト)

受験ポータルサイト「UCARO」(<https://www.ucaro.net/>)からもログイン可能です。

ログイン後、大学一覧の大阪商業大学から「出願」をクリックしてください。



(UCARO)

STEP3 インターネット出願登録 ※各入学試験制度の出願期間にご確認ください

- [出願登録する] ボタンをクリックして開始してください。
- ガイダンスに従い、入学試験制度や志望学部・学科、入学検定料の納入方法などを選択するとともに、住所・氏名などの個人情報を入力してください。

STEP4 入学検定料の支払い

- 選択した納入方法に従って、納入期限までに入学検定料を納入してください。
【注意】 1. 入学検定料が期限までに納入されない場合は、登録データが無効になります。
2. 入学検定料の他に支払い手数料が必要です。
3. コンビニや金融機関ATM等の営業時間は各施設によって異なりますので、よく確認してください。
4. 一旦支払われた入学検定料は返金致しませんので、ご注意ください。

STEP5 出願書類を送付（調査書・顔写真等）

- 出願書類を確認して、出願期間内に郵便局窓口から広報入試課宛に郵送してください。
(簡易書留・速達／締切日消印有効)
- 2回目以降の出願の場合でも、出願書類の再提出が必要です。

出願完了

〈受験票発行・印刷について〉

出願書類を本学で受理した後、志願者登録が完了すると、UCAROで受験票が発行されます。各自で印刷して、試験当日にご持参ください。
※必ずA4サイズ、白色の用紙で印刷してください。
※郵送はしていませんのでご注意ください。
※スマートフォンの画面表示での受験は認めません。

〈UCARO（ウカロ）の利用について〉

本学のWeb出願は、「受験ポータルサイトUCARO」のシステムを利用しています。出願には、UCAROへの会員登録（無料）が必須となります。ログインのうえ出願すると、出願状況の確認、受験票の印刷、合否照会等が可能になります。UCAROにログインするためには、ID・パスワードの設定が必要です。設定方法はUCAROの手順に従って登録を行ってください。

<https://www.ucaro.net/>

[@ucaro.net] [@oucow.daishodai.ac.jp]からの通知が受信できるよう、ドメイン受信拒否設定を変更してください。

※アカウント情報（氏名・住所等）を登録しておくこと、Web出願時に個人情報の入力が簡単になります。
※他大学出願時にUCARO会員登録を完了している場合は、その際のID・パスワードを利用することができます。

〈Q & A〉

Qメールアドレスは必要ですか？

A UCARO会員登録の際に必要です。また、出願時には出願登録完了や入学検定料の支払い完了のメールを送信します。
なお、メールアドレスは出願内容の確認や入学試験に関する連絡等にも使用しますので、必ず受信出来るよう設定をお願いします。

Qプリンターがなくても出願できますか？

A 一部の入学試験では、出願書類のダウンロード・印刷が必要になります。
また、受験票をUCAROで各自印刷（A4サイズ・白色）したうえで、入試当日に持参いただく必要があります。自宅にプリンターがない場合は、学校等で印刷できるか事前に確認しておいてください。

Q出願登録後、入力内容の間違いに気づいた場合、変更は可能ですか？

A 出願期間内で、入学検定料の支払い前であれば、変更が可能です。
「出願内容を確認・変更する（ログイン）」ボタンを押してログインして、変更してください。

Q封筒の指定はありますか？

A 市販の角2封筒を使用してください。
市販の封筒に、宛名ラベルを印刷して貼り付けてください。宛名ラベルが印刷できない場合は「出願番号」「住所」「氏名」を封筒の表面に必ず記入してください。

Qパソコンやスマートフォンを持っていない場合でも出願できますか？

A 出願できます。広報入試課までご連絡ください。
広報入試課 TEL 06-6787-2424 (直通)

AO入学試験 A日程・B日程 総合型 選抜

事前審査申込資格 以下の①および②に該当する者。

①次のいずれかに該当する者。

- 高等学校もしくは中等教育学校を卒業した者、または、2023年3月卒業見込みの者。
- 通常の課程による12年の学校教育を修了した者、または、2023年3月修了見込みの者。
- 学校教育法施行規則第150条の規定により、高等学校を卒業した者と同等以上の学力があると認められる者、または、2023年3月までにこれに該当する見込みの者。

②建学の理念「世に役立つ人物の養成」に共感し、本学の求める学生像(アドミッションポリシー(P.2参照))を理解する者。

日程	事前審査申込期間(最終日必着)	事前審査日	事前審査結果通知日	必要書類
A日程	2022年 8/1(月)～8/21(日)	2022年 9/3(土) または 9/4(日) ※どちらか1日になります。	2022年 9/9(金)	(自己アピール型) ・事前審査シート ・事前審査課題 (総合探究型)
B日程	2022年 10/11(火)～10/27(木)	2022年 11/12(土)	2022年 11/14(月)	・事前審査シート ・活動シート ※本学公式Webサイトからダウンロード

※事前審査結果は、本学公式Webサイトで発表します。

事前審査会場	事前審査料	事前審査
本学	無料	提出書類にもとづく個別面談

申し込み種別

申し込みの際にⅠ・Ⅱのいずれかを選択してください。

Ⅰ. 自己アピール型

本学が提示する複数の課題から選択し、自身の学習・課外・社会体験をもとに意見を述べてください。

Ⅱ. 総合探究型

「総合的な探究(学習)の時間」での学びをもとに、本学での学習の必要性を述べてください。

出願資格 本学のアドミッションオフィスによる事前審査で出願が許可され、本学を専願とする者。

出願時
専願

日程	出願期間(消印有効)	試験日	合否発表日	入学手続締切日
A日程	2022年 9/20(火)～9/30(金)	2022年 10/15(土)	2022年 11/1(火)	1次 2022年 11/15(火)
				2次 2022年 12/15(木)
B日程	2022年 11/15(火)～11/25(金)	2022年 12/3(土)	2022年 12/9(金)	1次 2023年 1/5(木)
				2次 2023年 1/26(木)

試験会場

本学

募集人員

学部	学科	募集人員
経済学部	経済学科	60名
総合経営学部	経営学科	
	商学科	
公共学部	公共学科	

※募集人員は、AO入学試験A日程・B日程を合計した人数です。

選考方法

書類審査及び面接・口頭試問による総合選考

入学検定料

35,000円

Point

- あなたの将来の可能性と本学の建学の理念や求める学生像とのマッチングを重視します。
- A日程で出願許可されなかった場合、B日程に再チャレンジできます。

A日程	B日程	STEP	内容	備考
7/10(日) 公開	9/26(月) 公開	STEP 1	必要書類の確認 本学公式Webサイトからダウンロードして作成 自己アピール型[事前審査シート][事前審査課題] 総合探究型[事前審査シート][活動シート]	審査希望者
8/1(月) 8/21(日) ※必着	10/11(火) 10/27(木) ※必着	STEP 2	必要書類の提出 自己アピール型[事前審査シート][事前審査課題] 総合探究型[事前審査シート][活動シート]	大商大 ← 審査希望者
8月下旬	11月初旬	STEP 3	事前審査日の通知 本人へ事前審査日のお知らせを郵送	大商大 → 審査希望者
9/3(土) または 9/4(日) ※どちらか1日 になります。	11/12(土)	STEP 4	事前審査 アドミッションオフィスによる個別面談 (約30分程度)	審査希望者
9/9(金)	11/14(月)	STEP 5	事前審査結果通知 本学公式Webサイトで審査結果を発表 出願許可者には専用願書を郵送	大商大 → 審査希望者
9/20(火) 9/30(金)	11/15(火) 11/25(金)	STEP 6	出願期間(出願書類の作成・提出) 「出願書類」「自己申告書」「調査書」 入学検定料の納入	大商大 ← 出願許可者
随時	随時	STEP 7	受験票の発行・送付 志願者へ受験票を郵送	大商大 → 志願者
10/15(土)	12/3(土)	STEP 8	試験日 書類審査及び面接・口頭試問	受験者
11/1(火)	12/9(金)	STEP 9	合否発表日 受験者に合否通知を郵送 高校には合否結果を郵送	大商大 → 受験者

【事前審査書類の送付方法】

角2封筒(ニツ折厳禁)に「事前審査シート」、「事前審査課題」または[活動シート]の原本を同封し、簡易書留速達でアドミッションオフィス宛に郵送してください。「事前審査シート」、「事前審査課題」または[活動シート]は、各自でコピーをして事前審査当日に持参してください。

封筒の表面には、「AO入学試験 事前審査書類在中」と朱書きしてください。

封筒の裏面には、審査希望者の住所・氏名を必ずご記入ください。

※[事前審査課題]は自己アピール型のみ。[活動シート]は総合探究型のみ。

【郵送先】

〒577-8505 大阪府東大阪市御厨栄町4-1-10 大阪商業大学アドミッションオフィス 行

資格利用入学試験

奨学金
制度

専願

総合型
選抜

出願資格 調査書の「全体の学習成績の状況」が3.3以上(出願時直近の学期末までの総欠席日数が20日以内)で、以下の①と②～⑤のいずれかに該当し、かつ、本学が指定する対象資格のいずれかを取得した者。(対象資格一覧は右ページをご覧ください)

- ①本学を専願とする者。
 - ②高等学校もしくは中等教育学校を2023年3月卒業見込みの者。
 - ③通常の課程による12年の学校教育を2023年3月修了見込みの者。
 - ④文部科学大臣が指定した専修学校の高等課程において、修業年限3年以上の課程を2023年3月修了見込みの者。
 - ⑤本学において、相当の年齢に達し、高等学校を卒業した者と同等以上の学力があると認められた者。ただし、2023年3月に、これに該当する見込みの者に限る。
- ※⑤に該当する方は、8月31日(水)までに広報入試課へご連絡ください。

出願期間(消印有効)	試験日	合否発表日	入学手続締切日	
2022年 9/20 (火)～ 10/7 (金) Web出願・書類郵送	2022年 10/22 (土)	2022年 11/1 (火)	1次	2022年 11/15 (火)
			2次	2022年 12/15 (木)

試験会場

本学

選考方法

書類審査及び面接・口頭試問による総合選考

入学検定料

35,000円

募集人員

学部	学科	募集人員
経済学部	経済学科	60名
総合経営学部	経営学科	
	商学科	
公共学部	公共学科	

Point

●【A区分】【B区分】に該当する入学者には新入生奨学金を給付します。

【A区分】

- (1) 調査書の「全体の学習成績の状況」が4.0以上の者。
- (2) 次の1または2の条件を満たしている者。
 1. 全商簿記実務検定1級(会計科目、原価計算科目のうち1科目合格も可)と他の検定試験3級以上を1種目以上合格している者。
 2. 全商情報処理検定1級(ビジネス情報部門、プログラミング部門のうち1部門合格も可)と他の検定試験3級以上を1種目以上合格している者。

※検定試験は、公益財団法人全国商業高等学校協会主催の検定試験とする。

新入生奨学金 ※入学年次のみ適用

給付金額 **520,000円(学費の1/2相当額)** 給付方法 入学後、4月下旬に一括給付

※入学金は半額免除 220,000円→110,000円

【B区分】

- (1) 調査書の「全体の学習成績の状況」が3.3以上の者。
 - (2) 対象資格一覧(右ページ)の検定分野が異なる2分野以上から資格を取得した者。
- ※出願時に2分野以上から資格を取得していることが条件となります。

新入生奨学金 ※入学年次のみ適用

給付金額 **260,000円(学費の1/4相当額)** 給付方法 入学後、4月下旬に一括給付

●本制度による入学者は、本学が開講している**資格講座の受講料が無料**です。
(年間2講座、4年間で最大8講座まで)

対象資格一覧

検定分野	対象資格・検定	主催団体名等	出願対象 等級・スコア
情報処理	基本情報技術者	独立行政法人 情報処理推進機構	合格
	ITパスポート		合格
	情報処理検定(ビジネス情報部門またはプログラミング部門)	公益財団法人 全国商業高等学校協会	2級以上
	ICTプロフィシエンシー検定	ICTプロフィシエンシー検定協会	準2級以上
	情報技術検定	公益社団法人 全国工業高等学校長協会	2級以上
	パソコン利用技術検定		2級以上
	情報処理技能検定(表計算)	日本情報処理検定協会	1級以上
	マイクロソフトオフィススペシャリスト(Word または Excel®)	オデッセイコミュニケーションズ	一般以上
簿記	簿記検定	日本商工会議所	2級以上
	簿記実務検定 (会計科目)(原価計算科目)	公益財団法人 全国商業高等学校協会	1級科目合格以上
	簿記能力検定	公益社団法人 全国経理教育協会	1級以上
ビジネス	リテールマーケティング(販売士)検定	日本商工会議所	3級以上
	商業経済検定	公益財団法人 全国商業高等学校協会	2級以上
	ビジネス文書実務検定		1級
	日本語ワープロ検定	日本情報処理検定協会	1級以上
	秘書技能検定	公益財団法人 実務技能検定協会	2級以上
時事	ニュース時事能力検定	特定非営利活動法人 日本ニュース時事能力検定協会	3級以上
英語	実用英語技能検定	公益財団法人 日本英語検定協会	準2級以上
	TEAP		150点以上
	IELTS		3.5点以上
	英語検定	公益財団法人 全国商業高等学校協会	1級
	GTEC(CBT, Advanced, Basic, Core)	株式会社ベネッセコーポレーション	700点以上
	TOEIC® L&R S&W(4技能)	一般財団法人 国際ビジネスコミュニケーション協会	600点以上
	TOEIC® L&R (公開テスト、IPテストいずれも可)		440点以上
	TOEIC Bridge® L&R S&W(4技能)		150点以上
TOEFL iBT®	国際教育交換協議会	36点以上	
ケンブリッジ英語検定	一般財団法人 日本ケンブリッジ英語検定機構	120点以上	
珠算・電卓	珠算能力検定	日本商工会議所	1級
	珠算検定	公益社団法人 全国珠算教育連盟	2段以上
	ビジネス計算実務検定(珠算・電卓実務検定) ※部門合格のみは対象外	公益財団法人 全国商業高等学校協会	1級
	計算技術検定	公益社団法人 全国工業高等学校長協会	2級以上
数学	実用数学技能検定	公益財団法人 日本数学検定協会	2級以上
漢字	日本漢字能力検定	公益財団法人 日本漢字能力検定協会	準2級以上
日本語	日本語検定	特定非営利活動法人 日本語検定委員会	3級以上

全商協会資格利用入学試験 学費 減免 専願 総合型 選抜

出願資格 以下の①～③の条件をすべて満たす者。

- ①全国商業高等学校協会の会員校の生徒で、各都道府県で実施される推薦者選考を経て、同協会より推薦された者。
- ②本学を専願とする者。
- ③本学の建学の理念を理解する者。

※参考：全国商業高等学校協会特別推薦要項内の推薦条件

- (1) 2023年3月全国商業高等学校長協会会員の全日制高等学校卒業見込みで、且つ、卒業まで、商業に関する科目を20単位以上修得見込みのある者。
- (2) 本学への進学を強く望み、3年1学期までの調査書の「全体の学習成績の状況」が4.0以上の者。
- (3) 次の①または②のいずれかの検定合格条件を満たしている者。
 - ①簿記実務検定1級(会計科目、原価計算科目のうち1科目合格も可)と他の検定試験3級以上を1種目以上合格している者。
 - ②情報処理検定1級(ビジネス情報部門、プログラミング部門のうち1部門合格も可)と他の検定試験3級以上を1種目以上合格している者。
- ※検定試験は、公益財団法人全国商業高等学校協会主催の検定試験とする。
- (4) 入学後、本学内で開講している各種講座を積極的に受講する意欲のある者。

出願期間(消印有効)	試験日	合否発表日	入学手続締切日	
2022年 9/20(火)～10/7(金)	2022年 10/22(土)	2022年 11/1(火)	1次	2022年 11/15(火)
			2次	2022年 12/15(木)

試験会場

本学

選考方法

書類審査及び面接・口頭試問による総合選考

入学検定料

35,000円

募集人員

学部	学科	募集人員
経済学部	経済学科	20名
総合経営学部	経営学科	20名
	商学科	
公共学部	公共学科	10名

Point

- 本制度による入学者は、**入学金を半額免除、学費は4年間半額免除**します。

入学金・学費減免額 ※入学後、進級時の成績基準に従い、成績不振者は減免適用を停止する場合があります。

入学金 220,000円→110,000円 **学費年間** 1,040,000円→520,000円

- 本制度による入学者は、本学が開講している**資格講座の受講料が無料**です。
(年間2講座、4年間で最大8講座まで)



Point

- 本制度で出願を希望される方は、**必ず高等学校で選考日程をご確認ください。**
- 在籍している学校が、全国商業高等学校長協会の会員校であるか、卒業まで商業に関する科目を20単位以上修得見込みがあるかなど、本制度に関する詳細は、各学校の進路指導部または担任の先生にご確認ください。

公募制入学試験A日程

奨学金
制度

総合型
選抜

出願資格 以下の①～⑥のいずれかに該当する者。

- ①高等学校もしくは中等教育学校を2022年3月卒業した者、または、2023年3月卒業見込みの者。
 - ②通常の課程による12年間の学校教育を2022年3月修了した者、または2023年3月修了見込みの者。
 - ③文部科学大臣が高等学校の課程と同等の課程を有するものとして認定した在外教育施設の当該課程を2022年3月修了した者、または、2023年3月修了見込みの者。
 - ④文部科学大臣が指定した専修学校の高等課程において、修業年限3年以上の課程を2022年3月修了した者、または2023年3月修了見込みの者。
 - ⑤文部科学大臣の行う高等学校卒業程度認定試験に2021年4月以降合格した者、または、2023年3月までに合格見込みの者。
 - ⑥本学において、相当の年齢に達し、高等学校を卒業した者と同等以上の学力があると認められた者。
- ※⑥で出願を希望される方は、9月17日(土)までに広報入試課へご連絡ください。

出願期間(消印有効)	試験日	合否発表日	入学手續締切日	
2022年 10/17 (月)～ 10/28 (金) Web出願・書類郵送	2022年 11/5 (土)・ 11/6 (日) 試験日自由選択制(P.6参照)	2022年 11/11 (金)	1次 2022年 11/30 (水)	2次 2023年 1/13 (金)

※入学手續状況によって追加合格を発表する場合があります。
※入学辞退：入学手續を完了した後、2023年3月31日(金)までに入学辞退を申し出た方には、入学金を除く学費・その他納入金を返還します。(最終日必着)

試験会場

本学・金沢・京都・神戸・和歌山・岡山・高松・松山・福岡

選考方法

出願時に「基礎テスト型」または「調査書型」から選択

入学検定料

10,000円 ※入学検定料減免制度有(P.6参照)

Point

- 最大4学科まで志望可能です。 ※志望順位に従って合否判定を行います。
- 自分にあった選考方法(基礎テスト型・調査書型)が選べます。
- 入試成績上位者に新入生奨学金を給付します。

新入生奨学金 ※入学年次のみ適用

給付金額 **260,000円**(学費の1/4相当額) 給付方法 入学後、4月下旬に一括給付

募集人員

学部	学科	募集人員	200名
経済学部	経済学科	55名	
総合経営学部	経営学科	73名	
	商学科	27名	
公共学部	公共学科	45名	

※募集人員は、公募制入学試験A日程・B日程を合計した人数です。

公募制入学試験B日程

総合型
選抜

出願資格 以下の①～⑥のいずれかに該当する者。

- ①高等学校もしくは中等教育学校を2022年3月卒業した者、または、2023年3月卒業見込みの者。
 - ②通常の課程による12年間の学校教育を2022年3月修了した者、または2023年3月修了見込みの者。
 - ③文部科学大臣が高等学校の課程と同等の課程を有するものとして認定した在外教育施設の当該課程を2022年3月修了した者、または、2023年3月修了見込みの者。
 - ④文部科学大臣が指定した専修学校の高等課程において、修業年限3年以上の課程を2022年3月修了した者、または2023年3月修了見込みの者。
 - ⑤文部科学大臣の行う高等学校卒業程度認定試験に2021年4月以降合格した者、または、2023年3月までに合格見込みの者。
 - ⑥本学において、相当の年齢に達し、高等学校を卒業した者と同等以上の学力があると認められた者。
- ※⑥で出願を希望される方は、10月14日(金)までに広報入試課へご連絡ください。

出願期間(消印有効)	試験日	合否発表日	入学手續締切日	
2022年 11/14 (月)～ 11/25 (金) Web出願・書類郵送	2022年 12/3 (土)・ 12/4 (日) 試験日自由選択制(P.6参照)	2022年 12/9 (金)	1次 2023年 1/5 (木)	2次 2023年 1/26 (木)

※入学手續状況によって追加合格を発表する場合があります。
※入学辞退：入学手續を完了した後、2023年3月31日(金)までに入学辞退を申し出た方には、入学金を除く学費・その他納入金を返還します。(最終日必着)

試験会場

本学・岡山

選考方法

出願時に「基礎テスト型」または「調査書型」から選択

入学検定料

10,000円 ※入学検定料減免制度有(P.6参照)

Point

- 最大4学科まで志望可能です。 ※志望順位に従って合否判定を行います。
- 自分にあった選考方法(基礎テスト型・調査書型)が選べます。

募集人員

学部	学科	募集人員	200名
経済学部	経済学科	55名	
総合経営学部	経営学科	73名	
	商学科	27名	
公共学部	公共学科	45名	

※募集人員は、公募制入学試験A日程・B日程を合計した人数です。

「基礎テスト型」・「調査書型」について(公募制入学試験A日程・B日程共通)

基礎テスト型：得意科目を活かしたい方

基礎学力テスト(国語および選択1科目)のうち高得点の1科目を1.5倍した総得点(250点満点)で選考します。

科目	出題範囲	配点	試験時間
必須	国語	国語総合(古文、漢文を除く)	100点
選択	英語	コミュニケーション英語Ⅰ、コミュニケーション英語Ⅱ、英語表現Ⅰ	100点
	日本史	日本史B	
	数学	数学Ⅰ、数学A (数学Aは「場合の数と確率」のみ)	
	現代社会	現代社会	

※基礎学力テスト：高校時代の基礎学力を測る試験です。
※「選択」の解答科目は、当日の問題を見てから決めることができます。
※試験日ごとの問題の難易度の違いによる有利・不利をなくすために、総得点を偏差値換算して合否判定を行います。

Point

高得点の科目を1.5倍

●得点の例
国語(必須) 数学(選択)
77点 82点
↓ ↓×1.5倍
77点 + 123点 = 200点

調査書型：調査書の学習成績の状況を活かしたい方

- ①基礎学力テスト(国語および選択1科目)
 - ②調査書の「全体の学習成績の状況」を10倍した得点
- ①・②の総得点(250点満点)で選考します。

科目	出題範囲	配点	試験時間
必須	国語	国語総合(古文、漢文を除く)	100点
選択	英語	コミュニケーション英語Ⅰ、コミュニケーション英語Ⅱ、英語表現Ⅰ	100点
	日本史	日本史B	
	数学	数学Ⅰ、数学A (数学Aは「場合の数と確率」のみ)	
	現代社会	現代社会	

※基礎学力テスト：高校時代の基礎学力を測る試験です。
※「選択」の解答科目は、当日の問題を見てから決めることができます。
※試験日ごとの問題の難易度の違いによる有利・不利をなくすために、総得点を偏差値換算して合否判定を行います。
※高等学校卒業程度認定試験合格者および合格見込者の②の得点は、一律3.0(30点)で計算します。

Point

学習成績の状況を10倍

●得点の例
国語(必須) 数学(選択) 学習成績の状況
77点 82点 4.1
↓ ↓ ↓×10倍
77点 + 82点 + 41点 = 200点

資格公募制入学試験 A日程・B日程 総合型 選抜

出願資格 以下の①の条件を満たし、②～⑦のいずれかに該当する者。

- ①本学が指定する対象資格のいずれかを取得した者。(対象資格一覧は右ページをご覧ください)
 - ②高等学校もしくは中等教育学校を2022年3月卒業した者、または、2023年3月卒業見込みの者。
 - ③通常の課程による12年間の学校教育を2022年3月修了した者、または2023年3月修了見込みの者。
 - ④文部科学大臣が高等学校の課程と同等の課程を有するものとして認定した在外教育施設の当該課程を2022年3月修了した者、または、2023年3月修了見込みの者。
 - ⑤文部科学大臣が指定した専修学校の高等課程において、修業年限3年以上の課程を2022年3月修了した者、または2023年3月修了見込みの者。
 - ⑥文部科学大臣の行う高等学校卒業程度認定試験に2021年4月以降合格した者、または、2023年3月までに合格見込みの者。
 - ⑦本学において、相当の年齢に達し、高等学校を卒業した者と同等以上の学力があると認められた者。
- ※⑦で出願を希望される方は、所定期日までに広報入試課へご連絡ください。
(期日)A日程：9月17日(土) B日程：10月14日(金)

日程	出願期間(消印有効)	試験日	合否発表日	入学手続締切日	
A日程	2022年 10/17 (月)～ 10/28 (金) Web出願・書類郵送	2022年 11/5 (土)	2022年 11/11 (金)	1次	2022年 11/30 (水)
				2次	2023年 1/13 (金)
B日程	2022年 11/14 (月)～ 11/25 (金) Web出願・書類郵送	2022年 12/3 (土)	2022年 12/9 (金)	1次	2023年 1/5 (木)
				2次	2023年 1/26 (木)

※入学辞退：入学手続を完了した後、2023年3月31日(金)までに入学辞退を申し出た方には、入学金を除く学費・その他納入金を返還します。(最終日必着)

試験会場

A日程：本学・金沢・京都・神戸・和歌山・岡山・高松・松山・福岡
B日程：本学・岡山

選考方法

- ①基礎学力テスト(高得点1科目) …… 100点
 - ②資格点 …… 100点
 - ③調査書 …… 50点
- ①②③の総得点(250点満点)で選考します。

科目	出題範囲	配点	試験時間	備考
必須	国語	100点	2科目 90分	①基礎学力テスト： 「国語」と「選択1科目」を解答し、 高得点の1科目を採用(100点) ②資格点： 取得資格に応じて加点(100点) ③調査書： 「全体の学習成績の状況」を10倍 (50点)
	英語			
選択	日本史			
	数学			
	現代社会			
	簿記・会計	簿記、財務会計 I (財務会計 I は「財務会計の基礎」のみ)		

※基礎学力テスト：高校時代の基礎学力を測る試験です。
 ※「選択」の解答科目は、当日の問題を見てから決めることができます。
 ※高等学校卒業程度認定試験合格者および合格見込み者の③の得点は、一律3.0(30点)で計算します。

入学検定料

10,000円 ※入学検定料減免制度有(P.6参照)

Point

- 最大4学科まで志望可能です。 ※志望順位に従って合否判定を行います。
- 取得資格を点数化して合否判定を行います。 ※資格点については、右ページでご確認ください。
- 本制度による入学者は、本学が開講している**資格講座の受講料が無料**です。
(年間2講座、4年間で最大8講座まで)

対象資格・資格点一覧

検定分野	対象資格・検定	主催団体名等	資格点			
			100点	90点	80点	70点
情報処理	基本情報技術者	独立行政法人 情報処理推進機構	合格			
	ITパスポート			合格		
	情報処理検定(ビジネス情報部門)	公益財団法人 全国商業高等学校協会			1級	2級
	情報処理検定(プログラミング部門)				1級	2級
	ICTプロフィシエンシー検定	ICTプロフィシエンシー検定協会		1級	2級	準2級
	情報技術検定	公益社団法人 全国工業高等学校長協会			1級	2級
	パソコン利用技術検定				1級	2級
	情報処理技能検定(表計算)	日本情報処理検定協会				1級以上
	マイクロソフトオフィススペシャリスト Word マイクロソフトオフィススペシャリスト Excel®	オデッセイコミュニケーションズ			上級	一般
簿記	簿記検定	日本商工会議所	1級		2級	
	簿記実務検定				1級	
	簿記実務検定(会計科目)または(原価計算科目)	公益財団法人 全国商業高等学校協会				1級 科目合格
	簿記能力検定	公益社団法人 全国経理教育協会		上級	1級	
ビジネス	リテールマーケティング(販売士)検定	日本商工会議所	1級		2級	3級
	商業経済検定	公益財団法人 全国商業高等学校協会			1級	2級
	ビジネス文書実務検定					1級
	日本語ワープロ検定	日本情報処理検定協会				1級以上
時事	秘書技能検定	公益財団法人 実務技能検定協会		1級	準1級	2級
	ニュース時事能力検定	特定非営利活動法人 日本ニュース時事能力検定協会		1級	2級・準2級	3級
英語	実用英語技能検定		準1級以上		2級	準2級
	TEAP	公益財団法人 日本英語検定協会	334以上	281～333	226～280	150～225
	IELTS		5.5以上	5.0	4.0	3.5
	英語検定	公益財団法人 全国商業高等学校協会			1級	
	GTEC(CBT, Advanced, Basic, Core)	株式会社ベネッセコーポレーション	1250以上	1126～1249	1000～1125	700～999
	TOEIC® L&R S&W(4技能)		1095以上	945～1090	790～940	600～785
	TOEIC® L&R(公開テスト、IPテストいずれも可)	一般財団法人 国際ビジネスコミュニケーション協会	785以上	675～780	555～670	440～550
	TOEIC Bridge® L&R S&W(4技能)				160以上	150～158
	TOEFL iBT®	国際教育交換協議会	72以上	57～71	42～56	36～41
ケンブリッジ英語検定	一般財団法人 日本ケンブリッジ英語検定機構	160以上	150～159	140～149	120～139	
珠算・電卓	珠算能力検定	日本商工会議所			1級	
	珠算検定	公益社団法人 全国珠算教育連盟			2段以上	
	ビジネス計算実務検定(珠算・電卓実務検定) ※部門合格のみは対象外	公益財団法人 全国商業高等学校協会			1級	
	計算技術検定	公益社団法人 全国工業高等学校長協会			1級	2級
数学	実用数学技能検定	公益財団法人 日本数学検定協会	1級	準1級	2級	
漢字	日本漢字能力検定	公益財団法人 日本漢字能力検定協会	1級	準1級	2級	準2級
日本語	日本語検定	特定非営利活動法人 日本語検定委員会		1級	準1級・2級	準2級・3級

スポーツ活動実績利用入学試験 前期 **専願** **総合型選抜**

事前審査申込資格 以下の①、②と③～⑥のいずれかに該当し、かつ、【1】から【3】の条件をすべて満たす者。

- ①本学を専願とする者。
- ②調査書の「全体の学習成績の状況」が2.7以上の者。
- ③高等学校もしくは中等教育学校を2023年3月卒業見込みの者。
- ④通常の課程による12年の学校教育を2023年3月修了見込みの者。
- ⑤文部科学大臣が指定した専修学校の高等課程において、修業年限3年以上の課程を2023年3月修了見込みの者。
- ⑥本学において、相当の年齢に達し、高等学校を卒業した者と同等以上の学力があると認められた者。ただし、2023年3月に、これに該当する見込みの者に限る。

- 【1】入学後に学業と対象クラブにおけるスポーツ活動の両立に積極的な意志を有する健康である者。
 【2】対象クラブ種目に抜群の能力を有し、次のいずれかに該当する者。
 (1) 国際大会出場のために日本代表、または、日本高校選抜メンバー（代表）に選ばれた者
 (2) 全国高等学校総合体育大会、または、全国高等学校選手権大会等に出場した者
 (3) 国民体育大会に出場した者、または、国民体育大会出場のために都道府県選抜メンバーに選ばれた者
 (4) 近畿地区大会等に出場し、球技系団体種目において個人8位以上の成績を収めた者
 (5) 全国大会につながる都道府県大会に出場し、相当の成績(8位以上)を収めた者または団体競技の場合は、特にこれと同等以上の能力を有していると認められた者
 (6) 新型コロナウイルス感染症等の影響により大会が中止又は延期した場合において、過去の実績を踏まえて(1)～(5)の大会成績と同等の能力があると認められる者
 【3】2022年8月1日(月)～9月11日(日)に実施する各クラブのセレクションで合格した者。

- 【申込資格に関する注意事項】
- 資格条件の【2】(2)(4)(5)に該当する大会については、全国高等学校体育連盟・日本高等学校野球連盟およびJOC・日本スポーツ協会の正加盟団体・日本拳法競技連盟が主催する大会とします。
 - 国公立学校または私立学校だけの大会等は、対象には含まれません。
 - 武道関係の競技種目については、流派だけの独自大会等は対象に含まれません。
 - 資格条件の【2】(2)(4)に該当する大会において、その大会に出場メンバーとしてエントリーされたが、試合に全く出場していない場合は、対象には含まれません。

事前審査申込締切(最終日必着)	事前審査	事前審査結果通知日	必要書類
2022年 10/7 (金)	書類審査	2022年 10/24 (月)	セレクション合格者への配付資料を参照

※アドミッションオフィスで確認・審査を行います。
 ※事前審査結果は、高等学校宛に通知します。

事前審査料

無料

出願資格 本学のアドミッションオフィスによる事前審査で出願が許可された者。

出願期間(消印有効)	試験日	可否発表日	入学手続締切日
2022年 10/25 (火)～ 11/8 (火) Web出願・書類郵送	2022年 11/21 (月)	2022年 12/2 (金)	1次 2022年 12/20 (火) 2次 2023年 1/13 (金)

試験会場

本学

選考方法

書類審査及び面接・口頭試問による総合選考

入学検定料

35,000円

対象クラブ

男子のみ対象	男女対象
・硬式野球部 ・サッカー部 ・柔道部 ・卓球部 ・ソフトテニス部 ・バスケットボール部 ・バレーボール部 ・ボクシング部 ・日本拳法部	・空手道部 ・ウエイトリフティング部

募集人員

学部	学科	募集人員
経済学部	経済学科	60名
総合経営学部	経営学科	
	商学科	
公共学部	公共学科	



Point

- 本制度については、各高等学校の進路指導部または対象クラブの顧問を通じて、課外活動支援課までお問い合わせください。☎06-6785-6129

スポーツ活動実績利用入学試験 後期 **専願** **総合型選抜**

事前審査申込資格 以下の①、②と③～⑥のいずれかに該当し、かつ、【1】から【3】の条件をすべて満たす者。

- ①本学を専願とする者。
- ②調査書の「全体の学習成績の状況」が2.7以上の者。
- ③高等学校もしくは中等教育学校を2023年3月卒業見込みの者。
- ④通常の課程による12年の学校教育を2023年3月修了見込みの者。
- ⑤文部科学大臣が指定した専修学校の高等課程において、修業年限3年以上の課程を2023年3月修了見込みの者。
- ⑥本学において、相当の年齢に達し、高等学校を卒業した者と同等以上の学力があると認められた者。ただし、2023年3月に、これに該当する見込みの者に限る。

- 【1】入学後に学業と対象クラブにおけるスポーツ活動の両立に積極的な意志を有する健康である者。
 【2】対象クラブ種目に抜群の能力を有し、次のいずれかに該当する者。
 (1) 国際大会出場のために日本代表、または、日本高校選抜メンバー（代表）に選ばれた者
 (2) 全国高等学校総合体育大会、または、全国高等学校選手権大会等に出場した者
 (3) 国民体育大会に出場した者、または、国民体育大会出場のために都道府県選抜メンバーに選ばれた者
 (4) 新型コロナウイルス感染症等の影響により大会が中止又は延期した場合において、過去の実績を踏まえて(1)～(3)の大会成績と同等の能力があると認められる者
 【3】対象クラブを通じてエントリーし、適格者と認められた者。

【申込資格に関する注意事項】

- 資格条件の【2】(2)に該当する大会については、全国高等学校体育連盟・日本高等学校野球連盟およびJOC・日本スポーツ協会の正加盟団体・日本拳法競技連盟が主催する大会とします。
- 国公立学校または私立学校だけの大会等は、対象には含まれません。
- 武道関係の競技種目については、流派だけの独自大会等は対象に含まれません。
- 資格条件の【2】(2)に該当する大会において、その大会に出場メンバーとしてエントリーされたが、試合に全く出場していない場合は、対象には含まれません。

事前審査申込締切 (最終日必着)	事前審査	事前審査結果通知日	必要書類
2023年 1/20 (金)	書類審査	2023年 1/30 (月)	エントリー適格者への配付資料を参照

※アドミッションオフィスで確認・審査を行います。
 ※事前審査結果は、高等学校宛に通知します。

事前審査料

無料

出願資格 本学のアドミッションオフィスによる事前審査で出願が許可された者。

出願期間(消印有効)	試験日	合否発表日	入学手続締切日
2023年 2/1 (水)～ 2/15 (水) Web出願・書類郵送	2023年 2/25 (土)	2023年 3/3 (金)	2023年 3/10 (金) ※一括納入方式のみ

試験会場

本学

選考方法

書類審査及び面接・口頭試問による総合選考

入学検定料

35,000円

対象クラブ

男子のみ対象	男女対象
・硬式野球部 ・サッカー部 ・柔道部 ・卓球部 ・ソフトテニス部 ・バスケットボール部 ・バレーボール部 ・ボクシング部 ・日本拳法部	・空手道部 ・ウエイトリフティング部

募集人員

学部	学科	募集人員
経済学部	経済学科	若干名
総合経営学部	経営学科	
	商学科	
公共学部	公共学科	



Point
 ●本制度については、各高等学校の進路指導部または対象クラブの顧問を通じて、課外活動支援課までお問い合わせください。☎06-6785-6129

指定校推薦入学試験

奨学金
制度

専願

学校推薦型
選抜

出願資格 以下の①～④の条件をすべて満たす者。※詳細は各学校で確認してください。

- ①本学が指定する高等学校を2022年度中に卒業した者、または2023年3月卒業見込みの者。
- ②本学を専願とし、出身学校長が推薦する者。
- ③調査書の「全体の学習成績の状況」が3.4以上で、かつ出願時直近の学期末までの総欠席日数が20日以内の者
- ④本学の建学の理念を理解する者。

出願期間(消印有効)	試験日	合否発表日	入学手続締切日	
2022年 11/1(火)～11/12(土) Web出願・書類郵送	2022年 11/26(土) または 11/27(日) ※試験日はどちらか1日になります。	2022年 12/2(金)	1次 2022年 12/20(火)	2次 2023年 1/13(金)

試験会場

本学

選考方法

書類審査及び面接・口頭試問による総合選考

入学検定料

35,000円

- 在籍している学校が、指定校推薦入学試験の対象となっているかなど、本制度に関する詳細は、各学校の進路指導部または担任の先生にご確認ください。
- 出願するためには、事前に各学校を通じて入学試験要項の請求が必要となりますのでご注意ください。なお、請求期間は9/20(火)～10/20(木)〈必着〉となります。
- Web出願完了後には、出願書類の提出が必要となりますのでご注意ください。

指定校推薦入学試験チャレンジ制度について

合格者のうち、希望者は以下の日程で実施する試験にチャレンジすることができます。

試験の結果、**成績上位者に新入生奨学金を給付**します。

なお、チャレンジ制度の成績により、指定校推薦入学試験の合格を取り消すことはありません。

※チャレンジ制度の申込案内は、合否発表日に行います。また、受験票については、2023年1月中旬に本学より郵送します。

チャレンジ資格 2023年度指定校推薦入学試験に合格し、本学が定めた期日までに、チャレンジ制度の申込をした者。

日程および試験会場

試験日：2023年1月29日(日)

試験会場：本学

結果通知日：2023年2月3日(金)

選考方法

国語と英語の総得点(200点満点)で選考します。

科目	出題範囲	配点	試験時間
国語	国語総合(古文、漢文を除く)	100点	60分
英語	コミュニケーション英語Ⅰ、コミュニケーション英語Ⅱ、英語表現Ⅰ	100点	60分

新入生奨学金 ※入学年次のみ適用

給付金額 **260,000円(学費の1/4相当額)** 給付方法 入学後、4月下旬に一括給付



一般入学試験前期A日程・B日程 (3科目方式)

奨学金
制度

一般
選抜

出願資格 以下の①～⑦のいずれかに該当する者。

- ①高等学校もしくは中等教育学校を卒業した者、または、2023年3月卒業見込みの者。
 - ②外国において、学校教育における12年の課程を修了した者、または、これに準ずる者で文部科学大臣の指定した者。
 - ③通常の課程による12年の学校教育を修了した者、または、2023年3月修了見込みの者。
 - ④文部科学大臣が高等学校の課程と同等の課程を有するものとして認定した在外教育施設の当該課程を修了した者、または、2023年3月修了見込みの者。
 - ⑤文部科学大臣が指定した専修学校の高等課程において、修業年限3年以上の課程を修了した者、または、2023年3月修了見込みの者。
 - ⑥文部科学大臣の行う高等学校卒業程度認定試験に合格した者、または、2023年3月までに合格見込みの者。
 - ⑦本学において、相当の年齢に達し、高等学校を卒業した者と同等以上の学力があると認められた者。
- ※⑦で出願を希望される方は、12月16日(金)までに広報入試課へご連絡ください。

日程	出願期間(消印有効)	試験日	合否発表日	入学手続締切日	
A日程	2023年 1/1(日)～1/20(金) Web出願・書類郵送	2023年 1/28(土)・1/29(日) 試験日自由選択制(P.6参照)	2023年 2/3(金)	1次	2023年 2/17(金)
				2次	2023年 2/28(火)
B日程	2023年 2/1(水)～2/17(金) Web出願・書類郵送	2023年 2/24(金)・2/25(土) 試験日自由選択制(P.6参照)	2023年 3/3(金)	2023年 3/10(金) ※一括納入方式のみ	

※入学手続状況によって追加合格を発表する場合があります。

※入学辞退：入学手続を完了した後、2023年3月31日(金)までに入学辞退を申し出た方には、入学金を除く学費・その他納入金を返還します。(最終日必着)

試験会場

A日程：本学・金沢・京都・神戸・和歌山・岡山・高松・松山・福岡
B日程：本学・和歌山・岡山

選考方法

学力試験(3科目)の総得点(300点満点)および、高得点2科目の総得点(200点満点)を偏差値化し、どちらか高い偏差値で選考します。

※2日間受験する場合は、同一方式での出願となります。(1日目に3科目方式、2日目に2科目方式といった出願はできません)

募集人員

学部	学科	募集人員
経済学部	経済学科	82名
	経営学科	109名
総合経営学部	経営学科	109名
	商学科	40名
公共学部	公共学科	69名

※募集人員は、一般入学試験前期A日程・B日程、一般入学試験後期C日程を合計した人数です。

入学検定料

10,000円 ※入学検定料減免制度有(P.6参照)

Point

- 最大4学科まで志望可能です。 ※志望順位に従って合否判定を行います。
- 入試成績上位者に新入生奨学金を給付します。
- 「3科目方式」か「2科目方式」で迷う方はQ&A(P.46、47)を参照。

新入生奨学金 ※入学年次のみ適用

給付金額 520,000円(学費の1/2相当額)

給付方法 入学後、4月下旬に一括給付

「3科目方式」について(A日程・B日程共通)

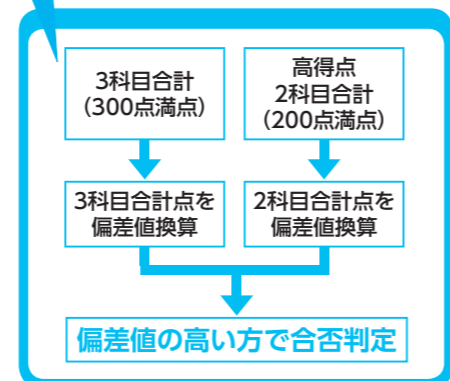
3科目方式：入試制度のメリットを活かしたい方

科目	出題範囲	配点	試験時間
国語	国語総合(古文、漢文を除く)	100点	60分
英語	コミュニケーション英語Ⅰ、コミュニケーション英語Ⅱ、英語表現Ⅰ	100点	60分
選択	日本史	日本史B	100点 60分
	世界史	世界史B	
	現代社会 政治経済	「現代社会」と「政治経済」のいずれの履修者でも解答可能な範囲	
	数学	数学Ⅰ、数学A (数学Aは「場合の数と確率」のみ)	

※「選択」の解答科目は当日の問題を見てから決めることができます。

※試験日ごとの問題の難易度の違いによる有利・不利をなくすために、総得点を偏差値換算して合否判定を行います。

Point



一般入学試験前期A日程・B日程 (2科目方式)

奨学金
制度

一般
選抜

出願資格 以下の①～⑦のいずれかに該当する者。

- ①高等学校もしくは中等教育学校を卒業した者、または、2023年3月卒業見込みの者。
 - ②外国において、学校教育における12年の課程を修了した者、または、これに準ずる者で文部科学大臣の指定した者。
 - ③通常の課程による12年の学校教育を修了した者、または、2023年3月修了見込みの者。
 - ④文部科学大臣が高等学校の課程と同等の課程を有するものとして認定した在外教育施設の当該課程を修了した者、または、2023年3月修了見込みの者。
 - ⑤文部科学大臣が指定した専修学校の高等課程において、修業年限3年以上の課程を修了した者、または、2023年3月修了見込みの者。
 - ⑥文部科学大臣の行う高等学校卒業程度認定試験に合格した者、または、2023年3月までに合格見込みの者。
 - ⑦本学において、相当の年齢に達し、高等学校を卒業した者と同等以上の学力があると認められた者。
- ※⑦で出願を希望される方は、12月16日(金)までに広報入試課へご連絡ください。

日程	出願期間(消印有効)	試験日	合否発表日	入学手続締切日	
A日程	2023年 1/1(日)～1/20(金) Web出願・書類郵送	2023年 1/28(土)・1/29(日) 試験日自由選択制(P.6参照)	2023年 2/3(金)	1次	2023年 2/17(金)
				2次	2023年 2/28(火)
B日程	2023年 2/1(水)～2/17(金) Web出願・書類郵送	2023年 2/24(金)・2/25(土) 試験日自由選択制(P.6参照)	2023年 3/3(金)	2023年 3/10(金) ※一括納入方式のみ	

※入学手続状況によって追加合格を発表する場合があります。

※入学辞退：入学手続を完了した後、2023年3月31日(金)までに入学辞退を申し出た方には、入学金を除く学費・その他納入金を返還します。(最終日必着)

試験会場

A日程：本学・金沢・京都・神戸・和歌山・岡山・高松・松山・福岡
B日程：本学・和歌山・岡山

選考方法

学力試験「国語」または「英語」を含む2科目の総得点(200点満点)を偏差値化し、選考します。

※受験科目パターンは出願時に登録していただきます。

「国語」+「英語」/「国語」+「選択」/「英語」+「選択」

※2日間受験する場合は、同一方式での出願となります。(1日目に3科目方式、2日目に2科目方式といった出願はできません)

募集人員

学部	学科	募集人員
経済学部	経済学科	82名
総合経営学部	経営学科	109名
	商学科	40名
公共学部	公共学科	69名

※募集人員は、一般入学試験前期A日程・B日程、一般入学試験後期C日程を合計した人数です。

入学検定料

10,000円 ※入学検定料減免制度有(P.6参照)

Point

- 最大4学科まで志望可能です。 ※志望順位に従って合否判定を行います。
- 入試成績上位者に新入生奨学金を給付します。
- 「3科目方式」か「2科目方式」で迷う方はQ&A(P.46、47)を参照。

新入生奨学金 ※入学年次のみ適用

給付金額 520,000円(学費の1/2相当額)

給付方法 入学後、4月下旬に一括給付

「2科目方式」について(A日程・B日程共通)

2科目方式：得意科目だけをを活かしたい方

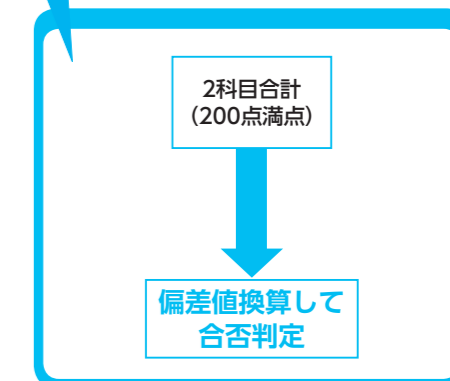
科目	出題範囲	配点	試験時間
最低1科目必須	国語	国語総合(古文、漢文を除く)	100点 60分
	英語	コミュニケーション英語Ⅰ、コミュニケーション英語Ⅱ、英語表現Ⅰ	100点 60分
選択	日本史	日本史B	100点 60分
	世界史	世界史B	
	現代社会 政治経済	「現代社会」と「政治経済」のいずれの履修者でも解答可能な範囲	
	数学	数学Ⅰ、数学A (数学Aは「場合の数と確率」のみ)	

※「選択」の解答科目は当日の問題を見てから決めることができます。

※「国語」と「英語」の2科目で受験することも可能です。

※試験日ごとの問題の難易度の違いによる有利・不利をなくすために、総得点を偏差値換算して合否判定を行います。

Point



一般入学試験後期C日程 (2科目方式)

一般
選抜

出願資格 以下の①～⑦のいずれかに該当する者。

- ①高等学校もしくは中等教育学校を卒業した者、または、2023年3月卒業見込みの者。
 - ②外国において、学校教育における12年の課程を修了した者、または、これに準ずる者で文部科学大臣の指定した者。
 - ③通常の課程による12年の学校教育を修了した者、または、2023年3月修了見込みの者。
 - ④文部科学大臣が高等学校の課程と同等の課程を有するものとして認定した在外教育施設の当該課程を修了した者、または、2023年3月修了見込みの者。
 - ⑤文部科学大臣が指定した専修学校の高等課程において、修業年限3年以上の課程を修了した者、または、2023年3月修了見込みの者。
 - ⑥文部科学大臣の行う高等学校卒業程度認定試験に合格した者、または、2023年3月までに合格見込みの者。
 - ⑦本学において、相当の年齢に達し、高等学校を卒業した者と同等以上の学力があると認められた者。
- ※⑦で出願を希望される方は、1月20日(金)までに広報入試課へご連絡ください。

出願期間(消印有効)	試験日	合否発表日	入学手続締切日
2023年 2/20(月)～3/5(日) Web出願・書類郵送	2023年 3/10(金)	2023年 3/15(水)	2023年 3/22(水) ※一括納入方式のみ

※入学手続状況によって追加合格を発表する場合があります。

※入学辞退：入学手続を完了した後、2023年3月31日(金)までに入学辞退を申し出た方には、入学金を除く学費・その他納入金を返還します。(最終日必着)

試験会場

本学

募集人員

学部	学科	募集人員
経済学部	経済学科	82名
総合経営学部	経営学科	109名
	商学科	40名
公共学部	公共学科	69名

300名

※募集人員は、一般入学試験前期A日程・B日程、一般入学試験後期C日程を合計した人数です。

選考方法

学力試験2科目(「国語」および「英語」)のうち高得点の1科目を1.5倍した総得点(250点満点)で選考します。

科目	出題範囲	配点	試験時間
国語	国語総合(古文、漢文を除く)	100点	60分
英語	コミュニケーション英語Ⅰ、コミュニケーション英語Ⅱ、英語表現Ⅰ	100点	60分

入学検定料

10,000円 ※入学検定料減免制度有(P.6参照)

Point

高得点の科目を1.5倍

●得点の例

国語 英語

80点

70点

↓×1.5倍↓

120点 + 70点 = 190点

Point

●最大4学科まで志望可能です。 ※志望順位に従って合否判定を行います。

大学入学共通テスト利用

A日程・B日程・C日程 (3科目判定方式) (2科目判定方式)

一般
選抜

出願資格 令和5年度大学入学共通テストを受験し、本学が指定する教科・科目を解答した者。

日程	出願期間(消印有効)	試験日	合否発表日	入学手続締切日
A日程	2023年 1/1(日)～1/20(金) Web出願・書類郵送	本学独自の 学力試験は 行いません。	2023年 2/10(金)	1次 2023年 2/17(金)
				2次 2023年 2/28(火)
B日程	2023年 2/1(水)～2/17(金) Web出願・書類郵送	2023年 3/3(金)	2023年 3/10(金) ※一括納入方式のみ	2023年 3/10(金)
C日程	2023年 2/20(月)～3/5(日) Web出願・書類郵送			2023年 3/15(水)

※入学辞退：入学手続を完了した後、2023年3月31日(金)までに入学辞退を申し出た方には、入学金を除く学費・その他納入金を返還します。(最終日必着)

選考方法

出願時に「3科目判定方式」または「2科目判定方式」から選択(本学独自の学力試験は行いません。)

(1) [3科目判定方式]

大学入学共通テストで受験した科目のうち、国語または外国語を含む高得点の3科目(300点満点)で選考します。

(2) [2科目判定方式]

大学入学共通テストで受験した科目のうち、国語または外国語を含む高得点の2科目(200点満点)で選考します。

教科	大学入学共通テスト出題科目	配点
国語	「国語(近代以降の文章)」	各100点
外国語	「英語(リスニング含む)」 「ドイツ語」 「フランス語」 「中国語」 「韓国語」	
地理歴史	「世界史A」 「世界史B」 「日本史A」 「日本史B」 「地理A」 「地理B」	
公民	「現代社会」 「倫理」 「政治・経済」 「倫理、政治・経済」	
数学	数学①「数学Ⅰ」 「数学Ⅰ・数学A」	
	数学②「数学Ⅱ」 「数学Ⅱ・数学B」 「簿記・会計」 「情報関係基礎」	
理科	理科①「物理基礎」 「化学基礎」 「生物基礎」 「地学基礎」	
	理科②「物理」 「化学」 「生物」 「地学」	

※各科目100点満点(理科①は2科目の合計点を1科目の得点とする)

※「外国語」は200点満点を100点満点に換算

英語のみ[リーディング100点][リスニング100点]の200点満点を100点満点に換算

※科目の選択方法は、「大学入試センター」が示す選択方法によるものとします。

入学検定料

5,000円 ※入学検定料減免制度有(P.6参照)

募集人員

学部	学科	募集人員
経済学部	経済学科	30名
総合経営学部	経営学科	
	商学科	
公共学部	公共学科	

※募集人員は、大学入学共通テスト利用A日程・B日程・C日程を合計した人数です。

Point

- 「3科目判定方式」及び「2科目判定方式」を同時出願することも可能です。
- 最大4学科まで志望可能です。 ※志望順位に従って合否判定を行います。
- 大学入学共通テストの成績で合否判定を行います。

海外留学公募制入学試験〈GETコース選抜〉

資格型 A日程・B日程

学費
減免

総合型
選抜

出願資格 以下の①の条件を満たし、②～⑦のいずれかに該当する者。

- ①本学が指定する対象資格のいずれかを取得した者。
 - ②高等学校もしくは中等教育学校を2022年3月卒業した者、または、2023年3月卒業見込みの者。
 - ③通常の課程による12年間の学校教育を2022年3月修了した者、または2023年3月修了見込みの者。
 - ④文部科学大臣が高等学校の課程と同等の課程を有するものとして認定した在外教育施設の当該課程を2022年3月修了した者、または、2023年3月修了見込みの者。
 - ⑤文部科学大臣が指定した専修学校の高等課程において、修業年限3年以上の課程を2022年3月修了した者、または2023年3月修了見込みの者。
 - ⑥文部科学大臣の行う高等学校卒業程度認定試験に2021年4月以降合格した者、または、2023年3月までに合格見込みの者。
 - ⑦本学において、相当の年齢に達し、高等学校を卒業した者と同等以上の学力があると認められた者。
- ※⑦で出願を希望される方は、所定期日までに広報入試課へご連絡ください。
(期日)A日程：9月17日(土) B日程：10月14日(金)

日程	出願期間(消印有効)	試験日	合否発表日	入学手続締切日	
A日程	2022年 10/17(月)～10/28(金) Web出願・書類郵送	2022年 11/6(日)	2022年 11/11(金)	1次	2022年 11/30(水)
				2次	2023年 1/13(金)
B日程	2022年 11/14(月)～11/25(金) Web出願・書類郵送	2022年 12/4(日)	2022年 12/9(金)	1次	2023年 1/5(木)
				2次	2023年 1/26(木)

※入学辞退：入学手続を完了した後、2023年3月31日(金)までに入学辞退を申し出た方には、入学金を除く学費・その他納入金を返還します。(最終日必着)

試験会場

本学

選考方法

書類審査及び面接・口頭試問による総合選考

募集人員

学部	学科	募集人員
経済学部	経済学科	5名
総合経営学部	経営学科	
	商学科	
公共学部	公共学科	

※募集人員は、海外留学公募制入学試験(GETコース選抜)資格型A日程・B日程、基礎テスト型A日程・B日程を合計した人数です。

対象資格

資格・検定	主催団体名等	等級・スコア
実用英語技能検定	公益財団法人 日本英語検定協会	準2級以上
TEAP		150点以上
IELTS		3.5点以上
英語検定	公益財団法人 全国商業高等学校協会	1級
GTEC (CBT, Advanced, Basic, Core)	株式会社 ベネッセコーポレーション	700点以上
TOEIC® L&R S&W (4技能)	一般財団法人 国際ビジネスコミュニケーション協会	600点以上
TOEIC® L&R (公開テスト、IPテストいずれも可)		440点以上
TOEIC Bridge® L&R S&W (4技能)		150点以上
TOEFL iBT®		36点以上
ケンブリッジ英語検定	一般財団法人 日本ケンブリッジ英語検定機構	120点以上

入学検定料

10,000円 ※入学検定料減免制度有(P.6参照)

Point

- GETコース履修生は、**授業料を4年間半額免除**します。
授業料減免額 授業料年間 740,000円→370,000円
- 海外協定校への留学が可能です。また、**留学先の学費は無料**です。
※渡航にかかる費用・現地での生活費等は自己負担
- GETコース履修生は、本学が開講している**資格講座の受講料が無料**です。(年間2講座)
※GETコースを途中で離脱した場合は、離脱した次学期から学費等の減免は適用されません。

海外留学公募制入学試験〈GETコース選抜〉

基礎テスト型 A日程・B日程

学費
減免

総合型
選抜

出願資格 以下の①～⑥のいずれかに該当する者。

- ①高等学校もしくは中等教育学校を2022年3月卒業した者、または、2023年3月卒業見込みの者。
 - ②通常の課程による12年間の学校教育を2022年3月修了した者、または2023年3月修了見込みの者。
 - ③文部科学大臣が高等学校の課程と同等の課程を有するものとして認定した在外教育施設の当該課程を2022年3月修了した者、または、2023年3月修了見込みの者。
 - ④文部科学大臣が指定した専修学校の高等課程において、修業年限3年以上の課程を2022年3月修了した者、または2023年3月修了見込みの者。
 - ⑤文部科学大臣の行う高等学校卒業程度認定試験に2021年4月以降合格した者、または、2023年3月までに合格見込みの者。
 - ⑥本学において、相当の年齢に達し、高等学校を卒業した者と同等以上の学力があると認められた者。
- ※⑥で出願を希望される方は、所定期日までに広報入試課へご連絡ください。
(期日)A日程：9月17日(土) B日程：10月14日(金)

日程	出願期間(消印有効)	試験日	合否発表日	入学手続締切日	
A日程	2022年 10/17(月)～10/28(金) Web出願・書類郵送	2022年 11/6(日)	2022年 11/11(金)	1次	2022年 11/30(水)
				2次	2023年 1/13(金)
B日程	2022年 11/14(月)～11/25(金) Web出願・書類郵送	2022年 12/4(日)	2022年 12/9(金)	1次	2023年 1/5(木)
				2次	2023年 1/26(木)

※入学辞退：入学手続を完了した後、2023年3月31日(金)までに入学辞退を申し出た方には、入学金を除く学費・その他納入金を返還します。(最終日必着)

試験会場

本学

選考方法

基礎学力テスト2科目(英語および国語)の総得点(250点満点)と書類審査及び面接・口頭試問による総合選考

科目	出題範囲	配点	試験時間
英語	コミュニケーション英語Ⅰ、コミュニケーション英語Ⅱ、英語表現Ⅰ	150点	2科目 90分
国語	国語総合(古文、漢文を除く)	100点	

※[英語]は100点満点を150点満点に換算します。

入学検定料

10,000円 ※入学検定料減免制度有(P.6参照)

Point

- GETコース履修生は、**授業料を4年間半額免除**します。
授業料減免額 授業料年間 740,000円→370,000円
- 海外協定校への留学が可能です。また、**留学先の学費は無料**です。
※渡航にかかる費用・現地での生活費等は自己負担
- GETコース履修生は、本学が開講している**資格講座の受講料が無料**です。(年間2講座)
※GETコースを途中で離脱した場合は、離脱した次学期から学費等の減免は適用されません。

海外留学一般入学試験〈GETコース選抜〉

A日程・B日程・C日程

学費
減免 一般
選抜

出願資格 以下の①～⑥のいずれかに該当する者。

- ①高等学校もしくは中等教育学校を卒業した者、または、2023年3月卒業見込みの者。
 - ②通常の課程による12年の学校教育を修了した者、または、2023年3月修了見込みの者。
 - ③文部科学大臣が高等学校の課程と同等の課程を有するものとして認定した在外教育施設の当該課程を修了した者、または、2023年3月修了見込みの者。
 - ④文部科学大臣が指定した専修学校の高等課程において、修業年限3年以上の課程を修了した者、または、2023年3月修了見込みの者。
 - ⑤文部科学大臣の行う高等学校卒業程度認定試験に合格した者、または、2023年3月までに合格見込みの者。
 - ⑥本学において、相当の年齢に達し、高等学校を卒業した者と同等以上の学力があると認められた者。
- ※⑥で出願を希望される方は、所定期日までに広報入課へご連絡ください。
(期日) A日程・B日程：12月16日(金) C日程：1月20日(金)

日程	出願期間(消印有効)	試験日	合否発表日	入学手続締切日	
A日程	2023年 1/1(日)～1/20(金) Web出願・書類郵送	2023年 1/28(土)	2023年 2/3(金)	1次	2023年 2/17(金)
				2次	2023年 2/28(火)
B日程	2023年 2/1(水)～2/17(金) Web出願・書類郵送	2023年 2/25(土)	2023年 3/3(金)	2023年 3/10(金) ※一括納入方式のみ	
C日程	2023年 2/20(月)～3/5(日) Web出願・書類郵送	2023年 3/10(金)	2023年 3/15(水)	2023年 3/22(水) ※一括納入方式のみ	

※入学辞退：入学手続を完了した後、2023年3月31日(金)までに入学辞退を申し出た方には、入学金を除く学費・その他納入金を返還します。(最終日必着)

試験会場

本学

募集人員

学部	学科	募集人員
経済学部	経済学科	5名
総合経営学部	経営学科	
	商学科	
公共学部	公共学科	

※募集人員は、海外留学一般入学試験(GETコース選抜)A日程・B日程・C日程を合計した人数です。

選考方法

学力試験2科目(英語および国語)の総得点(250点満点)と書類審査及び面接・口頭試問による総合選考

科目	出題範囲	配点	試験時間
英語	コミュニケーション英語Ⅰ、コミュニケーション英語Ⅱ、英語表現Ⅰ	150点	60分
国語	国語総合(古文、漢文を除く)	100点	60分

※[英語]は100点満点を150点満点に換算します。

入学検定料

10,000円 ※入学検定料減免制度有(P.6参照)

Point

●GETコース履修生は、**授業料を4年間半額免除**します。

授業料減免額 授業料年間 740,000円→370,000円

●海外協定校への留学が可能です。また、**留学先の学費は無料**です。

※渡航にかかる費用・現地での生活費等は自己負担

●GETコース履修生は、**本学が開講している資格講座の受講料が無料**です。(年間2講座)

※GETコースを途中で離脱した場合は、離脱した次学期から学費等の減免は適用されません。

外国人留学生入学試験

出願資格 以下の①および②に該当する者。

- ①外国籍を有する者で、外国において学校教育における12年の課程を修了した者。
(2023年3月31日までに修了見込みを含む)、もしくはこれに準ずる者で、文部科学大臣の指定した者。
- ②日本に居住し、**住居地の届出を完了している者。**

出願時に必要な書類 ※出願書類の原本・翻訳・コピーなどを事前に準備してください。

- (1)出身高等学校の卒業(修了)証明書の原本、卒業(修了)見込証明書の原本、または、大学入学資格取得証明書、卒業証明書が発行されない国については、それに代わるものとして、卒業証書のコピーを提出してください。
- (2)出身高等学校の成績証明書の原本
出身学校長が作成し、3年間の成績が記載されているものを提出してください。
※上記(1)および(2)の証明書が日本語または英語以外の場合は、大使館、領事館、もしくは出身学校で日本語または英語に翻訳し、原文と訳文の内容が相違ないという証明を受けたうえで、原本と一緒に提出してください。
※全ての書類に公印が必要です。
- (3)住民票
- (4)パスポートの写し
氏名・パスポート番号の記載のある頁、および顔写真のある頁をコピーして提出してください。
- (5)在留カードの写し(表面と裏面)
※最新の情報に更新したものを、表面・裏面共にコピーして提出してください。
- (6)写真1枚(カラー)
出願前3カ月以内に撮影した上半身・脱帽・正面・無背景の写真(縦4cm×横3cm)。

出願期間(消印有効)	試験日	合否発表日	入学手続締切日	
2022年 11/7(月)～11/21(月)	2022年 12/3(土)	2022年 12/9(金)	1次	2023年 1/5(木)
			2次	2023年 1/26(木)

※入学辞退：入学手続を完了した後、2023年3月31日(金)までに入学辞退を申し出た方には、入学金を除く学費・その他納入金を返還します。(最終日必着)

試験会場

本学

募集人員

学部	学科	募集人員
経済学部	経済学科	10名
総合経営学部	経営学科	
	商学科	
公共学部	公共学科	

選考方法

日本語(筆記試験：100点)及び面接・口頭試問による総合選考

入学検定料

35,000円

Point

●私費外国人留学生のための支援の一つとして、**授業料の軽減を行っています。(授業料の30%を軽減)**

私費外国人留学生の授業料軽減制度(2022年度入学生実績)

[授業料軽減希望者は下記のすべての項目に該当すること]

- (1)本学の正規課程に在籍していること。
- (2)[留学]の在留資格を有する私費外国人留学生(入学後、申請時点で他の在留資格から[留学]への変更及び期間更新手続き中の留学生を含む。)であること。
- (3)学業・人物ともに優れ、経済的理由により修学が困難で、下記の条件を満たしていること。
 - ・家賃が月額3万円以下
 - ・仕送りが月額9万円以下(学費は除く)
 - ・取得単位数
 - ・1年終了時 16単位以上
 - ・2年終了時 44単位以上
 - ・3年終了時 80単位以上

※希望者は、入学後に必要な手続きを行います。

●日本語(筆記試験)の前年度の入試問題はP.86に掲載しています。

社会人入学試験 〈1年次入学制〉 〈3年次入学制〉

事前審査申込資格

1年次入学制

原則として**2023年4月1日現在において満25歳以上**で、次のいずれかに該当する者。

- ①高等学校もしくは中等教育学校を卒業した者、または、2023年3月卒業見込みの者。
- ②通常の課程による12年の学校教育を修了した者、または、2023年3月修了見込みの者。
- ③学校教育法施行規則第150条の規定により、高等学校を卒業した者と同等以上の学力があると認められる者、または、2023年3月までにこれに該当する見込みの者。
- ④上記の①から③と同等以上の資格があると本学が認めた者。

3年次入学制

原則として**2023年4月1日現在において満25歳以上**で、次のいずれかに該当する者。

- ①日本国内の4年制大学において2年以上在籍(休学期間は含まず)し、当該大学における卒業に必要な単位のうち56単位以上修得した者、または、2023年3月修得見込みの者。
- ②日本国内の短期大学または高等専門学校を卒業した者、または、2023年3月卒業見込みの者。
- ③日本国内の専修学校の専門課程(修業年限が2年以上で、その他、文部科学大臣の定める基準を満たすものに限る)を修了した者、または、2023年3月修了見込みの者。
(ただし、学校教育法第90条に規定する大学入学資格(高等学校卒業業者、または、高等学校卒業業者と同等以上の学力を有する者)を有する者に限る。)
- ④上記の①から③と同等以上の資格があると本学が認めた者。

事前審査申込期間(最終日必着)	事前審査日	事前審査結果通知日	必要書類
2022年 9/20(火)～10/7(金)	2022年 10/15(土)	2022年 10/16(日)	事前審査シート 事前審査課題

※事前審査申込を希望される方は、広報入試課へご連絡ください。

事前審査会場

本学

事前審査

提出書類にもとづく個別面談

事前審査料

無料

出願資格 事前審査で出願が許可された者。

出願期間(消印有効)	試験日	合否発表日	入学手続締切日	
2022年 10/17(月)～10/28(金)	2022年 11/5(土)	2022年 11/11(金)	1次	2022年 11/30(水)
			2次	2023年 1/13(金)

※入学辞退：入学手続を完了した後、2023年3月31日(金)までに入学辞退を申し出た方には、入学金を除く学費・その他納入金を返還します。(最終日必着)

試験会場

本学

選考方法

書類審査及び面接・口頭試問による総合選考

入学検定料

35,000円

募集人員

学部	学科	募集人員
経済学部	経済学科	若干名
総合経営学部	経営学科	
	商学科	
公共学部	公共学科	

Point

- 入学年度の4月1日の年齢が満65歳以上の方を対象に、シニア特別授業料減免制度を設けています。

シニア特別授業料減免制度

入学年度の4月1日の年齢×5,000円を減免します。

満65歳の方の場合
740,000円(通常の年間授業料)－325,000円(減免額)=415,000円(年間授業料)

編入学・転入学試験

出願資格

編入学

(3年次入学)以下のいずれかに該当する者。

- ①日本国内の短期大学または高等専門学校を卒業した者、または、2023年3月卒業見込みの者。
- ②日本国内の専修学校の専門課程(修業年限が2年以上で、その他、文部科学大臣の定める基準を満たすものに限る)を修了した者、または、2023年3月修了見込みの者。(ただし、学校教育法第90条に規定する大学入学資格(高等学校卒業業者、または、高等学校卒業業者と同等以上の学力を有する者)を有する者に限る)
- ③高等学校等の専攻科の課程(修業年限が2年以上であること、その他文部科学大臣の定める基準を満たすものに限る)を修了した者、または、2023年3月修了見込みの者。
- ④上記の①から③と同等以上の資格があると本学が認めた者。

転入学

(3年次入学)以下の①および②に該当する者。

- ①日本国内の4年制大学において2年以上在籍した者、または、2023年3月までの間に2年以上在籍見込みの者。(いずれも休学期間は含まず)
- ②当該大学における卒業に必要な単位のうち56単位以上修得した者、または、2023年3月修得見込みの者。

(2年次入学)以下の①および②に該当する者。

- ①日本国内の4年制大学において1年以上在籍した者、または、2023年3月までの間に1年以上在籍見込みの者。(いずれも休学期間は含まず)
- ②当該大学における卒業に必要な単位のうち30単位以上修得した者、または、2023年3月修得見込みの者。

出願期間(消印有効)	試験日	合否発表日	入学手続締切日
2023年 2/1(水)～2/10(金)	2023年 2/25(土)	2023年 3/3(金)	2023年 3/10(金) ※一括納入方式のみ

※入学辞退：入学手続を完了した後、2023年3月31日(金)までに入学辞退を申し出た方には、入学金を除く学費・その他納入金を返還します。(最終日必着)

試験会場

本学

選考方法

書類審査及び面接・口頭試問による総合選考

書類審査：出願課題、学修計画書、その他出願書類

入学検定料

35,000円

募集人員

学部	学科	募集人員
経済学部	経済学科	若干名
総合経営学部	経営学科	
	商学科	
公共学部	公共学科	

Point

- 本学入学前に専攻・学習していた分野に関わらず、入学と同時に^(※1)に単位を一括認定します。

単位認定制度

[3年次入学生]一括認定46単位・個別認定16単位、合計最大62単位を認定します。

ただし、編入学生で既修得単位が46単位に満たない場合は、既修得単位の範囲内で一括認定します。

[2年次入学生]一括認定28単位・個別認定8単位、合計最大36単位を認定します。

※1 単位認定には所定の手続が必要です。詳細は、入学手続時にご案内します。

※2 本学卒業の要件を満たすために3年次入学生は2年間、2年次入学生は3年間で卒業できないことがあります。

2022年度入学試験結果	P.40
学費・奨学金・その他の制度	P.44
入学手続方法・受験生 無料宿泊のご案内	P.45
Q&A	P.46
過去3年間の志願者出身高校	P.48
都道府県別在籍者数	P.50

2022年度入学試験結果

自己アピール入学試験 (A日程) (B日程)

学部	学科	事前審査申込者	出願許可者	受験者	合格者
経済学部	経済学科	(A日程)	(A日程)	(A日程)	(A日程)
総合経営学部	経営学科	117名	66名	62名	62名
	商学科	(B日程)	(B日程)	(B日程)	(B日程)
公共学部	公共学科	52名	20名	18名	18名

※2023年度はAO入学試験 (A日程) (B日程) に名称変更

資格利用入学試験

学部	学科	事前審査申込者	出願許可者	受験者	合格者
経済学部	経済学科	87名	87名	86名	86名
総合経営学部	経営学科				
	商学科				
公共学部	公共学科				

全商協会資格利用入学試験

学部	学科	事前審査申込者	出願許可者	受験者	合格者
経済学部	経済学科	40名	40名	40名	40名
総合経営学部	経営学科				
	商学科				

公募推薦入学試験 (A日程)

学部	学科	志願者	受験者	合格者	合格最低点 (250点満点)	倍率
経済学部	経済学科	279名	268名	148名	154.5	1.81
総合経営学部	経営学科	296名	283名	147名	166.5	1.93
	商学科	265名	252名	117名	176.5	2.15
公共学部	公共学科	214名	204名	157名	155.5	1.30
合計		1,054名	1,007名	569名	-	1.77

※試験日ごとの問題の難易度の違いによる有利・不利をなくすため、総得点を偏差値換算して合否判定を行っています。そのため、合格最低点を上回っている場合でも、不合格となることがあります。

※2023年度は公募制入学試験 (A日程) に名称変更

資格公募推薦入学試験 (A日程)

学部	学科	志願者	受験者	合格者	合格最低点 (250点満点)	倍率
経済学部	経済学科	42名	42名	32名	177.0	1.31
総合経営学部	経営学科	51名	51名	35名	184.0	1.46
	商学科	47名	47名	17名	193.0	2.76
公共学部	公共学科	31名	31名	23名	179.0	1.35
合計		171名	171名	107名	-	1.60

※2023年度は資格公募制入学試験 (A日程) に名称変更

公募推薦入学試験 (B日程)

学部	学科	志願者	受験者	合格者	合格最低点 (250点満点)	倍率
経済学部	経済学科	117名	102名	47名	150.5	2.17
総合経営学部	経営学科	116名	101名	45名	155.0	2.24
	商学科	104名	89名	40名	162.0	2.23
公共学部	公共学科	86名	73名	33名	155.0	2.21
合計		423名	365名	165名	-	2.21

※試験日ごとの問題の難易度の違いによる有利・不利をなくすため、総得点を偏差値換算して合否判定を行っています。そのため、合格最低点を上回っている場合でも、不合格となることがあります。

※2023年度は公募制入学試験 (B日程) に名称変更

資格公募推薦入学試験 (B日程)

学部	学科	志願者	受験者	合格者	合格最低点 (250点満点)	倍率
経済学部	経済学科	41名	39名	27名	195.0	1.44
総合経営学部	経営学科	51名	49名	32名	195.0	1.53
	商学科	44名	42名	29名	195.0	1.45
公共学部	公共学科	35名	33名	22名	195.0	1.50
合計		171名	163名	110名	-	1.48

※2023年度は資格公募制入学試験 (B日程) に名称変更

スポーツ活動実績利用入学試験 前期

学部	学科	事前審査申込者	出願許可者	受験者	合格者
経済学部	経済学科	65名	65名	65名	65名
総合経営学部	経営学科				
	商学科				
公共学部	公共学科				

スポーツ活動実績利用入学試験 後期

学部	学科	事前審査申込者	出願許可者	受験者	合格者
経済学部	経済学科	11名	11名	11名	11名
総合経営学部	経営学科				
	商学科				
公共学部	公共学科				

一般入学試験前期A日程《2科目方式》

学部	学科	志願者	受験者	合格者	合格最低点 (200点満点)	倍率
経済学部	経済学科	194名	183名	32名	141.0	5.72
総合経営学部	経営学科	216名	203名	32名	142.0	6.34
	商学科	191名	180名	27名	144.0	6.67
公共学部	公共学科	145名	136名	38名	138.0	3.58
合計		746名	702名	129名	-	5.44

※試験日ごとの問題の難易度の違いによる有利・不利をなくすため、総得点を偏差値換算して合否判定を行っています。そのため、合格最低点を上回っている場合でも、不合格となることがあります。

一般入学試験前期A日程《3科目方式》

学部	学科	志願者	受験者	合格者	合格最低点 (300点満点)	倍率
経済学部	経済学科	118名	114名	35名	194.0	3.26
総合経営学部	経営学科	117名	113名	26名	199.0	4.35
	商学科	102名	98名	26名	199.0	3.77
公共学部	公共学科	92名	88名	29名	199.0	3.03
合計		429名	413名	116名	-	3.56

※試験日ごとの問題の難易度の違いによる有利・不利をなくすため、総得点を偏差値換算して合否判定を行っています。そのため、合格最低点を上回っている場合でも、不合格となることがあります。

一般入学試験前期B日程《2科目方式》

学部	学科	志願者	受験者	合格者	合格最低点 (200点満点)	倍率
経済学部	経済学科	113名	91名	16名	131.0	5.69
総合経営学部	経営学科	111名	88名	14名	138.0	6.29
	商学科	103名	81名	11名	131.0	7.36
公共学部	公共学科	95名	78名	15名	131.0	5.20
合計		422名	338名	56名	-	6.04

※試験日ごとの問題の難易度の違いによる有利・不利をなくすため、総得点を偏差値換算して合否判定を行っています。そのため、合格最低点を上回っている場合でも、不合格となることがあります。

一般入学試験前期B日程《3科目方式》

学部	学科	志願者	受験者	合格者	合格最低点 (300点満点)	倍率
経済学部	経済学科	44名	35名	6名	196.0	5.83
総合経営学部	経営学科	47名	38名	7名	196.0	5.43
	商学科	42名	35名	6名	196.0	5.83
公共学部	公共学科	37名	29名	6名	196.0	4.83
合計		170名	137名	25名	-	5.48

※試験日ごとの問題の難易度の違いによる有利・不利をなくすため、総得点を偏差値換算して合否判定を行っています。そのため、合格最低点を上回っている場合でも、不合格となることがあります。

一般入学試験後期C日程《2科目方式》

学部	学科	志願者	受験者	合格者	合格最低点 (250点満点)	倍率
経済学部	経済学科	78名	72名	34名	143.5	2.12
総合経営学部	経営学科	76名	70名	19名	167.0	3.68
	商学科	75名	69名	19名	160.5	3.63
公共学部	公共学科	64名	58名	26名	143.5	2.23
合計		293名	269名	98名	-	2.74

大学入学共通テスト利用A日程《2科目判定方式》

※本学独自の学力試験は実施しておりません。

学部	学科	志願者	合格者	合格最低点 (200点満点)	倍率
経済学部	経済学科	63名	20名	125.0	3.15
総合経営学部	経営学科	64名	22名	125.0	2.91
	商学科	60名	19名	125.0	3.16
公共学部	公共学科	41名	12名	125.0	3.42
合計		228名	73名	-	3.12

大学入学共通テスト利用A日程《3科目判定方式》

※本学独自の学力試験は実施しておりません。

学部	学科	志願者	合格者	合格最低点 (300点満点)	倍率
経済学部	経済学科	34名	10名	176.5	3.40
総合経営学部	経営学科	31名	10名	176.5	3.10
	商学科	28名	8名	176.5	3.50
公共学部	公共学科	24名	6名	176.5	4.00
合計		117名	34名	-	3.44

大学入学共通テスト利用B日程《2科目判定方式》

※本学独自の学力試験は実施しておりません。

学部	学科	志願者	合格者	合格最低点 (200点満点)	倍率
経済学部	経済学科	13名	3名	125.0	4.33
総合経営学部	経営学科	12名	3名	125.0	4.00
	商学科	11名	3名	125.0	3.67
公共学部	公共学科	12名	3名	125.0	4.00
合計		48名	12名	-	4.00

大学入学共通テスト利用B日程《3科目判定方式》

※本学独自の学力試験は実施しておりません。

学部	学科	志願者	合格者	合格最低点 (300点満点)	倍率
経済学部	経済学科	5名	1名	170.0	5.00
総合経営学部	経営学科	4名	1名	170.0	4.00
	商学科	3名	1名	170.0	3.00
公共学部	公共学科	4名	1名	170.0	4.00
合計		16名	4名	-	4.00

大学入学共通テスト利用C日程《2科目判定方式》

※本学独自の学力試験は実施しておりません。

学部	学科	志願者	合格者	合格最低点 (200点満点)	倍率
経済学部	経済学科	13名	2名	125.0	6.50
総合経営学部	経営学科	12名	2名	125.0	6.00
	商学科	12名	2名	125.0	6.00
公共学部	公共学科	9名	2名	125.0	4.50
合計		46名	8名	-	5.75

大学入学共通テスト利用C日程《3科目判定方式》

※本学独自の学力試験は実施しておりません。

学部	学科	志願者	合格者	合格最低点 (300点満点)	倍率
経済学部	経済学科	8名	2名	173.5	4.00
総合経営学部	経営学科	7名	2名	173.5	3.50
	商学科	7名	2名	173.5	3.50
公共学部	公共学科	4名	1名	173.5	4.00
合計		26名	7名	-	3.71

海外留学公募推薦入学試験

学部	学科	志願者	受験者	合格者	倍率
経済学部	経済学科	13名	12名	4名	3.00
総合経営学部	経営学科				
	商学科				
公共学部	公共学科				

※2023年度は海外留学公募制入学試験に名称変更

海外留学一般入学試験

学部	学科	志願者	受験者	合格者	倍率
経済学部	経済学科	4名	4名	1名	4.00
総合経営学部	経営学科				
	商学科				
公共学部	公共学科				

外国人留学生入学試験

学部	学科	志願者	受験者	合格者	倍率
経済学部	経済学科	12名	12名	0名	-
総合経営学部	経営学科				
	商学科				
公共学部	公共学科				

社会人入学試験《1年次入学制》《3年次入学制》

学部	学科	事前審査申込者	出願許可者	受験者	合格者
経済学部	経済学科	1名	0名	0名	0名
総合経営学部	経営学科				
	商学科				
公共学部	公共学科				

編入学・転入学試験

学部	学科	志願者	受験者	合格者	倍率
経済学部	経済学科	13名	12名	12名	1.00
総合経営学部	経営学科				
	商学科				
公共学部	公共学科				

※各入学試験制度の合格者数は、正規合格者のみであり、追加合格者を含んでいません。

学費・奨学金・その他の制度

入学金・学費・その他納入金

学費の納入は、口座振替(口座引き落とし)方式(年2回)です。

費目	1年次			2年次以降		
	入学時	後期	年間	前期	後期	年間
入学金	220,000円	—	220,000円	—	—	—
学費						
授業料	370,000円	370,000円	740,000円	370,000円	370,000円	740,000円
教育充実費	150,000円	150,000円	300,000円	150,000円	150,000円	300,000円
小計	740,000円	520,000円	1,260,000円	520,000円	520,000円	1,040,000円
その他納入金						
教育後援協力費	10,000円	10,000円	20,000円	10,000円	10,000円	20,000円
校友会費	15,000円	—	15,000円	—	—	—
学生会入会金	10,000円	—	10,000円	—	—	—
学生会費(アルバム代含む)	5,000円	5,000円	10,000円	5,000円	5,000円	10,000円
学生福利厚生費	7,500円	2,500円	10,000円	2,500円	2,500円	5,000円
小計	47,500円	17,500円	65,000円	17,500円	17,500円	35,000円
合計	787,500円	537,500円	1,325,000円	537,500円	537,500円	1,075,000円

兄弟姉妹入学金免除制度

入学年度において、入学生の兄弟姉妹が本学学部または大学院に在学中の場合(同時入学も含む)、入学金(220,000円)を返還します。詳しくは広報入試課【TEL. 06-6787-2424】までお問い合わせください。

高等教育の修学支援新制度

本学は国の高等教育の修学支援新制度(授業料等減免および給付型奨学金)の対象校に認定されています。詳しくは学生支援課【TEL. 06-6782-2297】までお問い合わせください。

奨学金

大阪商業大学奨学金・減免制度

種類	内容	金額
新入生奨学金	一般入学試験前期 A日程・B日程	入試成績が特に優秀な新入生に給付(入学年次のみ) 520,000円 学費の1/2相当額
	公募制入学試験 A日程	入試成績が特に優秀な新入生に給付(入学年次のみ) 260,000円 学費の1/4相当額
	指定校推薦入学試験	当該入学試験に合格し、チャレンジ制度で優秀な成績を修めた新入生に給付(入学年次のみ) 260,000円 学費の1/4相当額
	資格利用入学試験	出願時に本学が定めた成績・資格条件を満たした新入生に給付(入学年次のみ) [A区分] 520,000円 学費の1/2相当額 ※入学金半額免除(110,000円) [B区分] 260,000円 学費の1/4相当額
学費減免制度	全商協会資格利用入学試験	当該入学試験に合格した新入生は、入学金を半額免除、学費は4年間半額免除 [入学金] 110,000円 [学費] 520,000円(年間)
	海外留学公募制入学試験 A日程・B日程 海外留学一般入学試験 A日程・B日程・C日程	当該入学試験などに合格したGETコース履修生は、本学の授業料を4年間半額免除、留学先大学の学費を全額免除 [本学の授業料] 370,000円(年間) [留学先大学の学費] 全額免除
	シニア特別授業料減免制度	社会人入学試験【1年次入学制】【3年次入学制】 入学年度の4月1日の年齢が満65歳以上の方を対象に減免 入学年度(4月1日)の年齢×5千円
成績優秀奨学金	学業で優れた成績を修めた学生に対して、奨学金を給付 【対象: 2~4年生】 150,000円	
給付奨学金	学費負担者の死亡や長期入院などにより家計が急変し、修学が著しく困難な学生に授業料の一部を給付 【対象: 1~4年生】 370,000円 年間授業料の1/2を上限	
学生支援給付奨学金	修学の熱意があるが経済的事情により修学が困難な学生に授業料の一部を給付 【対象: 1~4年生】 111,000円 後期授業料の30%を上限	
谷岡奨学金	文化・芸術、スポーツ、社会活動などで本学の名を著しく高め、将来の活躍が期待できる者・団体に給付 【対象: 2~4年生】 300,000円 最高額	
教育ローン利子補給奨学金	本学が定めた基準を満たし、かつ指定する金融機関より教育ローンを利用した者に利子分を給付(各学年から選考し全学年で40人程度) 【対象: 1~4年生】 50,000円 最高額	

他団体の奨学金制度

日本学生支援機構奨学金(貸与型)		地方公共団体・民間育英団体奨学金
無利子奨学金と有利子奨学金の2種類が設けられており、全学年が対象(修学支援新制度の利用者は以下の金額とは異なります)。新規申込希望者は4月に募集を行います(家計急変時はその都度、相談に応じます)。		各都道府県教育委員会や各種育英団体(市町村・民間団体)が実施する奨学金制度。地方公共団体の奨学金は、各自が居住する都道府県、市町村の教育委員会が窓口です。募集があり次第、大学ポータルシステム「S-Nav!」掲示板などでお知らせします。
種類	対象	
第一種奨学金(無利子)	自宅通学者(月額) 20,000円 / 30,000円 / 40,000円から選択 ※家計基準により、最高月額54,000円を選択可能	自宅外通学者(月額) 20,000円 / 30,000円 / 40,000円 / 50,000円から選択 ※家計基準により、最高月額64,000円を選択可能
第二種奨学金(有利子)	20,000円~120,000円のうち、1万円刻みで選択	

その他の支援制度

在学生の保護者または本人に代わり、金融機関が学費を本学へ直接支払う融資制度があります。

提携教育ローン制度

金融機関名	種類	対象	入学時対応
株式会社オリエントコーポレーション	オリコ学費サポートプラン	1~4年次	可
SMBCファイナンスサービス株式会社	セディナ学費ローン	1~4年次	不可

入学手続方法

大阪商業大学では、入学手続方法が「一括納入方式」または「分割納入方式」より選択可能となっています。

入学手続方法	入学手続締切日	
	【1次手続き】	【2次手続き】
一括納入方式	入学金 + 学費等 (納入期日) 手続書類郵送 (締切日消印有効)	
分割納入方式 (※一部適用外の入試制度あり)	入学金 (納入期日) 手続書類郵送 (締切日消印有効)	入学金以外の学費等 (納入期日)

受験生無料宿泊のご案内

大阪商業大学では、キャンパスまで徒歩約2分のU・コミュニティホテルと提携し、試験日前日の無料宿泊サービスを実施しています。ぜひ、ご利用ください。

無料宿泊サービス

U・コミュニティホテル

〒577-0036 大阪府東大阪市御厨栄町1-3-30 近鉄奈良線「河内小阪」駅より徒歩約3分

☎06-6784-3000

<https://www.u-community.co.jp/>

大阪商業大学の受験生であることを伝えてください。



利用の方法

- 宿泊を希望する方は、U・コミュニティホテルに直接問い合わせ予約してください。その際、本学の受験生であることを教えてください。
- ホテルにチェックインの際、受験票を提示してください。

予約について

- 予約は満室になり次第受付を終了しますので、お早めの予約をお勧めします。
- キャンセル料金、部屋の破損弁償等は、受験生負担となります。(キャンセルの連絡がない場合に限り、キャンセル料金が発生します。)
 - 旅行社等を経由した場合の予約は対象外となります。
 - 試験日前日の宿泊のみ対象となります。
 - 受験生本人のみ対象となります。(付き添いの方には料金割引があります。ご予約の際にお問い合わせください。)
 - 食事は含まれておりません。

無料宿泊サービス対象日(各入学試験日の前日が対象です)

入学試験制度	対象日
AO入学試験A日程	9/2(金)・9/3(土)・10/14(金)
AO入学試験B日程	11/11(金)・12/2(金)
資格利用入学試験	10/21(金)
全商協会資格利用入学試験	10/21(金)
公募制入学試験A日程	11/4(金)・11/5(土)
公募制入学試験B日程	12/2(金)・12/3(土)
資格公募制入学試験A日程	11/4(金)
資格公募制入学試験B日程	12/2(金)
スポーツ活動実績利用入学試験 前期	11/20(日)
スポーツ活動実績利用入学試験 後期	2/24(金)
指定校推薦入学試験	11/25(金)・11/26(土)
指定校推薦入学試験チャレンジ制度	1/28(土)
一般入学試験前期A日程	1/27(金)・1/28(土)
一般入学試験前期B日程	2/23(木)・2/24(金)
一般入学試験後期C日程	3/9(木)
海外留学公募制入学試験A日程	11/5(土)
海外留学公募制入学試験B日程	12/3(土)
海外留学一般入学試験A日程	1/27(金)
海外留学一般入学試験B日程	2/24(金)
海外留学一般入学試験C日程	3/9(木)
外国人留学生入学試験	12/2(金)
社会人入学試験	10/14(金)・11/4(金)
編入学・転入学試験	2/24(金)

出願について

Q出願後に試験日、志望学科などを変更することは可能ですか？

A Web出願の場合、入学検定料の支払い前であれば、出願内容の変更画面からご自身で変更が可能です。(併願制のみ)
入学志願票での出願の場合は、出願書類提出後の変更は一切認めていません。

Q Web出願で登録を行った後、書類送付は必要ですか？

A 必要です。インターネットでの出願登録後、入学検定料の支払いが完了したら、調査書等の必要書類を郵便局の窓口から簡易書留・速達で期限内に郵送してください。市販の角2封筒を使用してください。

Q 調査書と写真の提出はすべての入学試験に必要ですか？

A 必要です。2回目以降の出願であっても、出願ごとに調査書や写真などの提出書類を再度提出してください。
なお、1回の出願で複数の入学試験制度に同時出願する場合(P.6、7)は、調査書は1通で構いません。

Q 出願書類を持参できますか？

A キャンパスでの受付は原則行いません。出願書類の提出は、入試要項に記載された送付方法でのみ受け付けます。

受験について

Q 公募制入学試験A日程・B日程には選考方法が「基礎テスト型」・「調査書型」の2種類ありますが、試験日当日に決めるのですか？

A 出願時に登録していただけます。(2日間受験する場合は同一の選考方法)
得意科目がある方は、高得点科目を1.5倍する「基礎テスト型」がおすすめです。
高等学校での成績を利用したい方は、調査書の「全体の学習成績の状況」を10倍して得点に加算する「調査書型」がおすすめです。
なお、選択科目については、全ての科目の試験問題を当日配付しますので、その中で自身の能力が発揮できる科目を選んで受験してください。ただし、選択科目ならびに科目間の得点調整は原則行いません。

Q 試験日自由選択制とは何ですか？

A 公募制入学試験A日程・B日程、一般入学試験前期A日程・B日程で実施しています。同じ入学試験で試験日が2日間あるので、都合のよい日程(2日間受験も可)を選んで受験できる制度です。2日間受験する場合は、同一方式での出願となります。

Q 試験日の違いによって不利になることはありませんか？

A 不利になることはありません。試験日ごとの問題の難易度の違いによる有利・不利をなくするために、総得点を偏差値換算して合否判定を行います。

Q 一般入学試験前期A日程・B日程には選考方法が「3科目方式」・「2科目方式」の2種類がありますが、試験日当日に決めるのですか？

A 出願時に登録していただけます。(2日間受験する場合は同一方式)
なお、「2科目方式」で受験を希望される場合は、出願時に受験科目パターン(「国語」+「英語」、「国語」+「選択」、「英語」+「選択」)も併せて登録していただけます。選択科目については、全ての科目の試験問題を当日配付しますので、その中で自身の能力が発揮できる科目を選んで受験してください。ただし、選択科目ならびに科目間の得点調整は原則行いません。

Q 一般入学試験前期A日程・B日程には「3科目方式」と「2科目方式」の2種類がありますが、有利不利はありますか？

A 有利不利はありませんが、以下の内容を踏まえてどちらを受験するか検討してください。
2科目方式は得意科目のみ(苦手科目が含まれない)で受けられるならば合格する可能性は上がるといえます。しかし、受験の際に1科目失敗すると挽回しにくいこともあります。また、2科目を得意とする受験生が受験するので、難易度は3科目方式より上がることもあります(P.41)。これを補うのが3科目方式で、多少の失敗ならば挽回することが可能となり、3科目の合計点に加え、高得点の2科目の合計点と比較して判定されます。3科目方式は、2科目を得意科目とする受験生も受験するメリットはあるといえます。

Q 先に受験した入学試験制度で第2志望以下の学科に合格し入学手続きを行いました。再度第1志望の学科を受験するため、新たに別の入学試験制度に出願することはできますか？ その場合、もう一度入学手続時納入金を納入しなければなりませんか？

A 本学では、入学手続時納入金振替制度(P.9)を導入していますので、この場合、入学手続時納入金を二重に納入する必要はありません。安心して自身の志望する学科の合格をめざし、チャレンジしてください。詳しくは、広報入試課まで連絡してください。

Q 身体等に障がいがあります。受験時に「受験上の配慮」はありますか？

A 身体的な理由等で受験時及び入学後の就学に特別な配慮を必要とする場合は、各入学試験制度の出願開始2週間前までに広報入試課までご連絡ください。

なお、相談の内容によっては、ご希望に添えない場合もありますので予めご了承ください。

また、出願後に、不慮の事故等による負傷や疾病により、受験時に特別な配慮を必要とされる場合も、早めに広報入試課までご連絡ください。

合否判定について

Q 合否判定の際に基準点を設けていますか？

A 基準点は設けていません。全ての入学試験において総合点で合否判定を行います。

Q 複数志望した場合、合否判定はどのように行いますか？

A 出願登録時の志望学科順に従って合否判定を行います。

Q 合否はどのように発表されますか？

A Web出願を利用する入学試験は、Web合否照会が可能ですので、各自確認してください。
Web合否照会は、合格発表日の午前10時にUCAROを利用して確認できます。
また、合格者には合格通知書と入学手続書類等を郵送します。不合格者への通知は行っていません。
電話・Eメールなどによる合否に関する問い合わせには一切応じません。
※Web出願を利用しない入学試験は、合否通知書を郵送します。Web合否照会は利用できませんので、ご注意ください。

その他

Q 試験会場の下見はできますか？

A キャンパス内の見学はできますが、入学試験前日より学舎内や教室への立ち入りはできません。
地方会場については、所在地や所要時間の確認にとどめてください。

Q 新型コロナウイルス感染症に関する入学試験の対応について知りたいです。

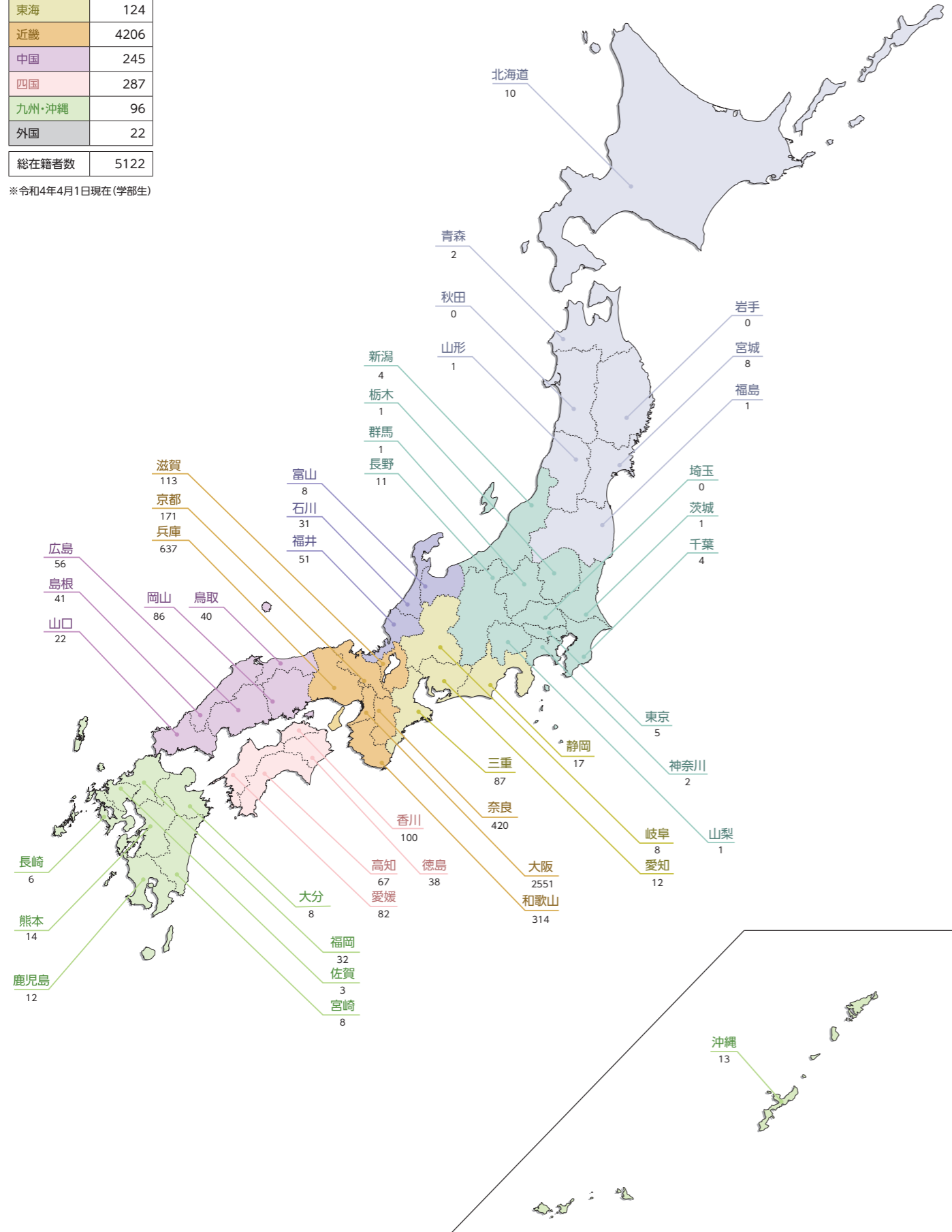
A 新型コロナウイルス感染症の拡大や情勢の変化等に応じて、随時本学公式Webサイトから情報を発信しますので、受験生の皆さまは必ず確認してください。

発信する情報には、受験生へのお願い・連絡事項や試験実施における本学の対応に加え、受験生が新型コロナウイルス感染症等に罹患した場合あるいは濃厚接触(疑いも含む)の場合、別日程への試験日の振替や予備面接の実施について告知します。

都道府県別在籍者数

北海道・東北	22
関東・甲信越	30
北陸	90
東海	124
近畿	4206
中国	245
四国	287
九州・沖縄	96
外国	22
総在籍者数	5122

※令和4年4月1日現在(学部生)



2023 ENTRANCE EXAMINATION GUIDE

2022年度 入学試験問題

CONTENTS

出題の傾向と対策	P.52
公募制入学試験対策	P.54
一般入学試験対策	P.65
外国人留学生入学試験対策	P.86
AO入学試験対策 自己アピール型—事前審査課題—	P.88
入学試験問題解答	P.89

公募制入学試験 対策問題

一般入学試験 対策問題

国語

英語

日本史

数学

簿記・会計

現代社会

国語

英語

日本史

世界史

現代社会・政治経済

数学

外国人留学生入学試験

A入学試験 O

解答

■公募制入学試験

国語

比較的読みやすい評論、エッセー(随筆)、また小説などから出題されます。評論やエッセーでは、「社会」「経済」「言語」「文化」といった幅広いテーマが取り上げられます。いずれの問題でも文章の趣旨の読み取りはもちろん、文中の漢字や熟語の読み書き、言い回しや慣用句の意味が問われます。日頃から新聞の社説やコラム、雑誌の評論、エッセー集などに目を通し、慣れておくことが試験の対策として有効でしょう。また、現代作家の作品を通読し、登場人物の発言や行動を通してその心情を理解できるよう努めてください。そして、ことわざ、四字熟語、反意語、同音異義語など、基本的な国語力を普段から養っておくことも大切です。

英語

試験問題は文法、会話文完成、慣用句完成、語句整序、適切な和訳選択、長文読解の6種類、合計40問で構成されています。英検準2級までのレベルに重点が置かれており、語彙もそのレベルを超えるものはほとんど出てきません。長文中の難易度が高い語句には注釈を設けていますので、単語の意味だけを暗記するような学習はお勧めできません。普段から教科書の文章や会話文にたくさん触れ、分からない語句があっても全体の内容を推測・把握する練習や、主語・述語動詞を確認しながら意味を考えるなどの練習を行ってください。文法や語句整序問題については、5文型、形式主語構文、後置修飾、無生物主語構文などの典型的な例文を何度も声に出して読む、日本語から英語にしてみるなどの練習が効果的です。

日本史

古代・中世・近世・近現代の4つの時代から1つずつ、基本的な問題が出題されます。出題形式は空所補充で、語群の中から最適な語句を選ぶものとなっており、各時代の政治や経済、外交の動き、文化や芸術など幅広い分野を問う構成になっています。また、年号について問う問題もあるので、重要な事件の年号は必ず覚えておきましょう。いずれも、細かい語句の一字一句まで暗記できているのかを問うのではなく、教科書レベルの知識で解答できる基本的・標準的な出題であり、基礎力を問う内容になっています。教科書の内容を理解できるまで繰り返し復習しておきましょう。

現代社会

現代社会の基礎的な事項を問う大問4問(I~IV)となっています。ある主題について述べた文章の空欄を補充する問題や、基本的事項の知識を問う正誤選択の問題などが出題されています。いずれも現代社会を社会、経済、政治、国際関係など幅広い観点から取り上げるもので、時事的問題も出題されます。対策としては、教科書をよく読み、重要な事項は資料集も参照するなど、基本的事項をもれなく学習するようにしましょう。また、平素から、現代社会における大きな動きや出来事、新たな社会的課題についての報道にも関心を持ち、それらに関連する内容を教科書等で確認するなど、生きた知識を身につけるよう努めましょう。

数学

数学の基本事項を身につけているかどうか、基礎的な計算力があるかどうかをみるための出題内容となっています。数学I・数学Aの出題範囲から、因数分解、方程式と不等式、2次関数、三角比と図形、場合の数と確率といった分野からの出題が多くなっています。難易度は、教科書の例題・練習問題レベルです。これらを繰り返し解き、しっかり理解しておくことと、普段から計算ミスの無いうようにチェックする習慣をつけることが大切です。出題はマークセンス方式となっているので、過去問題にチャレンジし、形式にも慣れておきましょう。

簿記・会計

公募制入試の問題は、簿記・会計の基礎についての理解度を問うものです。したがって、基本的な仕訳や基本的な会計処理、会計手続などを問う問題が中心となります。さらに、それ以外に、簿記・会計を学ぶものの常識として、高校教科書に記されている簿記・会計についての簡単な歴史や税金などの記述にも注意を向けておくべきです。このように、公募制入試においては、複雑な大問題よりも、基礎的な小問題を確実に解いていくことが求められます。

■AO入学試験 自己アピール型一事前審査課題一

課題では、現代社会のさまざまな問題が、テーマとして取りあげられています。その出題のねらいは、与えられたテーマに対して、あなたが自分で「調べ」「考え」「書く」力をどの程度もっているかを見ようというものです。その際、気をつけなければならないのは、この課題が「エントリーシートと並ぶ、事前面談の重要な資料となる」ということです。ですから、課題は書いたら終わりというのではなく、実際の面談の場で、その内容について、受け答えができるようにしておかなければなりません。そのためには、課題を提出する前にそのコピーを取っておき、何度か読み直して、どの部分を質問されるか、どう答えるかななどを想定しながら、準備しておくことが大切です。

■一般入学試験

国語

評論、エッセー(随筆)、そして小説が出題されます。評論やエッセーでは、「社会」「経済」「文化」「科学」、そして「言語」といった幅広いテーマが取り上げられます。いずれも内容を正確に読み取る問題となっています。日頃から評論やエッセーを読み慣れておくことが試験対策となります。教科書に加え、過去に出題された文章程度の評論を読んでおくといよいでしょう。小説では、現代小説が多く出題され、登場人物の行動や発言を通して心情を理解することがポイントになります。また、常識的な国語知識にかかわる問題も出題されます。「漢字の読み書き」「慣用語」「ことわざ」、そして「四字熟語」「言葉の意味」を習得し、日頃から広い意味での国語力を養っておきましょう。

英語

長文読解、図表読解、会話、語句整序、会話、文法・慣用句、語彙に関する問題が出題されます。いずれも基礎的な能力を問う問題になっています。日頃からできるだけ多くの英文や英会話文に触れ、語句や慣用表現に慣れ親しむと同時に、1つでも多くの構文を覚えてください。ただ暗記するのではなく、主語や述語、目的語や補語はどれかといったことにも注意しながら、その意味を理解していきましょう。長文読解問題の対策としては、時間を計りながら300~400字程度の英文を読み、その概要をつかむ練習をくり返し行うことをお勧めします。図表読解問題については、普段から色々なタイプの図表を見て、それが何を表しているのかを理解し、その内容に関する基本的な英語の質問に答えられるように練習しておいてください。

日本史

各時代まんべんなく出題されており、原始・古代/中世/近世/近代・現代の4つの時代区分から1つずつ、基本的な問題が出題されています。出題形式はいずれも空所補充が中心で、それぞれの時代の政治や経済、外交の動き、文化や芸術など幅広い分野を問う構成になっています。また、年号や人名等について問う問題も出題されているので、重要なものについては必ずチェックしておきましょう。なお、例年出題されている史料問題についても、特に時代やテーマの偏りはみられません。いずれも、教科書や副読本レベルの知識で回答できる出題であり、基礎力を問う内容になっています。何よりも、歴史の流れをしっかりと理解できるまで繰り返し復習しておきましょう。

世界史

大問題が3問と、適切な人物や年号、用語を問う小問題が1問です。どの問題も、教科書の基本事項を問う基礎的な問題です。欧米史にかたよらず、イスラーム圏の展開やアジア・アフリカ・中南米・太平洋におけるヨーロッパ植民地の拡張の歴史など、世界の各地域の相互関係や歴史の流れへの基本的な理解度が問われます。時代も、近現代にかたよらず、原始・古代から現代まで幅広く設問の対象とされます。テーマは政治史から文化史まで幅広く取り上げられていますので、教科書の全体をしっかりと読み込んで基本事項を十分に学習しておきましょう。何より、世界の国々の様々な文化や伝統の多様な展開の面白さに目を向けて、歴史の謎やふしぎさに興味を膨らませて学習してください。

現代社会・政治経済

現代社会の基本的問題に対する判断力や、政治や経済の諸問題を考える力の基礎となる知識を修得できているかどうかを見ようとしています。傾向としては、国内の政治や経済、国際政治、国際経済を中心に幅広い内容から、バランスをとって出題されます。また時事的問題の出題も考えられます。対策としては、教科書を熟読し、問題集を用いて、基本的事項を確実に学習しておきましょう。また、資料集などを活用し、基本的な資料についてはできる限り目を通しておくようにしましょう。

数学

数学の基本事項を身につけているかどうか、基礎的な計算力があるかどうかをみるための出題内容となっています。大問4問(I~IV)で、大問Iは「数と式」と「データの分析」、大問IIは「2次関数」、大問IIIは「場合の数と確率」、大問IVは「図形と計量」を中心とした問題が出題されています。難易度は、教科書の例題・練習問題レベルなので、まずこれらを繰り返し解き、基本を身につけましょう。また大問によっては、前の設問で求めたものを後の設問で用いることもあるので、こうした形式にも慣れておきましょう。計算ミスの無いうように普段から練習することも大切です。出題はマークセンス方式となっているので、過去問題にチャレンジし、形式にも慣れておきましょう。

●公募制入学試験/基礎学力テスト(国語)対策

- ⑦ 傍線部7の意味として最も適切なものをa~dから一つ選びなさい。
 a 読むという行為の目的を、つねにその行為の中心に置くことを無意識にしていかなければならない。
 b 読んでいる最中に、何のために読んでいるかを考えないことは、読むという行為を無意味にしてしまう。
 c 読むという行為の本質は、何のために読むのかという問いを無効にするものが存在して当然である。
 d 読むという行為の中心に、目的をもって読むことを無効にするものを発見することが必要である。
- ⑧ 傍線部8の理由として最も適切なものをa~dから一つ選びなさい。
 a 読むことによって、なんらかの利益があるという大切さを重んじていないから。
 b 自分の書くものが、他人にどう読まれるかばかり考えながらも書いているから。
 c 読むことの意味を、自分が書くことの意味ほど大切にしていなかったから。
 d 自分がものを書くことの役に立てようという意図をもって読んでいるから。
- ⑨ 傍線部9の漢字として最も適切なものをa~dから一つ選びなさい。
 a 利潤 b 理順 c 理純 d 利純
- ⑩ 傍線部10の漢字として最も適切なものをa~dから一つ選びなさい。
 a 漁 b 汗 c 焦 d 浅

- ⑪ 傍線部11の意味として最も適切なものをa~dから一つ選びなさい。
 a おいすがつてくるようす b むせかえりくるしむようす
 c いそぎいだつてくるようす d おどしてせまるようす
- ⑫ 傍線部12の読みとして最も適切なものをa~dから一つ選びなさい。
 a かかわ b わずら c あずか d たずさわ
- ⑬ 傍線部13の漢字として最も適切なものをa~dから一つ選びなさい。
 a 記述 b 記術 c 既述 d 既術
- ⑭ 傍線部14の意味として最も適切なものをa~dから一つ選びなさい。
 a 守つて b 占拠して c 調査して d 判断して
- ⑮ 傍線部15が指すものとして適切でないものをa~dから一つ選びなさい。
 a 文字のひと続きのようにみえても、じつは広場みたいなところだな、と感じさせるもの。
 b 書き手が通り過ぎてきた(山)や谷や、宿泊した(土地)や、出遭った人や、思ひ煩った痕跡。
 c 書き手がいく度も反復して立ちどまり、また歩きだし、そして思ひ煩った場所。
 d 書き手ひとりごとがやと腰を下ろせるくらい小さな場所。
- ⑯ 空欄 17 に入る最も適切なものをa~dから一つ選びなさい。
 a 棒 b 箸 c 袖 d 旗

(一) 次の各文の()に入る最も適切なものをa~dから一つ選びなさい。

- ⑰ 彼らの反対意見はすでに()だから、このまま議論を続けるのが最善の方法です。
 a 織り込み済み b 折り込み済み c 居り込み済み d 降り込み済み
- ⑱ しかし議論の最中に()でも出されたりしたらどうするつもりだ。
 a 近急進義 b 緊急動議 c 緊急同議 d 近急同義
- ⑲ そうなったら議長() ()しないでしょう。
 a 宰領に阿る b 最良に委ねる c 裁量に委ねる d 載料に阿る
- ⑳ そのやり方で最後は() ()なんてこたにならないように頼むよ。
 a 心体定まった b 心体結まった c 進退決まった d 進退静まった
- ㉑ そうなつてしまつたら() ()でお手上げですね。
 a 難事休す b 万事静す c 万事休す d 難事静す
- ㉒ おいおい、そんな() ()なことを言つてもらつては困るじゃないか。
 a 無げ遣り b 投げ遣り c 無げ失理 d 投げ捨

(二) 次の文を読んであとの空欄に答えなさい。

いぜんには、なにに向かつて読むということもなしに、手あたり次第に読み、途中で立ちどまって書物から引き出される¹りともない空想や感想にふける、という読み方をすることがあった。貸本屋がどこにもあった頃で、時代小説や推理小説を借りては読み、借りては読み、とうとう近所の貸本屋の大衆小説の棚には目新らしい本はなくなつてしまつたこともあった。

その体験には本を読むということの、ほんとうに大切な部分があつたような気がする。本を読むということは、ひとがいうほど生活のたしになることもなければ、社会を判断することのたしになるものでもない。また、有益なわけでも有害なわけでもない。生活の世界があり、書物の世界があり、いずれも体験であるにはちがいが、どこまでも二重になつた体験で、どこかで地続きになつてゐるようなところなどないから、本を読んで実生活の役に立つことなどはない。

また、世界を判断するのに役だつこともない。書物に「サイ」された判断をそのまま受け入れると、この世界はさかさまになる。重たいのは書物の判断で、軽いのは現実の体験からくる判断だ。このように、これがすべて優れた書物であればあるほど多量にもつてゐる毒である。そこで、書物の判断は、いつもパズルを解くような反訳をすることで、現実には受け入れられないようにできている。

書物がそういうものであるとすれば、読むことの中には、いつも、なにに向かつて読むのか、ということをして無にしてしまふものがあつて然るべきだ、といつたほうがいい。

あなたは何に向かつて読むのか？
 こういふ本質的な問いにたいして、いまのわたしは、たぶん答える資格を欠いている。学生が試験に向かつて読み、学者が研究に向かつて読み、司法家が法律に向かつて読み、実務家がリジューンに向かつて読み、といつたことと、あまり変りのない読み方しかしてゐないからである。そして、こういう読み方は、読書の中心にある大切なものを欠いた読み方にしかならない。

図書館にゆくと、すべての書物は、誰かによつて手をつけられていることがわかる。けれど、たぶんほんとうに読まれたのではなく、なにかの役にたつたようとして読まれる方がほとんどなのだ。余裕もなく、はや結論がつけられないかどうかとアザリながら、そして、書き手もまた、読み手のせき込みに応じようとして、なにが尻をたたかながら書物をつくりあげたという書物が、ほとんどであるかもしれない。

ある書物がよい書物であるか、そうでないかを判断するために、普通わたしたちがやつてゐることは誰でも類似している。じぶんが比較的得意な項目、じぶんが体験などを総合してよく考えたこと、あるいは切実に思ひ煩つてゐること、などについて、その書物がどう書いてゐるかを、拾つて読んでみればよい。よい書物であれば、きつとそういうことについて、よい日本語としてゐるから、だいたいの個性で、書物の全体を占つてもそれほど見当が外れることはない。

だが、じぶんの知識にも、体験にも、まったくかわりない書物にゆきあたつたときは、どう判断すればよいのだろうか。それは、たぶん、書物にみかまされてゐる世界によつてきめられる。優れた書物には、どんな分野のものであつても小さな世界がある。その世界は書き手のもつてゐる世界の縮尺¹⁶のようなのである。この縮尺には書き手が通り過ぎてきた(山)や(谷)や、宿泊した(土地)や、出遭った人や、思ひ煩った痕跡などが、すべて豆粒のように小さくなつて縮められている。どんな拡大鏡にかけても、(山)や(谷)や(土地)や(人)は、眼には見えなかつたか、どうやって知ることができるところだろうか。そう、じつはそれは見えな。見えな世界が含まれてゐるかどうかを、どうやって知ることができるところだろうか。もし、ひとつの書物を読んで、読み手を引きずり、また休ませ、立ちどまつて空想させ、また考えさせ、よするにここは文字のひと続きのようにみえても、じつは広場みたいなところだな、と感じさせるものがあつたら、それは小さな世界だと考えてよいのではないか。

- ① 傍線部1の意味として最も適切なものをa~dから一つ選びなさい。
 a 考え直してはじめてからやり直す機会をもたない。
 b ものごとに目標や一定のまとまりをもたない。
 c ものごとの着地点を見いだせず、いつまでも迷ひ続けている。
 d 状況に変化が起こつても中止の判断ができない。
- ② 傍線部2の意味として最も適切なものをa~dから一つ選びなさい。
 a 借りてきたものを読んでそれを他人にまた貸しする。
 b 借りて読み続けて返さずじまつた借りる。
 c つぎつぎと借りるばかりで返さずじまつた借りる。
 d つぎつぎと借りて読むことを繰り返す。
- ③ 傍線部3の意味として最も適切なものをa~dから一つ選びなさい。
 a 実利的な目的をもつて本を読むこと。
 b たたひたすらに本を読んで読書量を増やすこと。
 c 本の中の世界を夢中で楽しみながら、ときに自分の中にも世界を開くこと。
 d 本の世界に没頭しながらも、つねに現実の世界との比較を忘れないこと。
- ④ 傍線部4の意味として最も適切なものをa~dから一つ選びなさい。
 a 助けになる b 希望になる c 滋養になる d 経験になる
- ⑤ 傍線部5の漢字として最も適切なものをa~dから一つ選びなさい。
 a 既済 b 記載 c 起債 d 既載
- ⑥ 傍線部6の意味として最も適切なものをa~dから一つ選びなさい。
 a いちど訳した言葉を反対の意味に置き換えること。
 b いちど訳したものをもとの言葉に戻すこと。
 c ひとつひとつの言葉を反対言葉に変えること。
 d いちど訳したものをまた別の言語に訳し変えること。

以外の人の影も、隣人もいなかった。また、どういふ道もついていなかった。行きつ戻りつしたために、そこだけが踏み固められて広場ようになってしまつた。
 じつさいは広場というよりなまぬきなものでなく、ただの踏み溜りでしかないほどの小さな場所だ、そこからさきに進がついていくわけでもない。たぶん、書き手ひとりごとが腰を下ろせるくらい小さな場所にしかならない。けれどそれは世界なのだ。そういう場所に行き当たつた読み手は、ひとつひとつの言葉、何行かの文章にわからないところがあつても、書き手をつかまえたことになるのだ。

(吉本隆明「読書の方法」による)

●公募制入学試験/基礎学力テスト(英語)対策

I. 次の各英文の () に入れるのに最も適当なものを一つ選びなさい。

- (1) A: Who is going to the town meeting tomorrow to hear more about this project?
B: Both my mother and I ().
(a) am (b) are (c) is
- (2) () Junichi was sick, he played soccer in the rain yesterday. Now he feels worse.
(a) Even though (b) Because (c) If
- (3) Cindy wasn't aware that the traffic light had turned green, and the car behind her blew () horn.
(a) it (b) it's (c) its
- (4) Aki's husband had a business trip to Hawaii last week, but he forgot () presents for the children. That's why they were very upset.
(a) to buy (b) buying (c) buy
- (5) Mary wanted () table than this one, so she went to a furniture store yesterday.
(a) a newer (b) as new as (c) the newest
- (6) After the tennis match, I was () thirsty to play another one. Then you gave me some lemonade.
(a) as (b) too (c) so

- (7) I always enjoy () to music, but my sister likes to just sit and read books at home.
(a) to listen (b) listened (c) listening
- (8) The student found that there were some mistakes in one of () and asked his teacher to correct them.
(a) the textbook (b) the textbooks (c) a textbook
- (9) The doctor developed a new medicine to stop the disease () killed many people.
(a) who (b) whose (c) which
- (10) The lake we can see from here is famous for its natural (). Many people from other countries come here to enjoy the sight.
(a) beautiful (b) beauty (c) beautifully

- 1 -

- 2 -

II. 次の会話文中の () に入れるのに最も適当なものを一つ選びなさい。

- (1) A: Wow, that was a great concert. Now I became a fan of the singer. Thank you for inviting me.
B: (). I knew you would like it.
(a) Don't mention it (b) Me neither
(c) Of course not
- (2) A: What's wrong with you? Are you OK?
B: Well, I painted the wall this morning, and now my back hurts. Do you know what works for this?
A: (). Someone told me that you should take a warm bath.
(a) Of course not (b) Maybe I do
(c) I don't have the slightest idea
- (3) A: Does the travel expense include the taxi fare?
B: (). We are supposed to take a bus.
A: OK. Let's take a bus.
(a) Yes, there is (b) No, it doesn't
(c) It's free of charge
- (4) A: Who did the dishes last night? I thought it was my turn.
B: (), so it's my turn tonight. Your turn is tomorrow.
(a) I believe Jun did (b) Jun bought the dishes
(c) I hear Jun always does it

- (5) A: How was the interview you had last week?
B: (). I'm sure I got that part-time job at the restaurant.
(a) I have no idea (b) It went well
(c) I didn't go there

- 3 -

- 4 -

【三】 次の各文の傍線の漢字として最も適当なものを a から d まで一つずつ選びなさい。

- ㉒ トップのシヨウドウ的な言動に、いつも周囲が振り回される。
a 衝動 b 正道 c 衝動 d 正道
- ㉓ 常に冷静な判断を下せる人のはずが、なぜか今回は違っている。
a 沈痛 b 沈着 c 鎮着 d 鎮痛
- ㉔ 強大な権力を持つ指導者に敗れてイギを喝える者は誰もいない。
a 威義 b 異疑 c 異議 d 違議
- ㉕ ここはひとつシンキイテンして方針を変えろべきだ。
a 心気一点 b 新規一店 c 心機一転 d 新氣一天
- ㉖ キュウタイイゼンとした組織の改革から始めなければならぬ。
a 旧体以前 b 旧態依然 c 休退以前 d 休態依然
- ㉗ この原因は典型的なセイドヒロウとしか言いようがない。
a 制度疲労 b 精度披露 c 制度避老 d 精度非漏
- ㉘ 現状打開を図る前にまずこの問題の対策をコウする必要がある。
a 構 b 抗 c 行 d 講

- 10 -

- 9 -

III. 次の各英文の()に入れるのに最も適当なものを一つ選びなさい。

- (1) I'm sorry, but we only accept payment () cash. There is an ATM downstairs.
 - (a) in
 - (b) for
 - (c) to
- (2) When I met Julie () the first time, my first impression of her was not very good.
 - (a) for
 - (b) to
 - (c) on
- (3) I wonder what time the play starts tonight. Let me check online to find it ().
 - (a) out
 - (b) with
 - (c) without
- (4) Diana read the manual for her smart phone for an hour, but she could not make sense () it. She called the customer service in the end.
 - (a) to
 - (b) of
 - (c) through
- (5) Mr. White is a kindergarten teacher, and he is responsible () a class of 20 children.
 - (a) on
 - (b) to
 - (c) for

V. 次の各英文の訳として最も適当なものを一つ選びなさい。

- (1) What makes you say so?
 - (a) 何を作ろうとしているのですか。
 - (b) どうしてそんなことを言うのですか。
 - (c) 何か言い忘れましたか。
- (2) The weather prevented us from going camping.
 - (a) 天候のせいで私たちはキャンプに行けなかった。
 - (b) 天候のおかげで私たちはキャンプを楽しんだ。
 - (c) 天候次第でキャンプ場を変える必要があった。
- (3) Not a single student in my class likes the cartoon.
 - (a) 私のクラスでは誰もその漫画を好きではない。
 - (b) 私のクラスでは一人を除いて全員がその漫画を気に入っている。
 - (c) 意外なことに、その漫画を好きなのはクラスで一人だけである。
- (4) The more people come, the more fun the party will be.
 - (a) 来る人が多ければ多いほどパーティーは楽しくなるだろう。
 - (b) あまり人が多すぎるとパーティーは楽しくはないだろう。
 - (c) 人の数を気にするよりも、パーティーを楽しんだほうがいだろう。
- (5) Hiromi would be the last person to miss the chance to win the game.
 - (a) Hiromi は最後の最後にそのゲームに勝つチャンスを見逃すだろう。
 - (b) Hiromi はそのゲームに勝つチャンスを決して逃さないだろう。
 - (c) Hiromi だけが、最後までそのゲームに勝つ方法を知らないだろう。

IV. 次の各英文の空欄を補うようにA~Dの語句を並べ替えた場合、最も適当な順番となるものを(a)~(c)から一つ選びなさい。ただし、文頭に来るべき語も小文字で始めています。

- (1) ビルは、彼の兄が電話してきたとき昼食を食べようとしていた。
 Bill _____ at home when his brother called.
 A. to eat B. was C. lunch D. about
 (a) A-C-B-D (b) D-C-B-A (c) B-D-A-C
- (2) 日光があまりにまぶしかったので、私は目を傷めた。
 The sunshine _____ it hurt my eyes.
 A. so B. that C. was D. bright
 (a) A-D-B-C (b) C-A-D-B (c) D-A-B-C
- (3) シャーリーはなんて美しい絵を描いたのでしょう。
 What a _____!
 A. Shirley B. picture C. drew D. beautiful
 (a) B-A-C-D (b) D-B-A-C (c) C-B-D-A
- (4) 待っている間に温かいものを作りました。
 I cooked _____ while we waited.
 A. hot B. eat C. to D. something
 (a) D-C-B-A (b) C-B-A-D (c) D-A-C-B
- (5) その問題はどのようにやって解いたのですか。
 Tell me _____.
 A. how B. the problem C. solved D. you
 (a) A-D-C-B (b) B-A-C-D (c) D-C-A-B

VI. 次の英文を読み、後に続く各設問に対する最も適当な答えを一つずつ選びなさい。

Kojima is an area of Kurashiki, Okayama Prefecture, 20 minutes southwest of Okayama Station by express train. Dozens of pairs of jeans hanging outside of Kojima Station turn heads. A short walk away is Jeans Street, where over 40 stores sell blue jeans and legions of fans of the attire congregate. This is a veritable jeans mecca, the home of their origin in Japan, and a major production center.

Among the large concentration of jeans makers in Kojima, Japan Blue has earned international renown. (②), many people seem to know about Japan Blue's uniquely named *Momotaro Jeans* brand, too.

The founder, Manabe Hisao, worked at Kurashiki City Hall before taking a job with a textiles trading house. With the knowledge he gained there, at age 37, he founded a denim fabric distributor in 1992. Possessing a dream of bringing Japanese denim to the world that he still holds today, Manabe leverages the strengths of the local denim production industry in Kojima. His dream appears to be nearing fruition.

(神田範明, *Creative Ideas for Products & Services*)

(注) legions of fans of the attire: 多数の衣装愛好家たち
 congregate: 集まる
 veritable jeans mecca: 紛れもないジーンズのメッカ (聖地)
 renown: 名声
 textile: 織物の
 denim fabric: デニム生地
 leverage: 活用する
 fruition: 実を結ぶこと

- (1) 第一段落の内容と一致するものを選びなさい。
 - (a) Jeans Street には40を超えるジーンズストアがある。
 - (b) Jeans Street は Okayama Station から徒歩で20分の場所にある。
 - (c) Kojima Station の構内には何ダースものジーンズがかけられている。
- (2) 下線部①の This は何を指すか。最も適当なものを選びなさい。
 - (a) Jeans Street
 - (b) Kojima Station
 - (c) Japan
- (3) (②) に入る語として最も適当なものを選びなさい。
 - (a) Nevertheless
 - (b) In fact
 - (c) However
- (4) Manabe Hisao について本文中で述べられているものはどれか。最も適当なものを選びなさい。
 - (a) 晩年に市役所で働くこととなった。
 - (b) 37歳のときに denim fabric distributor を設立した。
 - (c) 1992年に日本のデニムを世界に広げる夢を達成した。
- (5) 下線部③は何について述べているのか、最も適当なものを選びなさい。
 - (a) 彼の夢
 - (b) 日本のデニム
 - (c) 世界

equate: 等しくする
 signify: 表明する
 prominent: 有名な

- (6) 第一段落の内容と一致するものを選びなさい。
 - (a) Brin は1995年に Google Inc. を設立した。
 - (b) Brin と Page は出会ったのはスタンフォード大学で同じ講座に出席していたからである。
 - (c) Page は Brin にスタンフォード大学構内の案内をしてもらった。
- (7) 第二段落の内容と一致するものを選びなさい。
 - (a) Brin と Page が住んでいた寮は "Backrub" という名前だった。
 - (b) Brin と Page は最初の Search Technology を "Backrub" という名で呼んでいた。
 - (c) Brin と Page のインターネット上でのニックネームは "Backrub" であった。
- (8) (①) に入る語として最も適当なものを選びなさい。
 - (a) because
 - (b) although
 - (c) if
- (9) 下線部②の they は何を指すか。最も適当なものを選びなさい。
 - (a) the search results
 - (b) those websites
 - (c) Brin and Page

The origin story of Google dates all the way back to 1995, when Larry Page and Sergey Brin first met at Stanford University in California. Page was thinking about graduate school at Stanford and Brin was already a student who was, by chance, given the job of showing Page the university.

Their partnership began out of their intrigue over the vast amounts of data on the Internet, and how they could organize it all by importance. Thus, from their dormitory rooms at Stanford, they began working on their first type of search technology, which they initially called Backrub.

Through their continued work, Brin and Page incorporated the total number of links associated with websites into their search engine. This helped people (①) websites with more related links would be more valuable, and those websites would go to the top of the search results. As their work progressed, they also renamed their search engine, too, and the new name Google was established. The name derives from the mathematical number expression, *googol*, which equates to the number 1 followed by 100 zeros. Brin and Page wanted the new name to signify their goal of trying to organize all data in the world so it would be accessible and understandable for everyone.

Over the next few years, Google became more prominent, not only for students, but also in Silicon Valley, the tech capital of the world. In 1998, with an initial investment of \$100,000 from Sun Microsystems's co-founder Andy Bechtolsheim, Google Inc. officially started.

(Smithers, R. & Gamble, C., *Modern America*)

(注) graduate school: 大学院
 intrigue: 企み
 dormitory: 寮
 initially: 最初は
 incorporate: 合体させる
 derive: 由来する

00 本文の主題として最も適当なものを選びなさい。

- (a) Google の始まり
- (b) Google の可能性
- (c) Google の課題

●公募制入学試験/基礎学力テスト(日本史)対策

●公募制入学試験/基礎学力テスト(数学)対策

I 次の文章を読んで、空欄 ① ～ ⑩ にあてはまる最適な語句を、下の語群から選び、解答欄の記号をマークしなさい。

618年、中国を統一した唐はアジアに大帝国を築いた。唐の都の ① は世界的な都市として国際的な文化が開花した。東アジア諸国も唐と通交するようになり、日本からの遣唐使は630年の ② に始まり、894年の ③ の建議で停止されるまで十数回にわたり渡海した。8世紀には、ほぼ20年に一度の割合で派遣された。しかし、造船や航海の技術は未熟であったため、政治的緊張から ④ の沿岸を避けて東シナ海を横切る航路をとるようになると、海上での遭難も多かった。

遣唐使たちは唐から先進的な政治制度や国際的な文化をもたらし、日本に大きな影響を与えた。とくに ⑤ や玄奘のちに ⑥ 天皇に重用されて政界でも活躍した。遣唐留学生であった ⑦ のように唐の ⑧ 皇帝に重用されて唐朝廷で高官にのぼるものもいた。また、唐僧の ⑨ はいくども渡航に失敗しながら、日本に戒律を伝えた。

また、朝鮮半島を統一した ④ と多くの使節が往来したが、日本は国力を充実させた ④ を従属国として扱おうとしたため、ときには緊張が生じた。7世紀末中国東北部に興った ⑩ と日本とのあいだでは、親密な使節の往来がおこなわれた。

- 【語群】
- (a) 和気清麻呂 (b) 洛陽 (c) 菅原道真 (d) 高宗
 - (e) 楽浪郡 (f) 玄宗 (g) 天智 (h) 聖武
 - (i) 渤海 (j) 鑑真 (k) 百濟 (l) 空也
 - (m) 藤原道長 (n) 阿倍仲麻呂 (o) 神田阿礼 (p) 長安
 - (q) 新羅 (r) 阿倍比羅夫 (s) 犬上御田嶽 (t) 吉備真備

II 次の文章を読んで、空欄 ① ～ ⑩ にあてはまる最適な語句を、下の語群から選び、解答欄の記号をマークしなさい。

1156年、鳥羽法皇が死去するとまもなく、かねてから皇位継承をめぐる鳥羽法皇と対立していた崇徳上皇は、 ① 家の継承をめざして関白の藤原忠通と争っていた左大臣の藤原頼長と結んで、源為義・平忠正らの武士を集めた。

これに対して、鳥羽法皇の立場を引き継いでいた ② 天皇は、藤原忠通や近臣の藤原通憲の進言により、平清盛や源為義の子の源義朝らの武士を動員し、上皇方を攻撃して破った。その結果、崇徳上皇は ③ に流され、源為義らは処刑された。これらを ④ と呼んでいる。

つづいて、 ⑤ を始めた後白河上皇の近臣間の対立から、 ⑥ 年には、平清盛と結ぶ藤原通憲に反感をいだいた近臣の一人である藤原信頼が、源義朝と結んで兵をあげ、藤原通憲を自殺に追い込んだ。だが、武力にまさる平清盛によって藤原信頼や源義朝は滅ぼされ、源義朝の子の源頼朝は ⑦ に流された。これを ⑧ と呼んでいる。この乱の後、平清盛は昇進をとげ、 ⑨ を造営するなどの奉仕をした結果、1167年には ⑩ となった。

- 【語群】
- (a) 1159 (b) 越後 (c) 平将門の乱 (d) 平等院鳳凰堂
 - (e) 白河 (f) 1165 (g) 太政大臣 (h) 蓮華王院
 - (i) 伊豆 (j) 莊園 (k) 守護代 (l) 平治の乱
 - (m) 醍醐 (n) 摂関 (o) 後白河 (p) 土佐
 - (q) 院政 (r) 讃岐 (s) 承久の乱 (t) 保元の乱

III 次の文章を読んで、空欄 ① ～ ⑩ にあてはまる最適な語句を、下の語群から選び、解答欄の記号をマークしなさい。

南蛮貿易は、キリスト教宣教師の布教活動と一体化しておこなわれていた。 ① 年、 ② 会の宣教師 ③ が鹿児島に渡来し、山口の大内義隆や豊後府内の大友義鎮(宗麟)らの大名の保護を受け、中国・四国各地で布教を開始した。

その後、ルイス・フロイスなど宣教師があいついで来日し、 ④ (教会堂) や ⑤ (宣教師の養成学校)・ ⑥ (神学校) などをつくって布教につとめた。

⑦ 船はマカオを根拠地とし、布教を認めた大名領に入港したため、戦国大名は貿易をのぞんで宣教師の布教活動を保護し、中には洗礼を受ける者もあった。彼らを ⑧ 大名と呼ぶが、そのうち、大友義鎮・有馬晴信・大村純忠の3大名は、 ② 会宣教師 ⑨ の勧めにより、1582年、伊東マンショら4名の ⑩ 遣欧使節をローマ教皇のもとに派遣した。

- 【語群】
- (a) ポルトガル (b) キリシタン (c) フェロノサ
 - (d) 南蛮寺 (e) アメリカ (f) イエズ
 - (g) 1549 (h) 外様 (i) 天正
 - (j) ラクスマン (k) 審書調所 (l) セミナリオ
 - (m) 聖護院 (n) 白馬 (o) 寛永
 - (p) 洋書調所 (q) コレジオ (r) ヴァリニャーニ
 - (s) フランシスコ・ザビエル (t) 1587

IV 次の文章を読んで、空欄 ① ～ ⑩ にあてはまる最適な語句を、下の語群から選び、解答欄の記号をマークしなさい。

日本の産業革命の中心は、綿糸を生産する紡績業であった。1883年には ① が中心となり設立した大阪紡績会社が開業し、輸入の紡績機械、蒸気機関を用いて大規模経営に成功した。これに触発され商人が機械制生産による会社を設立し、在来の手紡や臥雲辰辰が發明した ② による綿糸生産を圧迫しながら機械紡績が急増した。主に手織機によって開業制家内工業生産がおこなわれていた農村の綿織物業では、 ③ が考案した小型の国力織機を導入して小工場に転換する動きが進んだ。

また、製糸業は生糸の輸出で外貨を獲得できる重要な産業であった。生糸は最大の輸出品であり、製糸業は欧米向けの輸出産業として発達した。当初は ④ が普及したが、 ⑤ の小工場が長野県諏訪地方などの農村地帯に誕生し、生糸の原料の ⑥ を供給する養蚕農家も増加した。 ⑤ は富岡製糸場で導入されたのを機に発展し、1894年には ⑤ による生産量が従来の ④ の生産量を上まわって、輸出量も増大した。

鉄道では1881年に日本鉄道会社が設立され、商人や地主らによる鉄道会社も設立された。1889年に ⑦ の新橋・神戸間が全通し、1891年には日本鉄道会社が ⑧ ・青森間を全通させた。しかし、第一次 ⑨ 内閣は ⑩ 年に鉄道国有法を公布し、主要幹線の民営鉄道会社を買収して国有化した。

- 【語群】
- (a) 麻 (b) ガラ紡 (c) 原敬 (d) 座繰製糸
 - (e) 器械製糸 (f) 1906 (g) 1914 (h) 東海道線
 - (i) 横浜 (j) 上野 (k) 渋沢栄一 (l) 旋盤
 - (m) 反射炉 (n) 木村栄 (o) 舘 (p) 西園寺公望
 - (q) 志賀潔 (r) 山陽鉄道 (s) 八幡製鉄所 (t) 豊田佐吉

問題文中の空欄 ア ～ ト には、0～9のいずれかの数字が入る。空欄にあてはまる数字を解答用紙の解答欄ア～トにマークしなさい。ただし、設問に選択肢が設けられている場合は、空欄にあてはまる選択肢の番号をマークしなさい。なお、解答用紙のマーク欄 ㊶, ㊷, ㊸ は使用しないので注意すること。

- (1) $(x^2+5x+2)(x^2-3x+5)=x^4+2x^3-アx^2+19x+10$ である。
- (2) $3x^2+7xy+2y^2+4x+3y+1=(x+イy+1)(3x+y+1)$ である。
- (3) $\frac{20}{\sqrt{7}-\sqrt{3}}-3(\sqrt{7}-\sqrt{3})=2\sqrt{7}+ウ\sqrt{3}$ である。
- (4) $a=1+\sqrt{3}$, $b=\sqrt{3}-\sqrt{2}$ のとき、 $a^2+2ab-a-2b=エ-2\sqrt{6}+\sqrt{3}$ である。
- (5) 次の2つの不等式 $2(x-2) \geq x-2$, $3(x+4) \geq 4x+5$ を同時に満たす整数 x は、オ個ある。
- (6) 2次関数 $y=5x^2-10x+8$ のグラフの頂点の y 座標は、カである。
- (7) 2次関数 $y=x^2-2x+5$ の $0 \leq x \leq 3$ の範囲における y の最小値は、キである。

(16) 10人の生徒を5人、3人、2人の3組に分ける分け方は全部で、タ通りある。

- (16)の選択肢
- ㉑ 1500 ㉒ 1520 ㉓ 1540 ㉔ 1560 ㉕ 1580
 - ㉖ 2500 ㉗ 2520 ㉘ 2540 ㉙ 2560 ㉚ 2580

(17) A, B, C, D, Eの5人を2つのグループに分ける。このとき、AとBが異なるグループになる分け方は全部で、チ通りある。

- (17)の選択肢
- ㉛ 2 ㉜ 4 ㉝ 6 ㉞ 8 ㉟ 10
 - ㊱ 12 ㊲ 14 ㊳ 16 ㊴ 18 ㊵ 20

(18) A, B, C, D, E, Fの6人のうち4人を選んで1列に並べるとき、A, B, Cの3人が隣り合う並べ方は全部で、ツ通りある。

- (18)の選択肢
- ㊶ 18 ㊷ 36 ㊸ 72 ㊹ 80 ㊺ 100
 - ㊻ 118 ㊼ 136 ㊽ 172 ㊾ 180 ㊿ 200

(8) 2次関数 $y=3x^2-5x+2$ のグラフを x 軸方向に-1、 y 軸方向に5だけ平行移動させると、2次関数 $y=3x^2+x+ク$ のグラフになる。

(9) 2次関数 $y=x^2+ax+b$ (ただし、 a, b は実数定数) のグラフが2点(1, 4), (-3, 8)を通るとき、 $8a-b=ケ$ である。

(10) 2次関数 $y=x^2-4x+k^2-2k+5$ (ただし、 k は実数定数) の $0 \leq x \leq 3$ の範囲における y の最大値が4であるとき、 $k^2-k=コ$ である。

(11) $2\sin 145^\circ \cos 55^\circ + 3\sin 55^\circ \cos 35^\circ - \sin 35^\circ \cos 125^\circ = サ$ である。

(12) $0^\circ < \theta < 90^\circ$, $\tan \theta = \frac{\sqrt{5}}{2}$ のとき、 $9\sin^2 \theta + 3\cos \theta = シ$ である。

(13) $0^\circ < \theta < 90^\circ$, $16\cos^2 \theta - 8\cos \theta - 3 = 0$ のとき、 $9\tan^2 \theta - 4\cos \theta = ス$ である。

(14) $\triangle ABC$ において、 $AB=3+\sqrt{3}$, $BC=\sqrt{6}$, $\angle ABC=45^\circ$ のとき、 $AC^2-BC^2=セ$ である。

(15) $\triangle ABC$ において、 $AB=4\sqrt{3}$, $AC=3\sqrt{6}$, $\angle ABC=45^\circ$ のとき、 $\tan \angle ABC + 3\sin \angle ACB = ソ$ である。

(19) 袋に赤球が3個、白球が2個、青球が3個、黒球が2個入っている。この袋から、無作為に2個の球を同時に取り出すとき、取り出した球が異なる色である確率は、テである。

- (19)の選択肢
- ㊿ $\frac{1}{45}$ ㊱ $\frac{1}{15}$ ㊲ $\frac{8}{45}$ ㊳ $\frac{17}{45}$ ㊴ $\frac{7}{15}$
 - ㊵ $\frac{28}{45}$ ㊶ $\frac{11}{15}$ ㊷ $\frac{37}{45}$ ㊸ $\frac{41}{45}$ ㊹ $\frac{14}{15}$

(20) 5枚の硬貨を同時に投げるとき、少なくとも2枚が表になる確率は、トである。

- (20)の選択肢
- ㊺ $\frac{1}{32}$ ㊻ $\frac{3}{32}$ ㊼ $\frac{3}{16}$ ㊽ $\frac{11}{32}$ ㊾ $\frac{13}{32}$
 - ㊿ $\frac{1}{2}$ ㊱ $\frac{21}{32}$ ㊲ $\frac{23}{32}$ ㊳ $\frac{13}{16}$ ㊴ $\frac{15}{16}$

注意：解答は〔解答群〕の中からアルファベットで選びなさい。なお、解答を選ぶ場合、同じアルファベットを繰り返し使用してよい。

〔I〕 次の取引の仕訳を完成しなさい。なお、解答は〔解答群〕の中から選びなさい。また、解答以外のかっこは各自で推測しなさい。なお、商品売買は3分法により行っている。

(1) 鶴橋商店は八尾商店から商品¥300,000を仕入れ、代金のうち¥200,000は、売掛金のある得意先布施商店の引き受けを得て、為替手形¥200,000を振り出して八尾商店に渡した。また、残額は、以前受け取った、八尾商店振り出し鶴橋商店宛の約束手形¥100,000を渡した。なお、商品の引取運賃¥2,500は現金で支払った。

() 302,500 (①) 200,000
() (②) 100,000
() () 2,500

(2) 関西株式会社(決算年1回 3月末日)は、額面金額¥20,000,000の社債を抽選によって償還することを決定した。

(③) 20,000,000 (④) 20,000,000

(3) 学園前株式会社は、株主総会において、繰越利益剰余金を以下の通り処分することを決議した。

利益準備金¥50,000 配当金¥500,000 別途積立金¥200,000
(⑤) 750,000 () 50,000
() (⑥) 500,000
() () 200,000

(4) 決算を迎え、小販産業株式会社の本店は布施支店より、当期純利益¥700,000を計上した旨の通知を受けた。本店側の仕訳を示しなさい。

(⑦) 700,000 (⑧) 700,000

- 1 -

〔II〕 次の文のかっこ内に最も適切な用語を入れなさい。なお、解答は〔解答群〕の中から選びなさい。

(1) 企業会計を適正に行うための基礎的前提を会計公準という。会計公準には、企業実体(会計単位)の公準、継続企業(会計期間)の公準および(①)の公準がある。

(2) 企業会計には企業外部の利害関係者に情報を提供する(②)と企業内部の利害関係者に情報を提供する(③)がある。

(3) 帳簿には様々な形式があるが、用紙を書物のように製本した帳簿を(④)帳簿という。

(4) 補助元帳には、売掛金元帳、買掛金元帳、商品有高帳、販売費及び一般管理費元帳や(⑤)がある。

(5) 企業が財務諸表の一つとして(⑥)を作成するのは、一定時点における(⑦)を把握するためである。

(6) それぞれの勘定の増加や減少、発生や消滅の金額を記録・計算するために設けられた帳簿上の場所を(⑧)という。また、(⑧)の形式には、(⑨)式と残高式がある。

(7) 決算日に行う、仕訳帳の締め切りや試算表の作成、欄別表の作成と欄別表にもとづく決算整理等を(⑩)という。

- 3 -

(5) 得意先鶴橋商店より受け取った同店振出の約束手形¥300,000を、取引銀行で割引引き、割引料を差し引かれた手取り金¥288,000を当座預金としていたが、約束手形の支払期日に不渡りになり、取引銀行より償還請求された。そのため、同額の小切手を銀行に振り出して支払うと同時に、鶴橋商店に対して償還請求を行った。なお、保証債務の時価は、手形額面金額の1%としていた。

(⑨) 300,000 () 300,000
() 3,000 (⑩) 3,000

〔解答群〕

(a) 受取手形	(b) 支払手形	(c) 当期純利益
(d) 為替手形	(e) 繰越利益剰余金	(f) 社債償還損
(g) 保証債務	(h) 不渡手形	(i) 利益準備金
(j) 本店	(k) 配当金	(l) 保証債務費用
(m) 社債	(n) 未払法人税等	(o) 現金
(p) 別途積立金	(q) 普通預金	(r) 当座預金
(s) 損益	(t) 未払社債	(u) 布施支店
(v) 社債償還益	(w) 未払配当金	(x) 保証債務取崩益
(y) 売掛金	(z) 買掛金	

- 2 -

〔解答群〕

(a) 現金出納帳	(b) 勘定口座	(c) 標準
(d) 損益計算書	(e) つづり込み式	(f) 貸借対照表
(g) 税務会計	(h) 貨幣的測定	(i) 固定資産台帳
(j) 仕入帳	(k) 報告	(l) 真实性
(m) 継続性	(n) 受取手形記入帳	(o) 勘定科目
(p) 電子	(q) 管理会計	(r) 経営成績
(s) 財務会計	(t) ルーズリーフ式	(u) 情報会計
(v) 決算本手続き	(w) 財政状態	(x) 決算予備手続き
(y) キャッシュ・フローの状況	(z) キャッシュ・フロー計算書	

- 4 -

I

(1) 次の文中の 1 ~ 5 にあてはまる最適な語句を、下の語群より一つずつ選びなさい。

天体の研究では、1 が、それまでの天動説にかわって、より数学的に均整のとれた 2 の仮説をたてた。これを支持した 3 は、宇宙は数学の言語で書かれているとして、自然を数学で読み解く近代科学の世界観を示した。そして、17世紀後半、ニュートンが 4 の法則を発見して、これにより天体の運動も地上の物体運動も同じ運動法則で統一的にあつかえるようになり、近代 5 の基礎が築かれた。

〔語群〕

- (A) レオナルド・ダ・ヴィンチ (B) カント
(C) 万有引力 (D) 予定説
(E) 哲学 (F) 銀河説
(G) 歴史学 (H) ニーチェ
(I) コペルニクス (J) ブラックホール
(K) ガリレイ (L) タレス
(M) 大陸移動 (N) 地動説
(O) 物理学

- 1 -

II

(1) 次の文中の 1 ~ 5 にあてはまる最適な語句を、下の語群より一つずつ選びなさい。

日本の雇用形態は、定年まで同じ会社に勤める 1 が一般的であった。そのもとで、年齢や経験年数に応じて昇進・昇格をする 2 賃金体系が多くの企業で採用されてきた。

1990年代に入ると、低成長と企業間競争の激化を反映して、雇用事情にもさまざまな変化が見られるようになった。第一に、企業がリストラを進めた結果、1 が崩壊し、就業形態が多様化した。派遣労働者、契約社員、パートタイム労働者などの 3 雇用が増加し、こんにち、その数は働く人全体の約4割におよんでいる。第二に、2 の賃金体系に代わって、4 主義や年俸制を採用する企業があらわれた。第三に、女性の社会進出が進み、女性労働者数が増加している。それに対応するため、1997年には 5 が改正され、1999年から施行された。

〔語群〕

- (A) 完全 (B) 割増
(C) 資本 (D) 最低賃金制度
(E) 正規 (F) 成果
(G) 終身雇用制 (H) 非正規
(I) 変形労働時間制 (J) 温情
(K) 男女共同参画社会基本法 (L) 年功序列型
(M) パートタイム労働法 (N) 男女雇用機会均等法
(O) フレックスタイム制

- 3 -

(2) 次の各設問に対して、最適なものを(A)~(D)より選びなさい。

- ① インフォームド・コンセントの説明として、正しいものは次のどれか。
(A) 延命措置をふくむ自分の将来の治療のあり方について、事前に文書で意思表示しておくこと。
(B) 症状を改善・治療するとともに肉体的な苦痛などをやわらげようとすること。
(C) 激しい痛みを苦しむ末期患者を苦痛から救い、安らかな死をむかえさせること。
(D) 医師が病状や治療などについて患者に十分な説明を行い、患者が理解・納得したうえで同意すること。

- ② 国連環境計画についての説明として、誤っているものは次のどれか。
(A) 本部はニューヨークにある。
(B) 略称はUNEP(ユネップ)である。
(C) 1972年の国連人間環境会議の決議にもとづいて設立された国連の常設機関である。
(D) 環境問題を総合的に調整する活動などを行っている。

- 2 -

(2) 次の各設問に対して、最適なものを(A)~(D)より選びなさい。

- ① 日本の中央銀行である日本銀行の役割として、誤っているものは次のどれか。
(A) 政府の銀行
(B) 発券銀行
(C) 国際決済銀行
(D) 銀行の銀行

- ② 財政の果たす機能として、誤っているものは次のどれか。
(A) 所得の再分配
(B) 景気の安定
(C) 信用創造
(D) 公共財の供給(資源の最適配分)

- 4 -

【1】 つぎの文章を読んで、あとの設問に答えなさい。

構築主義という考え方がある。何事も最初から本質的な性質を備えているわけではなく、さまざまな作用のなかでそう構築されてきた、と考える視点だ。よくあげられる例は、「ジェンダー」だろう。男性は生まれたときから「男らしさ」をもっているわけではない。社会の制度や習慣などによって「男らしさ」を身につけてきた。だから「男らしさ」は社会的に構築されてきた。そう考える。

この考え方は人類学だけでなく、社会学など人文社会科学では、もはや常識になっている。構築されているのは、「男性や日本人」といった社会集団の性質だけにとどまらない。

昔は「ストレス」という言葉はなかった。ところが、いま「ストレス」という語句を借らずに、「あのいやな感じ」と説明することはできない。「トレス」という言葉が一般化したことで、人の感覚すらも構築されてしまう。ある言葉や概念が、ほくらがずっとそこにあって信じて疑わない「現実」さえもつくりだす。「児童虐待」や「ストーカー」だって、昔はなかった概念が生まれたことで、はじめて社会問題として構築されてきた。

こうした構築主義の視点で、既存の秩序や体制を批判するとき、とても有効だった。ジェンダーだったら、性別を批判し、性差にもつた社会制度や結婚制度や就業慣行などに正当性がないと主張する有力な武器となった。構築主義が批判理論のひとつとされるのは、そのためだ。

カナダの哲学者であるイアン・ハッキングは、構築主義者の多くが社会の現状に批判的なので、「Xのあり方は必然性がなく、Yは悪い」「Zは悪い」を排除すればましになる、といった論理構成をとる、と指摘する。

いろんな現象の構築性を批判するのはいい。でも批判のあとには、どこか虚しさが残る。男らしさも、日本人らしさも、社会的に、歴史的に、構築されてきたのはわかった。あんな概念がつかれると、ほくららの感覚や物の見方もがごとと変わってしまいます。それもいい。で、じゃあどうしたらいいの？ そんな疑問が浮かぶ。

物語の構築性をふまえたうえで、なをどう変えていけばいいか。この本では、その問いから考えていこうと思う。構築主義には、視点を転換する力がある。でも、その核心は批判そのものにはない。もつと別のところに可能性があるのではない。

いまここにある現象やモノがなかに構築されている。だとしたら、ほくららはそれをもう一度、いまとは違う別の姿につくりかえることができる。そこに希望が芽生える。その希望が「構築人類学」の鍵となる。

いまの世の中にどこか息苦しさを感じたり、違和感を覚えたりしている人にとって、最初から身の回りのことがすべて本質的にこうだと決まっていたら、どうすることもできない。でもそれが構築されているのであれば、また構築しなおすことができる。

ではどうやって別のものに再構築できるのか？

これまでの「構築されているだからそんなものに正当性はない」という批判から、「どこをどうやったら構築しなおせるのか」という問いへの転換。それがこの本の目玉「構築人類学」の地平だ。まだ賛同者はいないけれど……。

もちろん簡単に答えは出ない。だから最初、ほくららひとりがいま生きている現実を構築する作業にどう関与しているのか、その関わり方を探ることからはじめよう。そこで手がかりになるのが、人と人がモノや行為をやりとりする「コミュニケーション」だ。

さて、そろそろ考えてきたことをまとめていこう。

よりよい社会／世界があるとしたら、どんな場所なのか。

努力や能力が報われる一方で、努力や能力が足りなくても穏やかな生活が送れる。一部の人が特権的な生活を独占することなく、一部の人が不当な境遇を強いられることもない。誰もが好きなこと、やりたいことができる。でも、みんなが少しずつ嫌なこと、負担になることも分けあっている。

(2) 次の各設問に対して、最適なものを(A)～(D)より選びなさい。

- ① ワイマール憲法(ドイツ共和国憲法)についての説明として、誤っているものは次のどれか。(A) 世界の憲法の歴史のなかで、初めて社会権を保障する規定を設けた。(B) 国民主義や普通選挙を規定した。(C) 第一次世界大戦後、世界恐慌の起きた1929年に成立した。(D) 財産権を制限し、人間たるに値する生活の保障(生存権)を定めた。(2) 国民の権利義務に関する憲法の規定として、誤っているものは次のどれか。(A) すべて国民は、法律の定めるところにより、その能力に応じて、ひとしく教育を受ける権利を有する。(第26条第1項)(B) すべて国民は、法律の定めるところにより、その保護する子女に普通教育を受けさせる義務を負ふ。(第26条第2項前段)(C) 義務教育は、これを有償とする。(第26条第2項後段)(D) すべて国民は、勤労の権利を有し、義務を負ふ。(第27条第1項)

III

(1) 次の文中の 1 ～ 5 にあはまる最適な語句を、下の語群より一つずつ選びなさい。

2013年に共通番号法が成立し、 1 票を有するすべての人に 2 桁の個人番号(マイナンバー)を付して情報を管理する、社会保障・税番号制度が2016年に導入された。そのメリットとして、政府は、①公平・公正な社会の実現、②国民の利便性の向上、③行政の 3 化の3点をあげている。

マイナンバーで管理する個人情報の対象は93項目にのぼる。現在、社会保障(年金や医療保険、 4 保護など)、税(確定申告など)、災害対策の行政手続きにマイナンバーが必要になる。

マイナンバー制度については、すでに番号制度が施行されている国でのプライバシー侵害等の事例もあり、①個人情報の外部への漏えい、②個人番号の不正利用等(「成りすまし」など)、③国家による個人情報の 5 管理、などの危険性が指摘されている。

[語群]

- (A) 国民 (B) 生活 (C) 6 (D) 人質 (E) 効率 (F) 在庫 (G) 施設 (H) 身柄 (I) 12 (J) 8 (K) 住民 (L) 肥大 (M) 硬直 (N) 一元 (O) 市民

IV

(1) 次の文中の 1 ～ 5 にあはまる最適な語句を、下の語群より一つずつ選びなさい。

第二次世界大戦が終結に近づいた1945年、世界の平和の維持と集団安全保障の体制の確立を目指して、51か国が 1 に調印し、 2 が発足した。 2 には、総会、 3、経済社会理事会、信託統治理事会、事務局、国際司法裁判所の六つの主要機関と数多くの補助機関が設置された。総会は全加盟国で構成され、 4 の原則のもとに多数決で表決される。 3 は、第二次世界大戦の主な戦勝国であるアメリカ、イギリス、ソ連、 5、中華民国の5か国が常任理事国となった。

[語群]

- (A) 国際人権規約 (B) 国際原子力機関 (C) 一国一票 (D) 日本 (E) 世界人権宣言 (F) フランス (G) 国際連合 (H) 拒否権 (I) 平和14か条 (J) 安全保障理事会 (K) 国際連盟 (L) 国際労働機関 (M) 国際連合憲章 (N) 全会一致 (O) ドイツ

(2) 次の各設問に対して、最適なものを(A)～(D)より選びなさい。

- ① NGO についての説明として、誤っているものは次のどれか。(A) 平和、人権、環境問題などについて、政府機関とは異なる民間の組織や団体として積極的に働いている。(B) NGO は国際会議に参加することはできない。(C) NGO は海外を中心に活動する団体、NPO は日本国内を中心に活動する団体をさすこともあるが、現在は大きな違いなく国内外で活動している。(D) 国連の経済社会理事会は、国連の取り組む様々な分野で、顕著な活動をしている NGO を、国連 NGO として認定している。(2) 環太平洋地域の協動的、自主的な行動や開かれた地域主義を目指して1989年に発足した経済協力の枠組みとして、正しいものは次のどれか。(A) ASEAN (B) NAFTA (C) TPP (D) APEC

問二 空欄 A B に入れる言葉の組み合わせとして最も適当なものを、つぎの①～④の中から一つ

- ① 敢然として — 悠然として
② 決然として — 呆然として
③ 泰然として — 嗔然として
④ 俄然として — 憤然として

問三 つぎの文章を入れるのに最も適当な箇所を、あとの①～④の中から一つ選びなさい。

理屈っぽい講義口調になってから、

- ① (ア) ② (イ) ③ (ウ) ④ (エ)

問四 傍線部アと言った美紗子の真意として最も適当なものを、つぎの①～④の中から一つ選びなさい。

- ① もし偽物であっても自分が気に入ったものなので、買って帰りたいという気持ちが強かった。
② 靖があまりにも無遠慮に尋ねるので、とにかく店員の注意を自分のほうに向けようと思った。
③ 自分では高価なものを買えないので、一刻でも早く宝石店から帰りたいと思っで無理をした。
④ たゞと誰に何と言われようと、そのトルコ石を気に入った自分の気持ちを大事にしたかった。

問五 傍線部イの美紗子の行動の理由として最も適当なものを、つぎの①～④の中から一つ選びなさい。

- ① 靖の言動が嘘であったことを知っていた長田もこれまで女に嘘をついてきたのだということを理解し、もう二度と会わないことを決意した。
② サハラに行くことを決意した長田には今後旅費が必要であることを理解し、せめて食事代くらいは自分が支払おうと思っで行動に移した。
③ 自分自身を十九歳から成長していきないうと長田に対して、経済的に成長したのだということをせめて行動によって示したいと考えた。
④ 長田とのつきあいのなかで自分の人生にはもっと成長が必要であることに気づかされ、自立に向けて身近な一歩を踏み出そうと決意した。

問六 問題文の内容として最も適当なものを、つぎの①～④の中から一つ選びなさい。

- ① 年齢も性格も異なる靖と長田という対照的な二人の男性との関わりを描き、両者に共通する男性の本質を垣間見るとまどう美紗子の心を照らし出している。
② トルコ石という小さな宝石に引き寄せられるように出会う男女の姿を描くことによつて、人生における出会いの偶然や運命の不思議さを描き出している。
③ 二つの時間を描くことで二十五年たつても変わらない美紗子の現在と新たに気づいた過去を対照させつ、人生を生きたことの複雑さを照らし出している。
④ まだ若くて世間を知らなかつた美紗子が男性との出会いや離婚などを経験することで人生の意味に気づき、成長して行く姿を抽象的に描き出している。

と訊いた。
助のいい、想像力のある男性だ、と美紗子はいっそう惹かれて、気をもたせるような言い方をしたくなったが、正直に話した。

サハラに行つて、それっきり……。
サハラ？ と長田も幾らか虚をつかれたような調子で訊き返したが、それ以上は踏み込まず、いいですね。サハラなんて、男の夢だな。
遠くを見る眼差しになった。あ、と美紗子は、小さく声をあげる。
どうしました？
長田が聞き下された。

いえ……。と言いついでから、美紗子は、靖の眼を思い出したことを打ち明けた。これだけ歳月が経っているのに、その眼つきで、ありありと。
はお、と長田は美紗子の顔を眺めてから、
しかし、ぼくは、そんな男じゃありませんよ。女性と別れるのに、サハラに行かなくて嘘をつくような。はつきりとした口調だった。
……そう、嘘だつたのかもしれない。靖は、別れる口実にあんなことを言い、美紗子があまりまじめに取るので、半分は引けなくなり、半分は自分の欲望を充たすために、結婚などと言いついで出したのかもしれない。

……だつて……お仕事辞めて、何をするの？
サハラに行く。

悪かざけはやめてよ。
美紗子はすこし気をわるくして、声をつよめた。すると、長田は頬に微笑を刻んで、
だめだな、君は。男が本気で望んでいることを見抜けないんだから、十九の年から成長してないんだ。
だつて、私を想ってくださいのならば……。
言いかけて、はつと口をついた。本気で美紗子のことを想っていたら、日本で就職するだろうに、という父の言葉は、十九歳の娘に向けられたものだった。四十も過ぎて、まだ養ってくれる男を探していたのか、と父なら言うかもしれない。現在の美紗子は、これから家庭をつくり、子どもを産もうとは思っていないのに。

君のことは好きですよ。半直に言つて、でも、放浪したい、という夢とは引き換えに出来ない。
美紗子がつくづく長田の顔を見つめる。本直に、この男は放浪したらしい。靖は、女から女へと放浪するタイプだったのかもしれないが、長田は地面の上を足で流離いたたいタイプなのだろうか。
でも、どうして、サハラ？ 他の土地だつて、いいんじゃない？
うん……。しかし、これも運命だな。急にサハラに行きたくなくなった。
変なねえ。
変だよ、と長田は応えと、
砂漠つて、やっぱり男が女から逃れるために行く場所なのかもしれない。
濃い眼差しで、長田は美紗子を見た。

夕方の空が、一瞬トルコ石の色になった。傾いた太陽が茜色になる前の、稀な瞬間である。いや、空の色はそれほど青くはないのに、雲が夕陽を受けて微かな赤みを帯び、ビルの際も黄ばんで見えるために、空の青がひときわ濃く映るのだろうか。
先にサハラに行つて、もしかしたら、私も後から行くかもしれない。
言いながら、美紗子は車上の鞆疋書きを取り上げた。

注 用心と同じく、注意するという意味。かつては「用領」を用心など、さまざまな表記を用いた。(木崎モ子「サハラへ」トルコ石(十二月)より)

設問

問一 二重傍線部 a e のカタカナを漢字に直すのに最も適当なものを、つぎの①～④の中から一つ選びなさい。

- a ① 巻 ② 負 ③ 任 ④ 捲
b ① 右頂天 ② 有頂天 ③ 右頂点 ④ 有頂点
c ① 賢答 ② 検討 ③ 健闘 ④ 見当
d ① 吟 ② 嚙 ③ 呻 ④ 告
e ① 叱 ② 宥 ③ 咎 ④ 崇

——ということ、その後は夢を見られなかったのか。
長田の口調は穏やかだったが、するどく追及してくる。
そうね、と美紗子はうなずき、
——だから、今また夢を見かけているようだけど、でも、もう……。
現在の自分に言い聞かせるために、きつい声を出してしまつた。長田は再び敏感に察して、
——他人の手の甲は傷つけても、自分は傷つきたくない、というわけですか。
——いえ、傷つくほどには夢を増長させないでいようと、要心しているの。
他人の家庭を壊す気はなかつた。しかし、長田が自ら望んで美紗子を選ぶというのなら話は別……となりそうなることを、抑えている。

——要心しても、つまらない。
長田が言った。
——はら。
男の勝手に、と美紗子が笑いそうになると、
——違つ、そういう意味じゃない。自分のことです。自分の要心を、つまらないのかもしれない、と疑い出した。
——どういう要心？
——人生に対する……。こともたはもう大学生だ。妻は働いている。小さいながら持ち家もある。ぼくが家を出ても、家族はそれぞれに生きていけるだろう。退職金は家族に渡す。
——退職金って、なぜ？ お仕事を辞めるの？
——びつくりして、美紗子は頷く。
——あなたのためじゃないよ。念のため、言うけど。あなたに会うずっと前から、自分の人生これだけかな、って疑い続け

I. 次の英文を読み、あとに続く各設問に対する答えを1つ選びなさい。

For a long time, we have been identified by things like our fingerprints, our teeth, and our DNA. But technology that uses the uniqueness of our faces, too, has now been developed. It's called Facial Recognition Technology, or FRT. What are the advantages of this recent development?

There are three main points. First, it helps the police to catch criminals. Using FRT in public places like railway stations and streets, the police can find people they are looking for. Secondly, it can be used in shops to let customers pay for their purchases. In some stores in China, for example, you can already "pay with a smile" using FRT and its link to your bank account. This is certainly a convenient way of paying. Thirdly, it can be used to help us access our phones and our computers. This technology adds a level of security that is not offered by having just a password or key.

But, as with all types of technology, there may be cause for concern. For one thing, FRT is a risk to our privacy. A Russian app called FindFace, for example, can identify faces in photos and link them automatically to social network profiles, thus naming the people in the photos. In supermarkets, shoppers can be photographed and identified as they enter. The supermarket can then change the price of its goods based on the shopper's identity, using digital price labels instead of paper labels. And what about your boss? He or she could now use FRT to monitor where you go and what you do. Your privacy would disappear.

FRT is already here. Like all technology, it has both good and bad points. What is your opinion? Are you happy to allow your face to be recognized wherever you go? Or will you feel like wearing a face mask every time you go shopping?

- (4) 下線部4の意味として最も適切なものを選びなさい。
- (a) パスワードやキーほどには、この技術は安全性を確保できない。
 (b) この技術によって、パスワードやキーと同等の安全性が得られる。
 (c) この技術をパスワードやキーと一緒に使うことによって、安全性がより高められる。
 (d) この技術があれば、パスワードやキーは全く必要ない。
- (5) 下線部5)にあてはまるものは何か。最も適切なものを選びなさい。
- (a) a risk to privacy
 (b) social network profiles
 (c) the shopper's identity
 (d) your boss
- (6) 下線部6)の意味として最も適切なものを選びなさい。
- (a) 価格を示すために、紙の表示とデジタル表示の両方を使って
 (b) 紙の価格表示の代わりにデジタル表示を用いて
 (c) デジタル機器を使って印刷した値札を貼って
 (d) デジタル機器が苦手な人のために、手書きの紙ラベルを用意して
- (7) 本文の内容と一致しないものを選びなさい。
- (a) 駅や公道に設置された顔認証技術によって、一般人でも行方不明者を見つけることができる。
 (b) 中国では FRT と銀行口座をリンクさせて買い物の支払いができる。
 (c) ロシアのアプリを使えば、SNS のプロフィールにリンクして写真の人物の名前を知ることができる。
 (d) 職場の上司は、しよとと思えば、顔認証技術を使って部下の行動を監視することができる。

注: bank account = 銀行口座

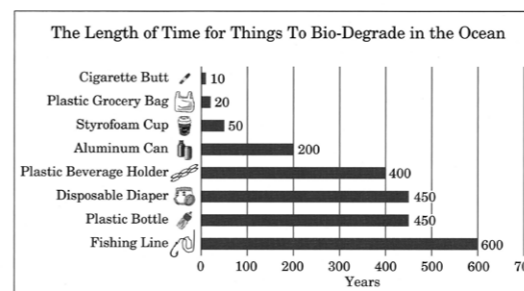
app = アプリケーションソフトウェア (アプリ)

(Newell, A. P. & Yamaguchi, T., *Pleasure in Reading Aloud and Retelling* 問題作成上、一部を改変)

- (1) 下線部1)の説明として最も適切なものを選びなさい。
- (a) the technology to identify us which uses our fingerprints
 (b) the technology that can identify us using our teeth
 (c) the technology for identification by using DNA profiling
 (d) the identification technology that uses our faces
- (2) 下線部2)の具体例としてあてはまらないものを選びなさい。
- (a) FRT makes it easier for the police to catch criminals.
 (b) You need to smile when you buy things at stores.
 (c) People can pay for what they buy by using FRT.
 (d) We can use our face to access our phones and our computers.
- (3) 下線部3)が指すものは何か。最も適切なものを選びなさい。
- (a) Facial Recognition Technology (FRT)
 (b) China
 (c) your bank account
 (d) a convenient way of paying

- (8) 筆者の主張と一致するものを選びなさい。
- (a) Everyone likes Facial Recognition Technology.
 (b) Facial Recognition Technology has both merits and demerits.
 (c) You will be happy to let your face to be recognized everywhere.
 (d) You should wear a face mask whenever you go shopping.

II. 次のグラフは、プラスチック製品が生物分解(bio-degrade)される期間を示している。このグラフを見て、あとに続く英文の()に入れるのに最も適切なものを選びなさい。



(McCarthy, N. 2018. Plastic Can Take 500 Years To Bio-Degrade In The Ocean を参考に作成、一部画像はいらすとや [https://www.irasutoya.com/] のものを使用)

注: styrofoam cup = 発泡スチロールのカップ

- (1) The chart shows the estimated number of years for the eight items to bio-degrade in ().
- (a) the air (b) the cosmic environment
 (c) a marine environment (d) mountains
- (2) It is surprising that () can take the longest time to bio-degrade of the eight items.
- (a) aluminum cans (b) plastic beverage holders
 (c) plastic bottles (d) fishing lines

III. 次の各会話文の()に入れるのに最も適切なものを選びなさい。

- (1) Mother: I had a fever this morning, so I took medicine for a cold.
 Tom: How do you feel now?
 Mother: ().
 Tom: That's good.
- (a) I have a terrible headache, too
 (b) It came down to normal
 (c) My joints ache due to the flu
 (d) It's hard to breathe
- (2) Sue: Who wants to cook dinner tonight?
 Lisa: Let's do rock, paper, scissors.
 Sue: OK! Let's do it.
 Lisa: ... Yes! I won!
 Sue: ().
 Lisa: No way. You lost, so you have to cook.
- (a) I lost. (b) I'd love to.
 (c) Let's order a pizza. (d) What do you want to eat?
- (3) Haru: How did you do on the math test?
 Ben: Not good. How about you?
 Haru: (), but I think I did OK.
- (a) It was as easy as I expected
 (b) It was not so difficult
 (c) It was harder than I expected
 (d) I didn't take the test

- (3) () can take twice as long as cigarette butts to bio-degrade.
- (a) Plastic grocery bags (b) Styrofoam cups
 (c) Aluminum cans (d) Disposable diapers
- (4) Both disposable diapers and () can take longer than plastic beverage holders to bio-degrade.
- (a) cigarette butts (b) plastic grocery bags
 (c) aluminum cans (d) plastic bottles
- (5) One cigarette butt can pollute between 500 and 1,000 liters of water. It takes up to a () to bio-degrade.
- (a) decade (b) century (c) generation (d) millennium

- (4) Midori: When did you get back home from Tokyo?
 Rob: At midnight. It was such a long drive.
 Midori: ()?
 Rob: About eight.
- (a) How many hours did it take
 (b) What time did you come home
 (c) Where did you stop on the way
 (d) Why were you so late
- (5) Aoi: Do you want to have a coffee at Umi's Cafe tomorrow?
 Mary: Sure! Let's meet there at 3:00.
 Aoi: How about 3:30?
 Mary: (). See you then.
- (a) I'm going to pass (b) I'm not available tomorrow
 (c) Sorry about that (d) That works

IV. 次の各日本語に合うように、それぞれの下に与えられた語・語群を使って英文を作った場合、○印のある箇所にはどの語・語群がくるか。それを選びなさい。ただし、文のはじめにくる語も小文字になっている。

- (1) ここでタバコを吸ってはいけない理由をどうかご理解ください。
Please understand _____ ○ _____ from smoking here.
(a) are (b) prohibited (c) you (d) why
- (2) 彼女が人の悪口を言うのを聞いたことがありません。
I've never _____ ○ _____ about others.
(a) badly (b) heard (c) her (d) talk
- (3) 壊れた車を修理してもらうのに、かなりの金額がかかるでしょう。
It will cost a lot of money _____ ○ _____.
(a) have (b) repaired
(c) the broken car (d) to
- (4) 夜歩くにはその地域は危険ですよ。
The areas _____ ○ _____ at night.
(a) walk (b) dangerous (c) to (d) are
- (5) 外で鳴いていた猫がうるさくて、一晩中眠れませんでした。
_____ ○ _____ kept us awake all night long.
(a) a (b) outside
(c) cat (d) meowing loudly
- (6) あなたとの食事を楽しみにしています。
I'm _____ ○ _____ dinner with you.
(a) forward (b) having (c) looking (d) to

— 9 —

(7) どちらかと言えば、車で行きたいです。

- I _____ ○ _____ car.
(a) by (b) go (c) rather (d) would

— 10 —

VI. 次の各説明が示す語句として最も適切なものを選びなさい。

- (1) a person who writes news stories for newspapers, magazines, radio or television
(a) director (b) journalist (c) screenwriter (d) professor
- (2) a vehicle with special equipment, used for taking sick or injured people to a hospital, especially in emergencies
(a) ambulance (b) fire engine (c) police car (d) tanker truck
- (3) nervous or embarrassed meeting other people
(a) ambitious (b) cheerful (c) friendly (d) shy
- (4) to make something or somebody clean using water and, usually, soap or detergent
(a) boil (b) cook (c) wash (d) steam
- (5) a device with a screen on which you can watch programs with moving pictures and sounds
(a) air conditioner (b) printer
(c) shredder (d) television

— 13 —

V. 次の各英文の()に入れるのに最も適切なものを選びなさい。

- (1) It's very kind () you to help me with the difficult task.
(a) for (b) in (c) of (d) with
- (2) I regret () that I cannot accept your offer. It seems too risky.
(a) for saying (b) saying (c) to say (d) to be said
- (3) Water comes to a boil at about 88 () Celsius at the top of Mt. Fuji.
(a) degrees (b) grades (c) marks (d) points
- (4) I won 100 million yen in a lottery! Little () dream of such a thing.
(a) did I (b) didn't I (c) I did (d) I didn't
- (5) () Americans dislike raw fish. So, a California roll contains cucumber, avocado and crab sticks only.
(a) Almost (b) Almost of (c) Most (d) Much of
- (6) Keiko wanted to accomplish her goal at all (). She didn't compromise.
(a) chances (b) costs (c) efforts (d) opportunity
- (7) I know you're driving now. Please remember () me when you get home. Talk to you later.
(a) to call (b) calling (c) called (d) call

— 11 —

(8) Without your support, we () in the project.

- (a) hadn't succeeded
(b) haven't succeeded
(c) would not have been succeeded
(d) would not have succeeded

(9) I cannot thank you () for your kindness. I'll never forget how nice you were.

- (a) enough (b) much (c) over (d) so

(10) I've just baked a chocolate cake. Please help ().

- (a) you (b) your (c) yours (d) yourself

— 12 —

I 次の史料を読んで、設問に対する最適な語句を、下の語群から選び、解答欄の記号をマークしなさい。

人並に 吾も作るを A も無き布肩衣の 海松の如 わわけさがれる 襦袢のみ 肩に打ち懸け 伏魔の 曲塵の内に 直土に 薬解き敷きて …… 楚取る B 良が声は 寝屋戸まで 来立ち呼ばひぬ …
〔万葉集〕、原万葉がな

- 設問① A の植物性繊維を選びなさい。
 設問② 村に当たる里の戸数 B を選びなさい。
 設問③ この歌を作った人物を選びなさい。
 設問④ 下線部Aに示される一般的農民の住居の様式を選びなさい。
 設問⑤ 下線部イの「万葉集」に収録された歌数を選びなさい。
 設問⑥ 農民の苦しみを歌ったこの資料は何と呼ばれているかを選びなさい。
 設問⑦ 「万葉集」の防人歌を歌った人びとはどこに送られたかを選びなさい。
 設問⑧ 「万葉集」は、いつの時代に成立したと考えられるかを選びなさい。
 設問⑨ 現在、「万葉集」を編集したともされる人物を選びなさい。
 設問⑩ 江戸時代に「万葉集」研究した尼崎出身の人物を選びなさい。

- 〔語 群〕
 (a) 大伴家持 (b) 契 沖 (c) 百 戸 (d) 近松門左衛門
 (e) 東 歌 (f) 有間皇子 (g) 高床住居 (h) 奈良時代末期
 (i) 綿 (j) 柿本人麻呂 (k) 絹 (l) 貧窮問答歌
 (m) 陸 奥 (n) 五十戸 (o) 山上憶良 (p) 平安時代末期
 (q) 竪穴住居 (r) 九 州 (s) 約450首 (t) 約4500首

II 次の文章を読んで、空欄 ① ～ ⑩ に最適な語句を、下の語群から選び、解答欄の記号をマークしなさい。

蒙古襲来の前後から、農業の発展がみられ、畿内や西日本一帯では麦を裏作とする ① が普及していった。肥料には刈敷や、 ② と呼ばれる焼いた山野の草や木が使われ、普及してきた ③ の農具や牛馬を利用した農耕も広がっていった。

④ (灯油の原料)などが栽培され、 ⑤ や麻布などが織られた。また鍛冶・鋳物師・ ⑥ などの手工業者は、農村内に住んで商品をつくり、各地を歩いて仕事をした。

荘園・公領の中心地や交通の要地、寺社の門前などには、生産された物資を販売する ⑦ が開かれ、中央のから織物や工芸品を運んでくる ⑧ も現れた。京都・奈良・鎌倉などには高級品を扱う手工業者や商人が集まり、常設の小売店(⑨)も出現した。また京都や奈良の商工業者たちは、やがて同業者の団体である ⑩ を結成するようになった。

- 〔語 群〕
 (a) 振 売 (b) 綿 布 (c) 土 倉 (d) 二毛作
 (e) 紺 屋 (f) 荏胡麻 (g) 問 屋 (h) 木 製
 (i) 二期作 (j) 見世棚 (k) 草木灰 (l) 定期市
 (m) 鉄 製 (n) 干 鰯 (o) 酒 屋 (p) 紺 布
 (q) 座 (r) 粟 種 (s) 仲間掟 (t) 行商人

III 次の文章を読んで、空欄 ① ～ ⑩ に最適な語句を、下の語群から選び、解答欄の記号をマークしなさい。

5代将軍 ① の時代に、幕府の財政は破綻した。そこで ② は、収入増の方策として貨幣の改鋳をおこない、小判の金の含有率を減らした(③ 小判)。貨幣価値の下落は物価の騰貴を引きおこし、人びとの生活を圧迫した。

5代将軍の死後、6代将軍 ④ は、朱子学者の ⑤ らを信任して、政治の刷新をはかろうとした。しかし6代将軍は、在職3年余りで死去し、その後を満3歳で継いだのは7代将軍 ⑥ であった。短命・幼児の将軍が続く中、 ⑤ は將軍職の地位を高めるために、幕府が費用を献上して ⑦ 富家を創設し、天皇家との結びつきを強めた。

また ⑤ は、物価の騰貴をおさえるために金の含有率を上げた ⑧ 小判を鑄造させたり、金銀が流出していた ⑨ 貿易では、流出を防ぐために1715年に ⑩ を発し、貿易を制限したりした。

- 〔語 群〕
 (a) 伏 見 (b) 綱 吉 (c) 開 院 (d) 元 禄
 (e) 家 綱 (f) 慶 長 (g) 正 徳 (h) 吉 宗
 (i) 家 宣 (j) 文 政 (k) 新井白石 (l) 下 田
 (m) 間部詮房 (n) 荻原重秀 (o) 長 崎 (p) 家 継
 (q) 松平信明 (r) 定高貿易仕法 (s) 家 重 (t) 海船互市新例

IV 次の文章を読んで、空欄 ① ～ ⑩ に最適な語句を、下の語群から選び、解答欄の記号をマークしなさい。

20世紀初頭のヨーロッパ大陸では、ドイツとオーストリア=ハンガリーとイタリアを加えた ① と、ロシアとフランスの同盟とのあいだで対立を深めていた。しかしイギリスが、ロシアとフランスの同盟側について ② が成立したことによってヨーロッパの力の均衡は崩れてゆく。

このような中でオーストリア帝位継承者が ③ 年に、親露的なセルビア人に暗殺されると(④)、両国のあいだに戦争がおこりドイツとロシアの戦争に拡大した。この戦争にフランスとイギリスも参戦し、4年にわたる ⑤ が勃発することになる。日本も日英同盟を理由にドイツに宣戦すると、つづいて北京の袁世凱政府に、南満州および東部内蒙古の権益の強化、日中合弁事業の承認などを盛り込んだ ⑥ カ条の要求をつきつけ、大部分をみとめさせた。

日本政府は、対戦中の中国権益の拡大に対する、ヨーロッパ列強各国の反感を緩和するため第2次大隈内閣において ⑦ を締結すると同時に、中国進出に批判的であったアメリカとのあいだにも、地理的接近性ゆえに日本は中国に特殊権益をもつと認める公文が交換された(⑧)。

⑨ は、明治末期からの不況と財政危機とを一挙に吹き飛ばし、日本の繊維産業に輸出の増加をもたらすと同時に、船舶不足もたらした日本の海運業・造船業は空前の好況をむかえた。鉄鋼業では八幡製鉄所の拡張や、満鉄の ⑩ の設立のほか、多くの民間会社の設立を鉄鋼業にもたらした。このような好況は、 ⑩ と呼ばれたが、その底は浅く、成金を生み出す一方で、物価の高騰で苦しむ多数の民衆が存在した。

- 〔語 群〕
 (a) 四カ国条約 (b) 日独伊三国同盟 (c) 第二次世界大戦
 (d) 宝山製鉄所 (e) 三国協商 (f) 第4次日露協約
 (g) 二十五 (h) 三国同盟 (i) 1914
 (j) 二十一 (k) 鞍山製鉄所 (l) 下関条約
 (m) 神武景気 (n) 大菱事件 (o) 第一次世界大戦
 (p) 1920 (q) 三国干渉 (r) 大戦景気
 (s) サライエヴォ事件 (t) 石井・ランシング協定

I 下の文章を読み、設問に答えなさい。

アメリカ合衆国では1880年代に独占資本主義の形成が進展し、1890年代にフロンティアが消滅すると、海外市場を求める声が強まった。マッキンリー大統領は1898年にアメリカ=スペイン戦争を引きおこし、カリブ海と太平洋のスペイン植民地を獲得した。また、中国市場への進出をはかった。次のセオドア=ローズヴェルト大統領も 1 運河の建設をすすめた。

1920年になると、女性参政権が実現し、民主主義が拡大した。共和党政権が続き、「繁栄の20年代」と形容されるように、アメリカの経済は飛躍的な発展をげた。その代表格は自動車産業とハリウッド映画である。しかし、その一方で、伝統的な白人中心の意識が高まり、酒類の製造・販売を禁止する禁酒法や人種によって 2 を制限する 2 法が1924年に制定されるなど保守的な傾向が強くなった。

「永遠の繁栄」を誇るアメリカ経済であったが、過剰生産と投機をもたらしたことから、ニューヨーク株式市場で 3 年10月、株価が暴落して大恐慌がおこった。企業や銀行が倒産し、多くの労働者は失業した。アメリカの恐慌は全世界に広がっていった。

1932年の大統領選挙で民主党の 4 が当選すると、 4 は 5 政策の実施を宣言し、恐慌からのたち直りをはかろうとした。 4 は銀行を救済し、農業調整法(AAA)と全国産業復興法(NIRA)によって生産調整と価格引き上げを指導した。また、テネシー川流域開発公社(TVA)を代表とする公共事業を実施して、失業者を救済した。さらに、労働者の団結権と団体交渉権を保障して、労働組合の発展をうながした。

外交面では 4 は1933年にソ連を承認して国交を開いた。ラテンアメリカ諸国に対しては内政干渉を抑制し、善隣外交をすすめた。他方、ドイツ、イタリア、日本などによる領土や勢力圏の拡大には対抗して、ヴェルサイユ=ワシントン体制をまもろうとした。

ヨーロッパのドイツで恐慌が始まると、アメリカ資本が引きあげられたことから、深刻な影響が広がり、国民生活は麻痺した。ヴァイマル共和国の民主主義も機能が

停止して、政治的に不安定になった。この社会的状況を背景にナチスが台頭、侵略外交が活発になっていく。

1939年9月、ドイツ軍が 6 に侵攻を開始したことで、イギリスとフランスはドイツに宣戦布告して、第二次世界大戦が始まった。ドイツ軍は1940年6月にフランスにも侵攻、パリを占領して降伏させた。1941年6月、ドイツは独ソ 7 条約を無視してソ連を奇襲、独ソ戦が始まった。独ソ戦が始まると、イギリスはソ連と軍事協定を結び、アメリカはソ連に武器や物資をおくった。

一方、日本は1941年12月、連合艦隊によってハワイの 8 を奇襲、アメリカ、イギリスに宣戦した。太平洋戦争の開始とともに、ドイツとイタリアもアメリカに宣戦した。このようにして、日本・ドイツ・イタリアなどの枢軸国とアメリカ・イギリス・ソ連などの連合国の戦争に拡大していった。

1942年後半から、連合国側は総反撃し、アメリカ軍が 9 に勝って以来、太平洋地域の日本軍をつぎつぎと破った。一方、ソ連軍はスターリングラードでドイツ軍を大敗させた。イタリア、ドイツ、日本が無条件降伏し、1945年8月14日、日本は 10 宣言の受諾を決定した。6年間にわたる第二次世界大戦はようやく終結した。

II 下の文章を読み、設問に答えなさい。

ヴェルダナ朝滅亡後、インドは各地に諸勢力が割拠する状態となった。こうしたなか、中央アジアからムスリムの 1 やゴール朝が侵入しはじめ、インドのイスラーム化の幕が切って落とされることとなった。

インドにおける最初のイスラーム政権は、ゴール朝の將軍アイバクがデリーに創始した 2 であった。同王朝をふくめ、その後デリーを本拠地としたイスラーム諸王朝はデリー=スルタン朝と総称される。

デリー=スルタン朝期、イスラーム教は上からの強制ではなく、主として神秘主義教団によって徐々に浸透していった。そして、その影響をうけて、ヒンドゥー教のなかに、 3 が広まっていった。さらに、16世紀初めには、 4 が偶像崇拜や 5 を否定するシク教をとらえた。

デリー=スルタン朝の軍隊はさまざまな民族から構成されていたので、ヒンディー語を文法的基礎としてペルシア語、 6 、アラビア語の語彙を大幅に取り入れた話し言葉が使われた。これがウルドゥー語の起源で、現在、 7 の公用語となっている。このようにして、デリー=スルタン朝期、ヒンドゥー教的要素とイスラーム教的要素が融合したインド=イスラーム文化が成立した。

インド=イスラーム文化は 8 期、さらに成熟の度を加えていった。その代表例としてタージ=マハルをあげることができる。これは第5代皇帝 9 が 10 に建立したものであり、世界で最も美しい建造物の一つとされている。

問1 文中の 1 ~ 10 に最適な語句を、それぞれの選択肢からひとつずつ選びなさい。

- | | |
|----------------|---------------|
| (1) (A) バガン朝 | (B) ブランタジネット朝 |
| (C) ササン朝 | (D) ガズナ朝 |
| (2) (A) アケメネス朝 | (B) プトレマイオス朝 |
| (C) 奴隸王朝 | (D) マムルーク朝 |
| (3) (A) バクティ信仰 | (B) 菩薩信仰 |
| (C) 無神論 | (D) ゼロの概念 |
| (4) (A) ナーナク | (B) ガンディー |
| (C) ネルー | (D) ホメイニ |
| (5) (A) 私有財産 | (B) カースト制度 |
| (C) 資本主義 | (D) 市場経済 |
| (6) (A) トルコ語 | (B) フランス語 |
| (C) ロシア語 | (D) 中国語 |
| (7) (A) メキシコ | (B) パキスタン |
| (C) カザフスタン | (D) スウェーデン |
| (8) (A) ウィンザー朝 | (B) ムラービト朝 |
| (C) ロマノフ朝 | (D) ロマノ帝国 |
| (9) (A) ルイ16世 | (B) ラーマ5世 |
| (C) シャー=ジャハーン | (D) メフメト2世 |
| (10) (A) モスクワ | (B) イスタンブル |
| (C) アグラ | (D) 北京 |

問1 文中の 1 ~ 10 に最適な語句を、それぞれの選択肢からひとつずつ選びなさい。

- | | | | |
|------------------------|-----------------|----------|-------------|
| (1) (A) スエズ | (B) キール | (C) パナマ | (D) アムステルダム |
| (2) (A) 階級 | (B) 移民 | (C) 革命 | (D) 隔離 |
| (3) (A) 1926 | (B) 1927 | (C) 1928 | (D) 1929 |
| (4) (A) フランクリン=ローズヴェルト | | | |
| (B) ネヴィル=チェンバレン | | | |
| (C) ド=ゴール | | | |
| (D) リンカン | | | |
| (5) (A) ニューディール | (B) ネット | | |
| (C) 宥和 | (D) 大躍進 | | |
| (6) (A) トルコ | (B) 中国 | | |
| (C) ホーランド | (D) エチオピア | | |
| (7) (A) プレスト=リトフスク | (B) アイグン | | |
| (C) ネルチンスク | (D) 不可侵 | | |
| (8) (A) ノルマンディー | (B) 真珠湾 | | |
| (C) サンフランシスコ | (D) グアム | | |
| (9) (A) トラファルガーの海戦 | (B) 無制限潜水艦作戦 | | |
| (C) ミッドウェー海戦 | (D) ノルマンディー上陸作戦 | | |
| (10) (A) ボツダム | (B) 再軍備 | | |
| (C) ミュンヘン | (D) バルフォア | | |

問2 下の各問いに答えなさい。

- (イ) 下線イの結果、アメリカが事実上の保護国としたのは次のどこか。
- | | |
|----------|-----------|
| (A) メキシコ | (B) コロンビア |
| (C) カナダ | (D) キューバ |
- (ロ) 下線ロに関連する法律は次のどれか。
- | | |
|------------|-------------|
| (A) ワグナー法 | (B) バンガル分割令 |
| (C) インド統治法 | (D) 審査法 |
- (ハ) 下線ハについて、誤っているものは次のどれか。
- | |
|---|
| (A) ヴェルサイユ条約は国際連盟の設立を決定した。 |
| (B) ヴェルサイユ体制とはヴェルサイユ条約がつくるヨーロッパ中心の国際体制である。 |
| (C) アメリカは日本、イギリス、フランスなど9カ国に呼びかけてワシントン会議を開催した。 |
| (D) ヴェルサイユ=ワシントン体制とは各国によるブロック経済政策のことである。 |

問2 下の各問いに答えなさい。

- (イ) 下線イについて、この王朝の創始者は次の誰か。
- | | |
|----------------|-----------|
| (A) カーリダーサ | (B) 玄奘 |
| (C) チャンドラグプタ2世 | (D) ハルシャ王 |
- (ロ) 下線ロについて、19世紀のシク戦争でシク教徒が戦った相手は次のどれか。
- | | |
|-----------|------------|
| (A) ドイツ軍 | (B) ホルトガル軍 |
| (C) イギリス軍 | (D) タイ軍 |

III 次の各問いに答え、最適なものを(A)~(D)より選びなさい。

- (1) ジャガー崇拜やピラミッド状神殿の建設で知られ、のちの時代のメソアメリカ諸文明の母体となった文明は次のどれか。
- | | |
|------------|------------|
| (A) スキタイ文明 | (B) オルメカ文明 |
| (C) クレタ文明 | (D) エーゲ文明 |
- (2) 道家の祖は次の誰か。
- | | | | |
|--------|---------|--------|--------|
| (A) 孔子 | (B) 周恩来 | (C) 老子 | (D) 班超 |
|--------|---------|--------|--------|
- (3) 前9世紀にフェニキア人の都市国家ティルス市がアフリカ北岸に建設した植民地は次のどれか。
- | | |
|-------------|----------|
| (A) イスラエル王国 | (B) ユダ王国 |
| (C) カルタゴ | (D) バビロン |
- (4) ビカソの代表作は次のどれか。
- | | | | |
|-----------|----------|--------|----------|
| (A) 最後の晩餐 | (B) ひまわり | (C) 神曲 | (D) ゲルニカ |
|-----------|----------|--------|----------|
- (5) ハワイ王朝最後の女王は次の誰か。
- | | |
|---------------|--------------|
| (A) リリウオカラニ | (B) ジャンヌ=ダルク |
| (C) エカチェリーナ2世 | (D) マンサ=ムーサ |

IV 文中の [1] ~ [5] に最適な語句を、それぞれの選択肢からひとつずつ選びなさい。

農業活動が中心であった人類の社会が工業社会へ移行するきっかけとなった [1] は、まずイギリスでおこった。イギリスでは、奴隷貿易を柱とする [2] の三角貿易と国内の商工業の発達により [3] が蓄積されていた。イギリス革命以降、従来の規制や特権が廃止されて多くの起業家があらわれ、工業活動が活発な進展をみせた。

他方、市場向け生産をめざす農業が発達し、 [1] 期に急増する都市人口を支えた。大地主は [4] によって広げた農地を、進んだ技術をもった農業 [3] 家に貸し出して経営させた。この結果、土地を失った多くの農民は農業労働者や、都市に流れ込んで工業労働者となった。

さらに、イギリスは [5] や鉄などの資源にめぐまれ、17世紀以来、自然科学と技術の進歩がめざましく、新しい生産技術が発明されると、これをすみやかに生産活動に応用できる社会が形成されていた。

- (1) (A) 産業革命 (B) ルネサンス (C) 価格革命 (D) 情報革命
(2) (A) バルト海 (B) 北海 (C) 地中海 (D) 大西洋
(3) (A) 労働力 (B) 資本 (C) 食料 (D) 土地
(4) (A) 農奴の解放 (B) 農民一揆 (C) ノーフォーク農法 (D) 開い込み
(5) (A) ダイヤモンド (B) 石炭 (C) 金 (D) クロム鉱石

I 次のAさんとBさんの会話を読み、あとの設問に答えなさい。

Aさん：民主政治にとって選挙が大切なのはわかるけれど世論調査には意味があるのでしょうか。

Bさん：民主政治は「世論による政治」ともいわれ、世論調査も世論を知るために重要だと思います。世論調査の結果、 [1] があまりに低いと政権維持が困難になる場合もありますから。

Aさん：世論はマスメディアの報道によって大きな影響を受けるので、マスメディアは [2] と呼ばれることがありますよね。最近では、マスメディア以外にインターネットなどを通じて様々なメディアが発達してきました。マスメディアの提供する情報を批判的に吟味する手段にもなるけれども、出どころ不明の情報や匿名による不確実な情報にふりまわされる恐れもありますね。

Bさん：さまざまな情報を読み解いて取捨選択をするためにも [3] が求められています。

Aさん：マスメディアが発達する前のコミュニケーションはどのようなものだったのでしょうか。

Bさん：昔は対面でお互いに話をするという [4] がほとんど唯一のコミュニケーションの手段であった時代もあったのですよ。マスメディアの発達によって、手軽に多くの情報を得ることができるようになったのですね。

Aさん：現在、これだけ多くの情報があふれているのに、選挙のときには全般的に投票率が低いことが問題視されていますね。 [5] が一定数いるでしょう。

(4) 本文の下線部⑦の説明として最も適切なものを、選択肢(a)~(d)の中から一つ選びなさい。

- (a) 強固な集票組織の影響が強くなり、政党支持率を上昇させたことが理由の一つである。
(b) 政治状況の変化による支持基盤の変化が無党派層を増加させたことが理由の一つである。
(c) 無党派層が減少して、選挙に行く意味を有権者が失ったことが理由の一つである。
(d) 投票したい候補者や政党がない無党派層が減少したことが理由の一つである。
(5) ICTを漢字でいうときに最も適切なものを、選択肢(a)~(d)の中から一つ選びなさい。
(a) 情報通信技術 (b) 情報革新技術
(c) 情報革命 (d) 情報相互技術

(6) 日本で「高度情報通信ネットワーク社会形成基本法」が制定された年として最も適切なものを、選択肢(a)~(d)の中から一つ選びなさい。

- (a) 1990年 (b) 2000年 (c) 2010年 (d) 2020年

(1) 文中の [1] から [5] にあてはまる最適な語句を、それぞれ選択肢(a)~(d)の中から一つずつ選びなさい。

- 1 (a) 得票率 (b) 内閣支持率 (c) 投票率 (d) 回収率
2 (a) 第一の権力 (b) 第二の権力 (c) 第三の権力 (d) 第四の権力
3 (a) メディア・リテラシーと情報リテラシー
(b) 世論リテラシーと情報リテラシー
(c) メディア・リテラシーとメトリクラシー
(d) エージェンシーと知る権利
4 (a) マス・コミュニケーション
(b) セカンド・コミュニケーション
(c) ファースト・コミュニケーション
(d) パーソナル・コミュニケーション
5 (a) 他人指向型 (b) 名望家
(c) 政治的無関心層 (d) ポピュリスト

(2) 大衆民主主義の説明として最も適切なものを、選択肢(a)~(d)の中から一つ選びなさい。

- (a) 制限選挙の影響により、ポピュリズムが蔓延するようになった。
(b) 普通選挙の実現により、あらゆる名望家層の影響力が飛躍的に拡大した。
(c) 普通選挙の実現により、大衆の動向が政治を左右するようになった。
(d) 制限選挙の影響により、大衆の動向が政治を左右するようになった。

(3) 政治的無関心を「伝統型無関心」と「現代型無関心」に分類した社会学者として最も適切なものを、選択肢(a)~(d)の中から一つ選びなさい。

- (a) マックス・ウェーバー (b) リースマン
(c) ジョン・ロック (d) フロム

II 次の文章を読み、あとの設問に答えなさい。

日本国憲法第24条は [1] 生活における男女平等をうたっており、1979年に女子(女性)差別撤廃条約が採択されたことを契機として、日本でも1985年に男女雇用 [2] 均等法が制定された。同法はその後、女性差別の解消に向けた改正が相次いでなされてきた。しかし、日本の企業などで管理職に占める女性比率は依然として低く、その原因として、古い価値観・慣習などを背景とする目に見えない性差別、すなわち [3] の天井があると指摘されてきた。近年、家族形態の変化が進むなかで、女性の社会進出を一層推進するため、1999年には男女 [4] 社会基本法が制定されている。このほか、差別解消の取り組みとして、日本でも、 [5] 民族支援法(1997年)や、障がい者についても差別解消法などが制定されている。

(1) 文中の [1] ~ [5] にあてはまる最適な語句を、それぞれ選択肢(a)~(d)の中から一つずつ選びなさい。

- 1 (a) 家族 (b) 社会 (c) 政治 (d) 経済
2 (a) 確保 (b) 機会 (c) 基本 (d) 推進
3 (a) グリーン (b) バリア (c) ガラス (d) グレー
4 (a) 共同参画 (b) 共生賛成 (c) 共有参加 (d) 協働五角
5 (a) アイヌ (b) 原住 (c) 沖縄 (d) コリアン

(2) 文中の下線部⑦の説明として最も適切でないものを、選択肢(a)~(d)の中から一つ選びなさい。

- (a) セクシュアル・ハラスメントの防止義務が課されるようになった。
(b) 昇進などの禁止規定に違反しても企業名までは公表されない。
(c) 妊娠・出産などに関するマタニティ・ハラスメントへの対策義務が課されるようになった。
(d) 募集や採用などでの性差別が禁止規定に強化された。

- (3) 文中の下線部①に関連し、以下の記述のうち最も適切なものを、選択肢(a)～(d)の中から一つ選びなさい。
- (a) 明治以来、一貫して法律上、家長制は否定されている。
 (b) 近年、世帯規模が小さくなる小家族化が進んでいる。
 (c) 法律の定めにより、妻や子どもは夫(父)の姓を名乗らなければならない。
 (d) 核家族とは、1人世帯のことである。
- (4) 文中の下線部②の説明として最も適切なものを、選択肢(a)～(d)の中から一つ選びなさい。
- (a) 日本の最近の世論調査で「夫は外、妻は家庭」という考え方への反対が7割を超えている。
 (b) 女性の社会進出を促すため、「ビジネス・ライフ推進憲章」が策定された。
 (c) 公職選挙の候補などに、女性を一定数以上たてることは、クォータ制の一例である。
 (d) 女性の昇進や社会進出のためのポジティブ・アクションは、男性への逆差別にあたるため、日本では法令で禁じられている。
- (5) 文中の下線部③に関連し、以下の記述のうち最も適切なものを、選択肢(a)～(d)の中から一つ選びなさい。
- (a) 国連は現在、「世界人権宣言」を起草している。
 (b) 日本では、戦後、新憲法の制定をまって、「全国水平社宣言」が出された。
 (c) 2007年、国連で「先住民族の権利宣言」が採択された。
 (d) 日本は、「子ども(児童)の権利条約」を批准していない。

III 次のXさんとY先生の会話文を読み、あとの設問に答えなさい。

Xさん：第二次世界大戦後、アメリカとソ連が対立したことは知っているのですが、具体的には何があったのですか。

Y先生：はい。1945年2月のヤルタ会議以降、ソ連が東欧諸国を次々と社会主義国家にしました。1946年には 1 が「鉄のカーテン」演説(フルトン演説)を行います。さらにドイツ占領をめぐって米ソが対立し、 2 年にはドイツの首都ベルリンの封鎖がはじまります。

Xさん：対立は続いたのですか。

Y先生：対立が深刻化する時期も、緩和する時期もあります。緊張関係が緩和された事例として、1955年にはジュネーブ四巨頭会議が行われました。さらに米ソどちらの陣営にも加わらない国々の動きも活発化します。たとえば、1955年には 3 が開かれ、平和十原則が定められました。加えて、1961年には第1回の 4 が開かれます。 5 年には第1回の国連貿易開発会議(UNCTAD)が開催されました。

- (1) 文中の 1 ～ 5 にあてはまる最適な語句を、それぞれ選択肢(a)～(d)の中から一つずつ選びなさい。
- 1 (a) ロイド・ジョージ (b) ド・ゴール
 (c) サッチャー (d) チャーチル
- 2 (a) 1948 (b) 1950 (c) 1952 (d) 1953
- 3 (a) 「平和のための結集」会議 (b) 世界人口会議
 (c) バグウォッシュ会議 (d) バンドン会議
- 4 (a) ASEAN 地域フォーラム (b) 非同盟諸国首脳会議
 (c) 信託統治理事会 (d) 全人代
- 5 (a) 1962 (b) 1964 (c) 1967 (d) 1969

- (6) 文中の下線部④に関連し、以下の記述のうち最も適切でないものを、選択肢(a)～(d)の中から一つ選びなさい。
- (a) 障害者雇用促進法では雇用主に対して、障がい者の一定割合での雇用義務を課していない。
 (b) 日本も、「障害者の権利条約」を批准している。
 (c) 2013年に、いわゆる「障害者差別解消法」が制定された。
 (d) 障がい者や高齢者が、社会で他の人々と同じように生活することをノーマライゼーションという。

- (2) 冷戦における西側の動きについて最も適切でないものを、選択肢(a)～(d)の中から一つ選びなさい。
- (a) アメリカのトルーマン大統領がトルーマン=ドクトリンを打ち出した。
 (b) アメリカのマーシャル国務長官が西欧諸国への援助を計画した。
 (c) 1949年に軍事機構として北大西洋条約機構(NATO)が結成された。
 (d) アメリカは結成当初の北大西洋条約機構(NATO)に加入していない。
- (3) 文中の下線部⑦に参加した国家として最も適切なものを、選択肢(a)～(d)の中から一つ選びなさい。
- (a) 西ドイツ (b) 中国 (c) スイス (d) フランス
- (4) 1950年代の出来事として最も適切でないものを、選択肢(a)～(d)の中から一つ選びなさい。
- (a) 朝鮮戦争の休戦協定 (b) ワルシャワ条約機構の結成
 (c) 「ベルリンの壁」の構築 (d) 日ソ共同宣言の調印
- (5) 文中の下線部⑧の別称について最も適切なものを、選択肢(a)～(d)の中から一つ選びなさい。
- (a) 非核地帯 (b) ILO
 (c) 独立国家共同体 (d) 第三世界
- (6) 1962年に生じたキューバ危機に関する説明として最も適切なものを、選択肢(a)～(d)の中から一つ選びなさい。
- (a) 1963年に、米ソ間のホットラインが廃止された。
 (b) この時のソ連の指導者はスターリンである。
 (c) ソ連がキューバにミサイル基地を建設した。
 (d) 北緯38度線をはさんでアメリカとソ連が対立した。

IV 次の文章を読み、あとの設問に答えなさい。

中華人民共和国(以下、中国とよぶ)は 1 に建国された社会主義の国である。しかしその経済運営については中国流の方法を追求している。1970年代後半には 2 が「改革開放」路線を打ち出したことで、その動きが強まっていく。外国資本を受け入れることが可能となった 3 の設置などはその例といえる。また2001年には 4 にも加盟した。中国経済はこれまで高い経済成長を続けてきており、GDPも非常に大きな伸びを達成している。

中国の対外関係をみると、日本との関係では、1972年に 5 を調印して国交を正常化した。また、香港とマカオが1990年代後半に返還されている。

なお、中国は国連において安全保障理事会の常任理事国であるが、国連での代表権が認められたのは1971年のことである。

- (1) 文中の 1 ～ 5 にあてはまる最適な語句を、それぞれ選択肢(a)～(d)の中から一つずつ選びなさい。
- 1 (a) 1947年 (b) 1948年 (c) 1949年 (d) 1950年
 2 (a) 胡錦濤 (b) 周恩来 (c) 鄧小平 (d) 毛沢東
 3 (a) 海関総署 (b) 経済特区 (c) 新天地 (d) 租界
 4 (a) ADB (b) AIIB (c) ITO (d) WTO
 5 (a) 日中基本条約 (b) 日中共同声明
 (c) 日中共同宣言 (d) 日中平和友好条約

- (2) 文中の下線部⑨の説明として最も適切でないものを、選択肢(a)～(d)の中から一つ選びなさい。
- (a) 社会主義国家として最初に成立したのはソビエト社会主義共和国連邦である。
 (b) 社会主義思想を体系化したのはマルクスである。
 (c) ソビエト社会主義共和国連邦は経済運営の方法として計画経済をとっていた。
 (d) 社会主義では、国(政府)の役割を国防等に限定し経済活動への介入などを最小限に抑えることを原則としている。
- (3) 文中の下線部⑩について、中国が目指している社会を表す言葉として最も適切なものを、選択肢(a)～(d)の中から一つ選びなさい。
- (a) 社会主義混合経済 (b) 社会主義市場経済
 (c) 社会主義資本家経済 (d) 社会主義私有経済
- (4) 文中の下線部⑪の香港・マカオは中国本土とは異なる仕組みが時限的に認められており一国二制度と呼ばれる。この説明として最も適切でないものを、選択肢(a)～(d)の中から一つ選びなさい。
- (a) 高度の自治を許すとされている。
 (b) 資本主義的な経済制度が許されている。
 (c) 特別行政区としてしている。
 (d) 将来的な独立が認められている。
- (5) 文中の下線部⑫のマカオ返還の説明として最も適切なものを、選択肢(a)～(d)の中から一つ選びなさい。
- (a) スペインから1997年に返還された。
 (b) ポルトガルから1997年に返還された。
 (c) スペインから1999年に返還された。
 (d) ポルトガルから1999年に返還された。

- (6) 文中の下線部⑬の説明として最も適切でないものを、選択肢(a)～(d)の中から一つ選びなさい。
- (a) 常任理事国は中国を含む5か国である。
 (b) 非常任理事国は選挙によって選ばれる。
 (c) 非常任理事国の任期は3年である。
 (d) 常任理事国のうち1か国でも反対すれば議決が成立しない。

数学の解答用紙の記入方法

問題文中の 、 などの には、数値または符号 (−, ±) が入る。これらを以下の方法で解答用紙の対応する欄に解答せよ。

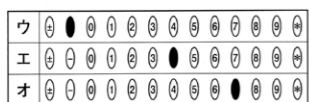
- (1) ア, イ, ウ, … のひとつひとつは、右ページの(4)の場合を除き、それぞれ数字 (0, 1, 2, …, 9) あるいは符号 (−, ±) のいずれかひとつに対応する。それらを解答用紙のア, イ, ウ, … で示された欄にマークせよ。

【例】 に −5 と答えたときは、次のようにマークせよ。



- (2) 分数の形の解答は、すべて既約分数 (それ以上約分できない分数) で答えよ。符号 (−, ±) をつける場合は、分子につけ、分母につけてはいけない。

【例】 に $-\frac{4}{7}$ と答えたときは、次のようにマークせよ。



- (3) 根号を含む形の解答は、根号の中の自然数が最小となる形で答えよ。例えば、

$\sqrt{\text{キ}}$, $\sqrt{\frac{\text{ク}}{\text{ケ}}}$ に $4\sqrt{2}$, $\frac{\sqrt{2}}{2}$ と答えるところを、

$2\sqrt{8}$, $\frac{\sqrt{8}}{4}$ のように答えてはいけない。

− 1 −

- (4) のような2桁の空欄において、1桁の数を答えたいとき、最初の解答欄にその数をマークし、残った不要な解答欄には、 をマークせよ。3桁以上の空欄においても同様に残った不要な欄には、 をマークせよ。

【例】 に 5 と答えたときは、次のようにマークせよ。



- I 次の各問の空欄のア〜シにあてはまる数字または符号を求めよ。分数は既約分数で答えよ。

(1) $x^2+6y^2+5xy+3x+5y-4$
 $= (x + \text{ア}y - \text{イ}) (x + \text{ウ}y + \text{エ})$

(2) $x = \frac{4-\sqrt{7}}{3}$ のとき、 $x^2 + \frac{1}{x^2} = \frac{\text{オカ}}{\text{キ}}$ である。

(3) $5 \leq |2x-1| < 10$ を満たす整数 x は、 個ある。

- (4) 5 個の数値からなる以下のデータがある。
 82, 84, 78, 83, 87

このうち 1 個の数値が誤っていることが判明した。正しい数値に修正したデータから求めた中央値は 84 であり、平均値は 83 である。このとき誤っている数値は であり、その正しい数値は である。

− 3 −

- II グラフの頂点の座標が (2, -4) である 2 次関数 $y=f(x)=ax^2+bx+c$ (ただし、 a, b, c は実数定数) …①を考える。このとき、次の各問の空欄のア〜シにあてはまる数字または符号を求めよ。分数は既約分数で答えよ。

(1) b と c をそれぞれ a を用いて表すと、 $b = \text{アイ}a$,
 $c = \text{ウエ} + \text{オ}a$ である。

(2) $a = \text{カキ}$ のとき、①のグラフは、点 (1, -1) を通る。

(3) $a = \frac{1}{\text{ク}}$ のとき、 $y=f(x)+2x+6$ のグラフと x 軸の共有点の個数はただ 1 つである。

(4) ①のグラフが x 軸と 2 点 ($k, 0$) と ($k+8, 0$) で交わる時、 $k = \text{ケコ}$ である。また、このとき、 $a = \frac{1}{\text{サ}}$ である。

(5) ①のグラフを原点に関して対称移動したグラフの式を $y=g(x)$ とする。
 $a = \frac{1}{\text{シ}}$ のとき、 $y=f(x)-g(x)$ のグラフは、点 (4, 0) を通る。

− 4 −

- III 中が見えない箱 X に、白玉 5 個、赤玉 3 個、青玉 7 個が入っている。このとき、次の各問の空欄のア〜シにあてはまる数字を求めよ。分数は既約分数で答えよ。

(1) 箱 X から無作為に 2 個の玉を同時に取り出す。このとき、取り出される玉が 2 個とも青玉である確率は、 $\frac{\text{ア}}{\text{イ}}$ である。

(2) 箱 X から無作為に 2 個の玉を同時に取り出す。このとき、取り出される玉の両方が白玉以外である確率は、 $\frac{\text{ウ}}{\text{エ}}$ である。

(3) 箱 X から無作為に 4 個の玉を同時に取り出す。このとき白玉が 2 個、青玉が 2 個取り出される確率は、 $\frac{\text{オ}}{\text{カキ}}$ である。

- (4) まず、A 君が箱 X から無作為に 1 個の玉を取り出し、取り出した玉の色を確認することなくポケットにしまう。つぎに、入っている玉の個数が 14 個となった箱 X から B 君が無作為に 1 個の玉を取り出す。

このとき、B 君が白玉を取り出す確率は、 $\frac{\text{ク}}{\text{ケ}}$ である。また、B 君が

取り出した玉が白玉であったとき、A 君が取り出してポケットにしまった玉が赤玉である確率は、 $\frac{\text{コ}}{\text{サシ}}$ である。

− 5 −

- IV 円 O に内接する四角形 ABCD において、 $\cos \angle ABC = \frac{1}{3}$, $AB=2$, $BC=3$,

$CD:DA=3:1$ のとき、次の各問の空欄のア〜シにあてはまる数字を求めよ。分数は既約分数で答えよ。また、根号を含む形の解答は、根号の中の自然数が最小となる形で答えよ。

(1) $AC = \text{ア}$ である。

(2) $\triangle ABC$ の面積は、 $\text{イ} \sqrt{\text{ウ}}$ である。

(3) 円 O の半径は、 $\frac{\text{エ} \sqrt{\text{オ}}}{\text{カ}}$ である。

(4) $CD = \frac{\text{キ} \sqrt{\text{ク}}}{\text{ケ}}$ である。

(5) $BD = \frac{\text{コ} \sqrt{\text{サ}}}{\text{シ}}$ である。

− 6 −

コストの問題は、自分の財布という点になる。現実的に深刻な問題として降りかかる。美は経済の増進可能性が、環境の持続可能性を確保する点に重要な要素となっているわけである。これを挙げて考えれば、現在の経済システムでは、環境生産、大量消費が可能な石油化学素材を使った商品のほうが、持続可能な素材を使用した商品に比べて安く手に入り、そのように化石燃料補助金を得られ、持続可能な素材を使用した商品の競争力を増していくことが、結果的に持続可能な商品の活用につながることも、実感としてわかってくる。

三 つぎの文章を読んで、以下の問いに答えなさい。

Blank grid for writing answers to question 3.

Blank grid for writing answers to question 4.

Blank grid for writing answers to question 5.

Blank grid for writing answers to question 6.

Blank grid for writing answers to question 7.

Blank grid for writing answers to question 8.

Blank grid for writing answers to question 9.

Blank grid for writing answers to question 10.

Blank grid for writing answers to question 11.

Blank grid for writing answers to question 12.

Blank grid for writing answers to question 13.

Blank grid for writing answers to question 14.

Blank grid for writing answers to question 15.

Blank grid for writing answers to question 16.

Blank grid for writing answers to question 17.

Blank grid for writing answers to question 18.

Blank grid for writing answers to question 19.

Blank grid for writing answers to question 20.

④ この文章を読んで感じたことを二百字以内で論じなさい。(ただし、矢印のところから縦書きで書き始めなさい。)

Large grid for writing answers to question 4.

③ 本文中の二重傍線部について、それが意味している内容を具体的に説明しなさい。

Blank grid for writing answers to question 3.

④ 本文中の二重傍線部の日本語の意味を説明しなさい。

Blank grid for writing answers to question 4.

⑤ 文中の傍線部の漢字のよみがなを書きなさい。

Blank grid for writing answers to question 5.

⑥ 本文中の二重傍線部の日本語の意味を説明しなさい。

Blank grid for writing answers to question 6.

⑦ 文中の傍線部の漢字のよみがなを書きなさい。

Blank grid for writing answers to question 7.

⑧ 本文中の二重傍線部について、それが意味している内容を具体的に説明しなさい。

Blank grid for writing answers to question 8.

⑨ 本文中の二重傍線部の日本語の意味を説明しなさい。

Blank grid for writing answers to question 9.

⑩ 文中の傍線部の漢字のよみがなを書きなさい。

Blank grid for writing answers to question 10.

⑪ 本文中の二重傍線部について、それが意味している内容を具体的に説明しなさい。

Blank grid for writing answers to question 11.

⑫ 本文中の二重傍線部の日本語の意味を説明しなさい。

Blank grid for writing answers to question 12.

⑬ 文中の傍線部の漢字のよみがなを書きなさい。

Blank grid for writing answers to question 13.

●AO入学試験(自己アピール型—事前審査課題—)対策

(A日程)

次の2つの課題から1つ選んで作成してください。

課題番号	課題
1	技術の進歩によって、音声翻訳機や通訳機を使って日本語で入力した音声を英訳して出力できます。また、機器に搭載されているカメラで撮影した英文を和訳して画面に表示することが簡単に、しかも安価にできるようになりつつあります。このまま技術が進むのであれば、英語などの外国語を学ぶ必要はなくなってしまうのでしょうか。あなたの考えを述べてください。
2	地域内の住民や近隣住民が助け合うことを共助と呼びます。わが国では今後も巨大地震など、大きな自然災害への備えが必要とされていますが、多くの地域で高齢化が進んでいることから共助を育むことの必要性が指摘されています。このような指摘に関して、あなたの考えを述べてください。

(B日程)

次の2つの課題から1つ選んで作成してください。

課題番号	課題
1	新型コロナウイルスによる感染症が広まる以前、わが国では、マスクのような比較的安価な製品は海外からの輸入に頼っていました。しかし、マスクの必要性が海外でも急速に高まると、国内は一時的にマスク不足の状態になりました。このような経験を踏まえて、急に品不足になると困るモノについては、今後どのような対応をとるべきでしょうか。あなたの考えを述べてください。
2	スマートフォンが未成年者にも普及するなか、SNS（会員制交流サイト）をめぐるトラブルが増えています。警察庁によると、SNSをきっかけに犯罪に巻き込まれた未成年者は増加傾向にあります。未成年者がSNSを利用するうえでどのような注意が必要でしょうか。あなたの考えを述べてください。

※A日程、B日程とも、所定の原稿用紙に自筆で作成。(800字から1000字)

④このページに掲載されている事前審査課題は2022年度の内容です。

2023年度AO入学試験(自己アピール型)の事前審査を希望する方は、必ず所定の日程に事前審査課題の確認をしてください。

A日程：2022年7月10日(日) B日程：2022年9月26日(月)

2023 ENTRANCE EXAMINATION GUIDE

2022年度 入学試験問題 解答

CONTENTS

公募制入学試験対策 P.90

一般入学試験対策 P.91

公募制入学試験(国語)対策 解答

設問	配点	正答
(一) ①	4	b
②	4	d
③	4	c
④	4	a
⑤	4	b
⑥	4	b
⑦	4	c
⑧	4	d
⑨	4	a
⑩	4	c
⑪	3	c
⑫	3	b
⑬	3	a
⑭	3	d
⑮	3	b
⑯	3	c
⑰	3	a

設問	配点	正答
(二) ⑱	3	a
⑲	3	b
⑳	3	c
㉑	3	d
㉒	3	c
㉓	3	b
(三) ㉔	3	a
㉕	3	b
㉖	3	c
㉗	3	c
㉘	3	b
㉙	3	a
㉚	3	d

公募制入学試験(英語)対策 解答

設問	配点	正答
I (1)	2	(b)
(2)	2	(a)
(3)	2	(c)
(4)	2	(a)
(5)	2	(a)
(6)	2	(b)
(7)	2	(c)
(8)	2	(b)
(9)	2	(c)
(10)	2	(b)
II (1)	2	(a)
(2)	2	(b)
(3)	2	(b)
(4)	2	(a)
(5)	2	(b)
III (1)	2	(a)
(2)	2	(a)
(3)	2	(a)
(4)	2	(b)
(5)	2	(c)

設問	配点	正答
IV (1)	3	(c)
(2)	3	(b)
(3)	3	(b)
(4)	3	(c)
(5)	3	(a)
V (1)	3	(b)
(2)	3	(a)
(3)	3	(a)
(4)	3	(a)
(5)	3	(b)
VI (1)	3	(a)
(2)	3	(a)
(3)	3	(b)
(4)	3	(b)
(5)	3	(a)
(6)	3	(c)
(7)	3	(b)
(8)	3	(a)
(9)	3	(c)
(10)	3	(a)

公募制入学試験(簿記・会計)対策 解答

設問	配点	正答
(I) ①	5	(y)
②	5	(a)
③	5	(m)
④	5	(t)
⑤	5	(e)
⑥	5	(w)
⑦	5	(u)
⑧	5	(s)
⑨	5	(h)
⑩	5	(x)

設問	配点	正答
(II) ①	5	(h)
②	5	(s)
③	5	(q)
④	5	(e)
⑤	5	(i)
⑥	5	(f)
⑦	5	(w)
⑧	5	(b)
⑨	5	(c)
⑩	5	(x)

公募制入学試験(現代社会)対策 解答

設問	配点	正答	
I (1)	1	3	(I)
(2)	3	3	(N)
(3)	3	3	(K)
(4)	3	3	(C)
(5)	3	3	(O)
(2)	①	5	(D)
(2)	②	5	(A)
II (1)	1	3	(G)
(2)	2	3	(L)
(3)	3	3	(H)
(4)	3	3	(F)
(5)	3	3	(N)
(2)	①	5	(C)
(2)	②	5	(C)

設問	配点	正答	
III (1)	1	3	(K)
(2)	3	3	(I)
(3)	3	3	(E)
(4)	3	3	(B)
(5)	3	3	(N)
(2)	①	5	(C)
(2)	②	5	(C)
IV (1)	1	3	(M)
(2)	2	3	(G)
(3)	3	3	(J)
(4)	3	3	(C)
(5)	3	3	(F)
(2)	①	5	(B)
(2)	②	5	(D)

公募制入学試験(日本史)対策 解答

設問	配点	正答
I ①	3	(p)
②	3	(s)
③	3	(c)
④	3	(q)
⑤	3	(t)
⑥	3	(h)
⑦	3	(n)
⑧	3	(f)
⑨	3	(j)
⑩	3	(i)
II ①	2	(n)
②	2	(o)
③	2	(r)
④	2	(t)
⑤	2	(q)
⑥	2	(a)
⑦	2	(i)
⑧	2	(l)
⑨	2	(h)
⑩	2	(g)

設問	配点	正答
III ①	3	(g)
②	3	(f)
③	3	(s)
④	3	(d)
⑤	3	(q)
⑥	3	(l)
⑦	3	(a)
⑧	3	(b)
⑨	3	(r)
⑩	3	(i)
IV ①	2	(k)
②	2	(b)
③	2	(t)
④	2	(d)
⑤	2	(e)
⑥	2	(o)
⑦	2	(h)
⑧	2	(j)
⑨	2	(p)
⑩	2	(f)

公募制入学試験(数学)対策 解答

設問	配点	正答
ア	5	⑧
イ	5	②
ウ	5	⑧
エ	5	⑨
オ	5	⑥
カ	5	③
キ	5	④
ク	5	⑤
ケ	5	⑥
コ	5	⑩

設問	配点	正答
サ	5	③
シ	5	⑦
ス	5	④
セ	5	⑥
ソ	5	③
タ	5	⑥
チ	5	③
ツ	5	①
テ	5	⑦
ト	5	⑧

一般入学試験(国語)対策 解答

設問	配点	正答
(一) 問一 a	3	③
b	3	⑨
c	3	⑥
d	3	⑩
e	3	⑧
f	3	②
g	3	⑦
h	3	⑤
問二 a	3	③
b	3	②
c	3	③
d	3	④
問三	4	③
問四	5	④
問五	5	②
問六	5	④
問七	5	③

設問	配点	正答
(二) 問一 a	3	③
b	3	②
c	3	④
d	3	②
e	3	③
問二	5	②
問三	5	③
問四	5	④
問五	5	④
問六	5	③

設問	配点	正答
I (1)	3	(d)
(2)	3	(b)
(3)	3	(a)
(4)	3	(c)
(5)	3	(a)
(6)	3	(b)
(7)	3	(a)
(8)	3	(b)
II (1)	3	(c)
(2)	3	(d)
(3)	3	(a)
(4)	3	(d)
(5)	3	(a)
III (1)	2	(b)
(2)	2	(c)
(3)	2	(c)
(4)	2	(a)
(5)	2	(d)

設問	配点	正答
IV (1)	3	(a)
(2)	3	(d)
(3)	3	(c)
(4)	3	(c)
(5)	3	(d)
(6)	3	(d)
(7)	3	(b)
V (1)	2	(c)
(2)	2	(c)
(3)	2	(a)
(4)	2	(a)
(5)	2	(c)
(6)	2	(b)
(7)	2	(a)
(8)	2	(d)
(9)	2	(a)
(10)	2	(d)
VI (1)	2	(b)
(2)	2	(a)
(3)	2	(d)
(4)	2	(c)
(5)	2	(d)

一般入学試験(日本史)対策 解答

設問	配点	正答
I	①	2 (i)
	②	2 (n)
	③	2 (o)
	④	2 (q)
	⑤	2 (t)
	⑥	2 (l)
	⑦	2 (r)
	⑧	2 (h)
	⑨	2 (a)
	⑩	2 (b)
II	①	2 (d)
	②	2 (k)
	③	2 (m)
	④	2 (f)
	⑤	2 (p)
	⑥	2 (e)
	⑦	2 (l)
	⑧	2 (t)
	⑨	2 (j)
	⑩	2 (q)

一般入学試験(世界史)対策 解答

設問	配点	正答
III	①	3 (b)
	②	3 (n)
	③	3 (d)
	④	3 (i)
	⑤	3 (k)
	⑥	3 (p)
	⑦	3 (c)
	⑧	3 (g)
	⑨	3 (o)
	⑩	3 (t)
IV	①	3 (h)
	②	3 (e)
	③	3 (i)
	④	3 (s)
	⑤	3 (o)
	⑥	3 (j)
	⑦	3 (f)
	⑧	3 (t)
	⑨	3 (k)
	⑩	3 (r)

入学試験要項の入手方法

併願制の入学試験を希望される方などは、以下の方法で入学試験要項をご請求ください。(9月上旬予定)
また、本学公式Webサイトでの閲覧も可能です。



本学公式Webサイトから請求する
<https://ouc.daishodai.ac.jp>



テレメールを利用する
下記のアドレスにアクセスし、資料請求番号を入力してください。
<https://telemail.jp/shingaku/contents/index.php>
資料請求番号:160034



広報入試課に電話で請求する
☎06-6787-2424 (広報入試課直通)

一般入学試験(現代社会・政治経済)対策 解答

設問	配点	正答
I	(1)	1 2 (b)
		2 2 (d)
		3 2 (a)
		4 2 (d)
		5 2 (c)
	(2)	3 (c)
	(3)	3 (b)
	(4)	3 (b)
	(5)	3 (a)
	(6)	3 (b)
	II	(1)
		2 2 (b)
		3 2 (c)
		4 2 (a)
		5 2 (a)
(2)		3 (b)
(3)		3 (b)
(4)		3 (c)
(5)		3 (c)
(6)		3 (a)

一般入学試験(数学)対策 解答

設問	配点	正答
III	(1)	1 2 (d)
		2 2 (a)
		3 2 (d)
		4 2 (b)
		5 2 (b)
	(2)	3 (d)
	(3)	3 (d)
	(4)	3 (c)
	(5)	3 (d)
	(6)	3 (c)
	IV	(1)
		2 2 (c)
		3 2 (b)
		4 2 (d)
		5 2 (b)
(2)		3 (d)
(3)		3 (b)
(4)		3 (d)
(5)		3 (d)
(6)		3 (c)

■オープンキャンパスについて

オープンキャンパスに参加して、大商大の魅力を直接感じてください。
大商大が大好きな学生スタッフたちが、大学の魅力を伝えます。

夏 の オープンキャンパス	7/10(日)・7/17(日) 7/31(日)・8/6(土) 8/21(日)・8/27(土)	学びまるわかり オープンキャンパス	5/15(日)・5/29(日)
		AO入試対策 オープンキャンパス	6/19(日)
		秋のオープンキャンパス	10/2(日)
		一般入試対策 オープンキャンパス	12/18(日)
		春のオープンキャンパス	2023年 3/12(日)

※詳しくは本学公式Webサイトをご確認ください。

■Webオープンキャンパスについて

リアルなオープンキャンパスとは別に、オンライン上でも大商大の魅力を発信。
映像コンテンツやWeb 模擬面接・個別相談会などから、本学への理解を深めてください。

詳しくは
こちらから

